

ශ්‍රී ලංකා විභාග දෙපාර්තමේන්තුව / இலங்கைப் பரீட்சைத் திணைக்களம் / Department of Examinations, Sri Lanka

අධ්‍යයන පොදු සහතික පත්‍ර (උසස් පෙළ) විභාගය, 1997 අගෝස්තු (නව නිර්දේශය)
 සංකීර්ණ බොහෝමයෙන් පාලන ක්‍රමය, 1997 ඉංග්‍රීසි (පුනීය පාලන ක්‍රමය)
 General Certificate of Education (Adv. Level) Examination, August 1997 (New Syllabus)

රසායන විද්‍යාව I
 இரசாயனவியல் I
 Chemistry I

02	
S	I

පැය දෙකයි / இரண்டு மணி / Two hours

වැදගත් : මේ ප්‍රශ්න පත්‍රය කඩදාසි දෙකකින් යුක්ත වේ. පිළිතුරු දැවැන්දීමට පෙර ඒවා පිටු අංක අනුව පිළියෙල කර ගන්න.

උත්තර පත්‍රයේ දක්වා ඇති ජ්‍යාමයේ ඔබේ විභාග අංකය ලියන්න.
 ගණක යන්ත්‍ර භාවිතයට ඉඩ දෙනු නො ලැබේ.

මේ පත්‍රයේ ප්‍රශ්න සියල්ලට ම පිළිතුරු දැවැන්දීමට ඔබ වැයම් කළ යුතු ය. එක් එක් ප්‍රශ්නයට එකිනෙකට වෙනස් ප්‍රතිචාර පහක් ඇති නමුත් එකට පිළිතුර ඉන් එකක් පමණකි. ප්‍රශ්නයට හොඳ ම පිළිතුර භාවිතයට ඔබ එක් ප්‍රතිචාරයක් තෝරා ගත් පසු එය උත්තර පත්‍රයේ දක්වන උපදෙස් පරිදි ලකුණු කරන්න. එහෙත් සිසියම් ප්‍රශ්නයක් අපහසු බව දැනගෙනත් එය මග හැර දෙවනු ව සලකා බැලීමට කල නොහැක.

$$\text{සාපේක්ෂ වායු නියතය, } R = 8.314 \text{ J K}^{-1} \text{ mol}^{-1}$$

දැ. ඉ. ආංශික හෝඩියේ අකුරු පහක සඳහන් අවට දෙන අඩුවත් කෙටි පොදුම් වශයෙන් භාවිත කර ඇත.

aq = ස්ලීය

C = පෙල්සියස් හෝ සෙන්ටිග්‍රේඩ් හෝ කුලෝම්

g = වායු

l = ද්‍රව

mol dm⁻³ = සහ වෙසිම්මරයට මවුළු

s = සත

වෙනත් කෙටි පොදුම් සඳ පමණික භාවිතයට අනුච ම වේ.

- පරමාණුක ක්‍රමාංකය 34 වන මූලද්‍රව්‍යයේ ප්‍රධාන සංයුජකය
 (1) 2 සහ 4 වේ. (2) 2 සහ 6 වේ. (3) 1 සහ 3 වේ. (4) 2 සහ 3 වේ. (5) 3 සහ 5 වේ.
- ඉහළ ම අයනික ලක්ෂණය ඇත්තේ මින් කුමන සංයෝගයට ද?
 (1) LiCl (2) HF (3) LiBr (4) RbCl (5) HI
- ස්ලීය මෙතනෝල් ද්‍රාවණයක ධාරිතාවය, බර අනුව, 10% වේ. කාබන්, හයිඩ්‍රජන් සහ ඔක්සිජන් යන මේවායේ සාපේක්ෂ පරමාණුක ස්කන්ධ පිළිවෙලින් 12 , 1 සහ 16 වේ නම්, මෙම ද්‍රාවණයේ මෙතනෝල් මවුළු භාගය
 (1) 0.1111 වේ. (2) 0.8889 වේ. (3) 0.0588 වේ. (4) 0.9412 වේ. (5) 0.0625 වේ.
- පොස්පරස්හි රසායන සම්බන්ධයෙන් වන මින් කුමන ප්‍රකාශය සත්‍ය වේ ද?
 (1) H₃PO₃ අණුවෙහි O-H බන්ධන කුහක් තිබේ.
 (2) H₃PO₃ අණුවෙහි O-H බන්ධන දෙකක් තිබේ.
 (3) H₃PO₂ අණුවෙහි O-H බන්ධන දෙකක් තිබේ.
 (4) පොස්පරස් ස්වද්‍රව්‍යීය සමහ ප්‍රතික්‍රියා නො කරයි.
 (5) පොස්පරස් ස්ලීය සමහ ප්‍රතික්‍රියා කරයි.
- C₂H₄Cl₂ යන අණුක සූත්‍රය ඇති සරල-දම් කාබනික සංයෝගය
 (1) සමාවයවීක 4 ක් වශයෙන් පවතී. (2) සමාවයවීක 5 ක් වශයෙන් පවතී.
 (3) සමාවයවීක 6 ක් වශයෙන් පවතී. (4) සමාවයවීක 7 ක් වශයෙන් පවතී.
 (5) සමාවයවීක 8 ක් වශයෙන් පවතී.

[අනෙක් පිට බලන්න.

6. පවිත්‍රය ලෙස හැසිරෙන වායුවකින් 0.80 mol උෂ්ණත්වය 300 K හා $4.157 \times 10^5 \text{ N m}^{-2}$ පීඩනය යටතේ සංවෘත භාජනයක් තුළ තිබේ. මෙම භාජනයේ පරිමාව

- (1) $480 \times 10^{-5} \text{ m}^3$ වේ. (2) $480 \times 10^{-3} \text{ dm}^3$ වේ. (3) $720 \times 10^{-5} \text{ m}^3$ වේ.
 (4) $720 \times 10^{-3} \text{ dm}^3$ වේ. (5) $960 \times 10^{-5} \text{ m}^3$ වේ.

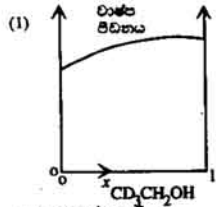
7. X නමැති අක්ෂරිත සංයෝගය තඹය හයිඩ්‍රොක්සොලීන් අම්ලය සමඟ ප්‍රතික්‍රියා කරනු ලබන අවස්ථාවක වර්ණවත් ද්‍රාවණයක් ලැබුණි. මෙම වායුව ප්‍රියා හයිඩ්‍රජන් පරිපූර්ණ ද්‍රාවණයක් තුළට යැවූ විට, අවස්ථාවක් ලැබුණි. ඉහත සඳහන් වර්ණවත් ද්‍රාවණයට ප්‍රියා ඇමෝනියා වැඩිපුර එකතු කළ විට, වර්ණවත් අවස්ථාවක් ලැබුණි. මින් කුමක්, X විය හැකි ද?

- (1) $\text{Fe}(\text{NO}_3)_3$ (2) $\text{Cr}_2(\text{SO}_4)_3$ (3) $\text{Cr}_2(\text{CO}_3)_3$ (4) CuSO_4 (5) $\text{Cu}(\text{NO}_2)_2$

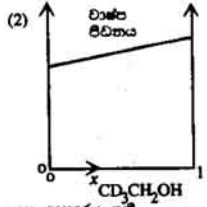
8. ප්‍රියා $\text{Pb}(\text{NO}_3)_2 / \text{HNO}_3$

- (1) $\text{ClCH} = \text{CHCH}_2\text{COBr}$ සමඟ අවස්ථාවක් දෙයි.
 (2) $\text{BrCH}_2\text{CH}_2\text{COOH}$ සමඟ අවස්ථාවක් දෙයි.
 (3) $\text{I}_2\text{CHCH}_2\text{COCH}_2\text{CH}_2\text{Br}$ සමඟ අවස්ථාවක් දෙයි.
 (4) $\text{C}_6\text{H}_5\text{I}$ සමඟ අවස්ථාවක් දෙයි.
 (5) ඉහත සඳහන් කිසිවක් සමඟ අවස්ථාවක් නො දෙයි.

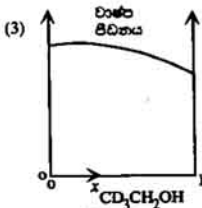
9. $\text{CD}_3\text{CH}_2\text{OH}$ සහ $\text{DCH}_2\text{CH}_2\text{CH}_2\text{OH}$ යන මේවායින් සමන්විත ද්‍රව්‍යේ සංයුතියේ වාණය පිළිබඳව පරිලපනය



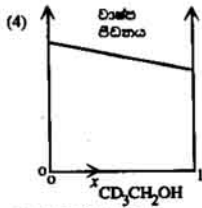
යන ආකාරය ගනී.



යන ආකාරය ගනී.



යන ආකාරය ගනී.



යන ආකාරය ගනී.

(5) ඉහත දක්වන කිසිම ආකාරයක් නො ගනී.

10. ස්වාභාවික ව පවතින ක්ලෝරීන්හි $^{35}_{17}\text{Cl}$ සමස්ථානිකය 75% ද $^{37}_{17}\text{Cl}$ සමස්ථානිකය 25% ද තිබේ. ස්වාභාවික ව පවතින ක්ලෝරීන්හි සාපේක්ෂ පරමාණුක ස්කන්ධය

- (1) 36 වේ. (2) 35.51 වේ. (3) 35.47 වේ. (4) 36.5 වේ.
 (5) දී ඇති දත්තවලින් නිරවද්‍ය ව ගණනය කළ නො හැකි වේ.


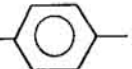
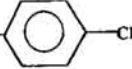
11. $^{\text{CaF}}^-$ යන කැල්සියම් සංයෝගයෙහි දැවිල් ගන්තිය ගණනය කිරීම සඳහා

- (1) කැල්සියම්හි ඔක්සිජන් අවස්ථාව ගන්තිය අවශ්‍ය වේ.
 (2) කැල්සියම්හි පසුබිටු අවස්ථාව ගන්තිය අවශ්‍ය වේ.
 (3) ප්‍රොටෝනික පසුබිටු අවස්ථාව ගන්තිය අවශ්‍ය වේ.
 (4) $\text{F}(\text{g}) + 2\text{e}^- \rightarrow \text{F}^{2-}(\text{g})$ යන ප්‍රියාවලියට අදාළ සම්මත එන්තැල්පි විචල්‍යතාව අවශ්‍ය වේ.
 (5) ඉහත කිසිවක් අවශ්‍ය නො වේ.

12. ජලීය H_2O_2 හවුච් දී මින් කුමක් රසායනික විචර්යාසයකට භාජනය නො වේ ද?

- (1) NH_4MnO_4 / කහුන HCl (2) $NaMnO_4$ / කහුන HNO_3
 (3) MnO_2 / කහුන H_2SO_4 (4) MnO_2 (5) HI

13. Y නමැති කාබනික සංයෝගය ජලීය සොඩියම් හයිඩ්‍රොක්සයිඩ්හි ද්‍රවණය වේ. එය මූලික ප්‍රතිකාරකය සමඟ අවක්ෂේපයක් ලැබේ. එය හේලි-ද්‍රාවණය ඔක්සිකරණය කරයි. Y වීමට වඩාත් ම ඉඩ ඇත්තේ මින් කුමන එකට ද?

- (1) $HOOCCH_2CH_2CH_2COCH_3$ (2)  CH_2CH_2CHO
 (3)  $COCH_2CH_3$ (4)  CH_2CHO
 (5) $HOCH_2CH_2CH_2CH_2CH_2CH_2CHO$

14. මින් කුමන එකට වීභල ම අයනික අරය සිංඛි ද?

- (1) S^{2-} (2) Na^+ (3) F^- (4) O^{2-} (5) Mg^{2+}

15. මූලද්‍රව්‍යයක සලළු අනුපාත අයනීකරණ ශක්ති හත පිළිවෙලින් මෙසේ ය: 1018, 1910, 2919, 4972, 6280, 21276 ක්‍ය 25403 $kJ\ mol^{-1}$ මේ මූලද්‍රව්‍යය.

- (1) ආවර්තිතා වගුවේ 2 කාණ්ඩයට අයත් වේ.
 (2) ආවර්තිතා වගුවේ 3 කාණ්ඩයට අයත් වේ.
 (3) ආවර්තිතා වගුවේ 4 කාණ්ඩයට අයත් වේ.
 (4) ආවර්තිතා වගුවේ 5 කාණ්ඩයට අයත් වේ.
 (5) ආවර්තිතා වගුවේ 6 කාණ්ඩයට අයත් වේ.

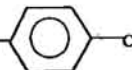
16. ආම්ලික ද්‍රව්‍ය මගින් ඇති වන සවිසරීය දූෂණය සම්බන්ධයෙන් වන මින් කුමන ප්‍රකාශය වඩාත් ම උචිත වේ ද?

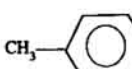
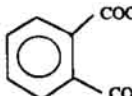
- (1) N_2 වැදගත් සාධකයක් වේ. (2) O_2 වැදගත් සාධකයක් වේ.
 (3) හල් අලුරු කහ O_2 වැදගත් සාධක වේ. (4) H_2O වැදගත් සාධකයක් වේ.
 (5) ඉහත සඳහන් සියල්ල ම වැදගත් සාධක වේ.

17. මින් කුමන එක ඇපටයිට් සමඟ වඩාත් ම සමීප ලෙස සම්බන්ධ වේ ද?

- (1) Ca_2PO_4Cl (2) $Ca_3PO_4F_3$ (3) $Ca_3(PO_4)_3F$
 (4) $CaMgPO_4F$ (5) $Ca_2MgPO_4F_2Cl$

18. මෙර්ලින් නිපදවීම සඳහා මින් කුමක් අවශ්‍ය නො වේ ද?

- (1) $HOCH_2CH_2OH$ (2)  $COOH$

- (3)  CH_3 (4) $CH_2=CH_2$ (5)  $COOH$

19. පරමාණුක න්‍යෂ්ටියේ කරම ප්‍රථමයෙන් ම නිර්ණය කරනු ලැබුවේ

- (1) α -අංශු ප්‍රතිරණය භාවිතයෙනි.
 (2) β -අංශු ප්‍රතිරණය භාවිතයෙනි.
 (3) අවම වශයෙන් ඉලෙක්ට්‍රෝන භාවිත කිරීමෙනි.
 (4) නියුට්‍රෝන කඳුම්බ භාවිත කිරීමෙනි.
 (5) α -අංශු අවශෝෂණය භාවිතයෙනි.



20. හයිඩ්රොකර්බෝන සම්බන්ධයෙන් වන මින් කුමන ප්‍රකාශය වඩාත් ම උචිත වේ ද?

- (1) 1-හයිඩ්රො ව්‍යුත්පන්නය සහ 3-හයිඩ්රො ව්‍යුත්පන්නය යන මේවායේ මිශ්‍රණයක් ලැබේ.
- (2) 2-හයිඩ්රො ව්‍යුත්පන්නය සහ 3-හයිඩ්රො ව්‍යුත්පන්නය යන මේවායේ මිශ්‍රණයක් ලැබේ.
- (3) 2-හයිඩ්රො ව්‍යුත්පන්නය සහ 4-හයිඩ්රො ව්‍යුත්පන්නය යන මේවායේ මිශ්‍රණයක් ලැබේ.
- (4) 4-හයිඩ්රො ව්‍යුත්පන්නය ලැබේ.
- (5) 2-හයිඩ්රො ව්‍යුත්පන්නය ලැබේ.

21. Z නමැති අනාචණික සංයෝගයෙහි ස්වය උාවණයකට NH_4OH සහ NH_4CNS එකතු කර, ප්‍රතික්‍රියා මිශ්‍රණය මිනිත්තු කිහිපයක් තිබෙන්නට ඉඩ හරින ලදී. ඉන් පසු, මෙම ප්‍රතික්‍රියා මිශ්‍රණය තනුක සල්පියුරික් අම්ලය මගින් ආම්ලික කරන ලදී. මෙයින් රතු උාවණයක් ලැබුණි. Z එමට වඩාත් ම ඉඩ ඇත්තේ මින් කුමන එකට ද?

- (1) NiSO_4 (2) $\text{Cr}_2(\text{SO}_4)_3$ (3) $\text{Mn}(\text{NO}_3)_2$ (4) $\text{K}_4\text{Fe}(\text{CN})_6$ (5) FeSO_4

22. 0.1 mol dm^{-3} වන ස්වය NaOH උාවණයකින් 50.0 cm^3 , 0.1 mol dm^{-3} වන ස්වය CH_3COOH උාවණයකින් 100.0 cm^3 සමඟ මිශ්‍ර කරන ලදී. මෙම මිශ්‍රණයේ pH අගය 4.75 විය. ඉහත මිශ්‍රණයට ස්වය 0.1 mol dm^{-3} KOH උාවණයකින් 1.0 cm^3 එකතු කරන ලදී. අවසාන වශයෙන් ලැබෙන උාවණයේ pH අගය

- (1) 4.90 හෙත් වැඩි එමට ඉඩ ඇත. (2) 4.70 හෙත් අඩු එමට ඉඩ ඇත.
- (3) 4.65 හෙත් අඩු එමට ඉඩ ඇත. (4) 4.60 හෙත් අඩු එමට ඉඩ ඇත.
- (5) 4.75 ලෙස නිසඟ ව පැවතීමට ඉඩ ඇත.

23. P, Q, R සහ S යන අම්ල-ලැන්ම දර්ශක හතරක වර්ණ-විචල්‍යතය pH පරාස සහන වගුවෙහි දක්වා ඇත.

දර්ශකය	වර්ණ - විචල්‍යතය pH පරාසය
P	3.9 - 5.1
Q	4.0 - 5.4
R	4.7 - 6.3
S	8.3 - 9.1

0.1 mol dm^{-3} ස්වය NH_3 උාවණයක් සහ 0.1 mol dm^{-3} ස්වය HClO_4 උාවණයක් අතර අනුමාපනය සම්බන්ධයෙන් වන මින් කුමන ප්‍රකාශය වඩාත් ම උචිත වේ ද?

- (1) මේ අනුමාපනය සඳහා Q සුදුසු දර්ශකයක් වේ.
- (2) මේ අනුමාපනය සඳහා P සහ Q සුදුසු දර්ශක වේ.
- (3) මේ අනුමාපනය සඳහා S සුදුසු දර්ශකයක් වේ.
- (4) මේ අනුමාපනය සඳහා P, Q සහ R සුදුසු දර්ශක වේ.
- (5) මේ අනුමාපනය සඳහා Q, R සහ S සුදුසු දර්ශක වේ.

24. A නමැති කාබනික සංයෝගය සාන්ද්‍ර HCl සමඟ නවවා සිසිල් වන්නට ඉඩ හැරී වීම, B නමැති සුදු ස්වච්ඡි කහයක් ලැබුණි. B හෙරා වෙන් කර, ජලයෙන් සෝදා, ඉන් පසු NaHCO_3 උාවණයක් සමඟ ප්‍රතික්‍රියා කර වූ වීම, වායු බුබුරු මුක්ත විය. පෙරහයට NaNO_2 එකතු කර, එය ස්වය NH_3 මගින් උද්දීන කරන ලදී. මෙම උද්දීන උාවණයට පිරෝමීන් දියර එකතු කළ විට සුදු අවන්ෂේපයක් ලැබුණි. මින් කුමක් A විය හැකි ද?

- (1) $\text{C}_6\text{H}_5\text{NHCOCH}_2\text{CH}_3$ (2) $\text{CH}_3\text{CH}_2\text{CH}_2\text{NHCOC}_6\text{H}_5$
- (3) $\text{C}_6\text{H}_5\text{NHCOC}_6\text{H}_5$ (4) $(\text{C}_6\text{H}_5)_2\text{NCOCH}_2\text{H}_5$
- (5) $(\text{CH}_3)_3\text{CNHCOC}_6\text{H}_5$

25. එකීන්ටලින් ආරම්භ කරමින් $\text{H}_2\text{NCH}_2\text{CH}_2\text{CH}_2\text{CH}_2\text{NH}_2$ යන සංයෝගය සංශුද්‍රණය කිරීමට අවශ්‍ය වී තිබේ. මේ සඳහා ඉතාමත් ම උචිත වන ප්‍රථම පියවර නම්

- (1) එකීන් ස්වය සල්පියුරික් අම්ලය සමඟ ප්‍රතික්‍රියා කරවීම ය.
- (2) එකීන් ස්වය හයිඩ්රොසියෝමික් අම්ලය සමඟ ප්‍රතික්‍රියා කරවීම ය.
- (3) එකීන් Cl_2 සමඟ ප්‍රතික්‍රියා කරවීම ය.
- (4) එකීන් ස්වය KCN සමඟ ප්‍රතික්‍රියා කරවීම ය.
- (5) එකීන් මද්‍යසාරය CICH_2CN සමඟ ප්‍රතික්‍රියා කරවීම ය.

26. සකැරඩ්‍රීයම් කැටෝලයට්ටි රසායනික සූත්‍රය
 (1) Sc_2S_3 වේ. (2) $Sc(S_2O_3)_2$ වේ. (3) $Sc_2(S_2O_3)_3$ වේ.
 (4) $Sc_3(S_2O_3)_2$ වේ. (5) ඉහත සඳහන් එකකින් තොරවේ.
27. $POCl_3$ යන අණුවේ හැඩය
 (1) තලීය වේ. (2) හතරැස් පිරමීඩායන ආකාරය වේ.
 (3) අෂ්ට හලීය වේ. (4) වකුණාලීය වේ.
 (5) ත්‍රිකෝණී ද්විපිරමීඩය වේ.

● ප්‍රශ්න අංක 28 සිට 30 සම්බන්ධයෙන් පහත දැක්වෙන සංයෝග සලකන්න.



28. ඉහත සඳහන් කුමක් / කුමන ඒවා H_2S වලින් සන්තෘප්ත කරන ලද කුහුඹ HCl සමඟ අවක්ෂේපයක් දීමට ඉඩ ඇති ද?
 (1) A පමණකි. (2) A සහ B පමණකි. (3) C පමණකි.
 (4) A, C සහ D පමණකි. (5) B සහ E පමණකි.
29. ඉහත සඳහන් කුමක් / කුමන ඒවා KI සමඟ ඇකුම් විශේෂිත කැන්බර් යටතේ දී, I_2 ප්‍රක්ෂ්‍ය කිරීමට ඉඩ ඇති ද?
 (1) A සහ B පමණකි. (2) A, C සහ D පමණකි. (3) A සහ D පමණකි.
 (4) A සහ C පමණකි. (5) C, D සහ E පමණකි.
30. ඉහත සඳහන් කුමක් / කුමන ඒවා ඇකුම් විශේෂිත කැන්බර් යටතේ දී CH_3CHO මත්ස්‍යකරණය කරයි ද?
 (1) A පමණකි. (2) B සහ D පමණකි. (3) A සහ C පමණකි.
 (4) C පමණකි. (5) A, B සහ E පමණකි.

● 31 සිට 40 දක්වා ප්‍රශ්නවලට උපදෙස්

31 සිට 40 තෙක් වූ එක් එක් ප්‍රශ්නයේ දක්වා ඇති (a), (b), (c) සහ (d) යන ප්‍රතිචාර අතුරින් එකක් හෝ වඩාත් සංඛ්‍යාවක් හෝ නිවැරදි ය. නිවැරදි ප්‍රතිචාර හෝ ප්‍රතිචාරය කවරේ දැයි නිගමනය කරන්න.

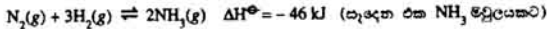
- (a) සහ (b) පමණක් නිවැරදි නම් (1) මත ද
 (b) සහ (c) පමණක් නිවැරදි නම් (2) මත ද
 (c) සහ (d) පමණක් නිවැරදි නම් (3) මත ද
 (d) සහ (a) පමණක් නිවැරදි නම් (4) මත ද

ප්‍රතිචාර එකක් පමණක් හෝ වඩාත් ප්‍රතිචාර සංඛ්‍යාවක් හෝ නිවැරදි නම් (5) මත ද කඩරයක් (X) ලකුණු කරන්න.

උපදෙස් සම්පිණ්ඩනය				
(1)	(2)	(3)	(4)	(5)
(a) සහ (b) පමණක් නිවැරදි	(b) සහ (c) පමණක් නිවැරදි	(c) සහ (d) පමණක් නිවැරදි	(d) සහ (a) පමණක් නිවැරදි	ප්‍රතිචාර එකක් පමණක් හෝ වඩාත් ප්‍රතිචාර සංඛ්‍යාවක් හෝ නිවැරදි

31. මින් කුමක් / කුමන ඒවා විනෝද්‍ර සමඟ ප්‍රතික්‍රියා කරයි ද?
 (a) $RbHCO_3$ (b) $C_6H_5OCH_2CH_3$
 (c) සාන්ද්‍ර නයිට්‍රික් අම්ලය (d) එතනොයිල් ක්ලෝරයිඩ්
32. මින් කුමක් / කුමන ඒවා වාතයේ දී පිදු වේගින් පවතින යකඩ විඛාදනයට ආධාර කරයි ද?
 (a) Mg (b) NaCl (c) CO_2 (d) NO

33. මෙම ප්‍රතික්‍රියාව සලකන්න.



ඉහත ප්‍රතික්‍රියාව සම්බන්ධයෙන් මින් කුමන ප්‍රකාශය / ප්‍රකාශ සත්‍ය වේ ද?

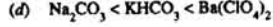
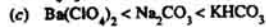
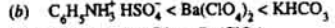
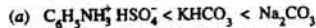
(a) සියලු ම උෂ්ණත්වවල දී, $K_p = \frac{(P_{NH_3})^2}{P_{N_2} \times (P_{H_2})^3}$

(b) නියත උෂ්ණත්වයේ දී, P_{N_2} වැඩි කරන විට K_p වැඩි වේ.

(c) නියත උෂ්ණත්වයේ දී, P_{N_2} වැඩි කරන විට K_p අඩු වේ.

(d) නියත පීඩනයේ දී උෂ්ණත්වය අඩු කරන විට සමතුලිත ප්‍රතික්‍රියා මිශ්‍රණයේ සිටින NH_3 ප්‍රමාණය වැඩි වේ.

34. $0.1 \text{ mol dm}^{-3} Na_2CO_3$, $0.1 \text{ mol dm}^{-3} KHCO_3$, $0.1 \text{ mol dm}^{-3} Ba(ClO_4)_2$ සහ $0.1 \text{ mol dm}^{-3} C_6H_5NH_3^+ HSO_4^-$ යන මේ සලිය ද්‍රාවණවල pH අගය පිළිබඳ වන මින් කුමන සම්බන්ධතාව / සම්බන්ධතා සත්‍ය වේ ද?



35. $PV = \frac{1}{3} nM \overline{c^2}$ යන සමීකරණය උපයෝගී කර ගනිමින් මින් කුමක් / කුමන ඒවා ව්‍යුත්පන්න කළ හැකි වේ ද?

(a) බොයිල් නියමය.

(b) චාල්ස් නියමය.

(c) වායු නියමවලින් අපගමනය වීම

(d) L යන ඇවෝගැඩ්රෝ නියතය

36. මින් කුමන ප්‍රකාශය / ප්‍රකාශ සත්‍ය වේ ද?

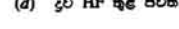
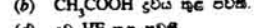
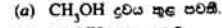
(a) කැතෝඩ කිරණවල ගමන් මාර්ගය කෙරෙහි විද්‍යුත් ක්ෂේත්‍ර බලපාන්නේ නැත.

(b) කැතෝඩ කිරණවල ගමන් මාර්ගය කෙරෙහි ධ්‍රැවිත ක්ෂේත්‍ර බලපාන්නේ නැත.

(c) ඉහළ වේගවලින් ගමන් කරන නියුට්‍රෝනවල ගමන් මාර්ගය කෙරෙහි විද්‍යුත් ක්ෂේත්‍ර බලපාන්නේ නැත.

(d) ඉහළ වේගවලින් ගමන් කරන නියුට්‍රෝනවල ගමන් මාර්ගය කෙරෙහි ධ්‍රැවිත ක්ෂේත්‍ර බලපාන්නේ නැත.

37. ප්‍රබල හයිඩ්රජන් බන්ධන



38. C_6H_5CHO සහ HCN අතර පිළි වන ප්‍රතික්‍රියාවේ යාන්ත්‍රණය සම්බන්ධයෙන් වන මින් කුමන ප්‍රකාශය / ප්‍රකාශ සත්‍ය වේ ද?

(a) ආරම්භක ප්‍රහාරය කරන්නේ :CN^- අපනය වී සිත් $\text{C}=\text{O}$ කාණ්ඩයෙහි C පරමාණුව වෙතට ය.

(b) දෙවැනි ප්‍රහාරය කරන්නේ H^+ වී සිත් ය.

(c) ආරම්භක ප්‍රහාරය කරන්නේ CN^- වී සිත් O පරමාණුව වෙතට ය.

(d) ආරම්භක ප්‍රහාරය කරන්නේ $\text{C}=\text{O}$ කාණ්ඩයෙහි සිටින රිසෝනානු ඉලෙක්ට්‍රෝන යුග්මයක් වී සිත් ය.

39. විරුද්ධ කුඩු සම්බන්ධයෙන් වන මින් කුමන ප්‍රකාශය / ප්‍රකාශ සත්‍ය වේ ද?

(a) එය නිෂ්පාදනය කිරීම සඳහා ඉන්ද්‍රජල අවශ්‍ය වේ.

(b) එය නිෂ්පාදනය කිරීම සඳහා යුද්ධ අවශ්‍ය වේ.

(c) එය $K_2Cr_2O_7$ / C ජලීය සාන්ද්‍ර H_2SO_4 හි වර්ණය වෙනස් කරයි.

(d) එය සලීය ඇමෝනියා මාධ්‍යයේ දී $FeCl_3$ හි වර්ණය ඉවත් කරයි.

40. වාණිජ කාබනික සඳහා කොපමින් යොදා ගන්නා නිෂ්පාදනය කිරීමේ දී මින් කුමක් / කුමන ඒවා අවශ්‍ය වේ ද?

(a) කාබන්

(b) අයන

(c) සල්ෆර්

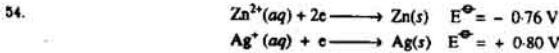
(d) කාබනික

41. පිට 50 කෙස් ප්‍රශ්නවල දී ප්‍රකාශ දෙන බැගින් ඉදිරිපත් කර ඇත. එක් එක් ප්‍රශ්නය සම්බන්ධයෙන් දී ඇති ප්‍රකාශ දුරකලයට කොඳිත් මි ගැළපෙනුයේ සත්‍ය වශයෙනි දක්වන්න (1), (2), (3), (4) සහ (5) යන කවර විස්තර දැයි කෙරුණු උචිත ලෙස පසුපස කරන්න.

පළමුවැනි ප්‍රකාශය	දෙවැනි ප්‍රකාශය
(1) සත්‍ය ය	සත්‍ය වන අතර, පළමුවැනි නිවැරදි ව පහද දෙයි
(2) සත්‍ය ය	සත්‍ය වන නමුත්, පළමුවැනි නිවැරදි ව පහද නො දෙයි
(3) සත්‍ය ය	අසත්‍ය ය
(4) අසත්‍ය ය	සත්‍ය ය
(5) අසත්‍ය ය	අසත්‍ය ය

පළමුවැනි ප්‍රකාශය	දෙවැනි ප්‍රකාශය
41. හයිඩ්‍රජන් පරමාණුවේ 1s කාන්තිකයේ ඉලෙක්ට්‍රෝන සන්නම්භ ව්‍යාප්තිය ගෝලාකාර වේ.	බෝර් වාදය අනුව හයිඩ්‍රජන් පරමාණුවේ ඉලෙක්ට්‍රෝනය වක්‍රාකාරව පවතී.
42. ඇතිලීන් සමග ප්‍රොපනෝන් ප්‍රතික්‍රියා කරයි.	ඇතිලීන් සහ ප්‍රොපනෝන් අතර අම්ල-භේදන ප්‍රතික්‍රියාවක් සිදු වේ.
43. හුමාල ආසවනය මගින් පැහිරි කෙල් නිස්සාරණය කළ හැකි ය.	මේ ආසවනය සඳහා රුලේ නියමය යොදවා හැකි ය.
44. හයිඩ්‍රජන් වායුවට ඔක්සිකාරකයක් ලෙස ක්‍රියා කළ නො හැකි ය.	හයිඩ්‍රජන්හි විද්‍යුත් සංඝණාව ඔක්සිජන්හි විද්‍යුත් සංඝණාවට වඩා අඩු ය.
45. ද්‍රව ජලයේ විශිෂ්ට කාප ධාරිතාව අනියම් වශයෙන් ඉහළ වේ.	ද්‍රව ජලය තුළ H ₂ O අණු අතර ප්‍රබල අන්තර්ක්‍රියා සිදු වේ.
46. සියලු ම උත්ප්‍රේරක, අදාළ රසායනික ප්‍රතික්‍රියාවල ශීඝ්‍රතාව වැඩි කරයි.	සියලු ම උත්ප්‍රේරක, අදාළ රසායනික ප්‍රතික්‍රියාවල සක්‍රියතා ශක්ති අඩු කරයි.
47. ක්ෂාරීය KMnO ₄ මගින් ඇල්කීන ඔක්සිකරණ කක්ෂ්‍යයකට පරිවර්තනය නො කෙරේ.	ක්ෂාරීය මාධ්‍යයේ දී MnO ₄ ⁻ අයනය ඔක්සිකාරක ගුණ නො දක්වයි.
48. දියමන්තිවල දැඩි බව සහ කාබන් වායෝගෝලීය දැඩි බවට වඩා බොහෝ ඉහළ වේ.	C-C බන්ධන ශක්තිය C=O බන්ධන ශක්තියට වඩා බොහෝ ඉහළ වේ.
49. ප්‍රෝටීන් ආකලන ප්‍රතික්‍රියාවලට භාජනය කිරීමෙන් ප්‍රකාශ සමාවස්ථික ලබා ගත නො හැකි ය.	ප්‍රෝටීන් ජ්‍යාමිතික සමාවස්ථික වශයෙන් නො පවතී.
50. NO ₂ වලට ඔක්සිකාරකයක් ලෙස ක්‍රියා කළ නො හැකි ය.	NO ₂ සහයවන HNO ₃ බවට පරිවර්තනය කළ හැකි ය.

51. ජලීය ද්‍රාවණ සිසිලකරණ විද්‍යුත් විච්ඡේදනය සම්බන්ධයෙන් වන මින් කුමන ප්‍රකාශය අසත්‍ය වේ ද?
- (1) නිත්‍ය කාලයක් දී මූලික වන Cd ස්කන්ධය Cd(NO₃)₂ ද්‍රාවණයක් තුළින් යවනු ලබන විද්‍යුත් ධාරාවට සමානුපාත වේ.
 - (2) නිත්‍ය විද්‍යුත් ධාරාවක් මගින් මූලික කරන Cu ස්කන්ධය Cu(NO₃)₂ ද්‍රාවණයක් තුළින් ධාරාව යවන්නා වූ කාලයට සමානුපාත වේ.
 - (3) නිත්‍ය විද්‍යුත් ප්‍රමාණයක් ජලීය CdSO₄ සහ CuSO₄ ද්‍රාවණ තුළින් යැවූ විට මූලික වන Cd සහ Cu ස්කන්ධ, ඒ මූලද්‍රව්‍යවල මවුලික ස්කන්ධවලට සමානුපාත වේ.
 - (4) නිත්‍ය විද්‍යුත් ප්‍රමාණයක් ජලීය AgNO₃, HgSO₄ සහ FeCl₃ ද්‍රාවණ තුළින් යැවූ විට මූලික වන Ag, Hg සහ Fe ස්කන්ධ, ඒ මූලද්‍රව්‍යවල මවුලික ස්කන්ධවලට සමානුපාත වේ.
 - (5) නිත්‍ය විද්‍යුත් ප්‍රමාණයක් ජලීය Ag₂SO₄ සහ CuSO₄ ද්‍රාවණ තුළින් යැවූ විට මූලික වන Ag සහ Cu ස්කන්ධ ඒ මූලද්‍රව්‍යවල රසායනික සමතලට සමානුපාත වේ.
52. SrCrO₄ කහලන හයිඩ්‍රජන් අම්ලයෙහි ද්‍රවණය කර ඇත. මෙම ද්‍රාවණයේ වර්ණය
- (1) දම් පාට වේ.
 - (2) කොළ පාට වේ.
 - (3) කහ පාට වේ.
 - (4) කැමිලි පාට වේ.
 - (5) රතු පාට වේ.
53. එක ම උෂ්ණත්වයේ දී, NH₃(aq) හි K_b, NH₄⁺(aq) හි K_a සහ K_w යන මේවා අතර ඇති සම්බන්ධතාව
- (1) $\frac{K_a}{K_b} = K_w$ වේ.
 - (2) $\frac{K_b}{K_a} = K_w$ වේ.
 - (3) $K_a - K_b = K_w$ වේ.
 - (4) $K_a \times K_b = (K_w)^{\frac{1}{2}}$ වේ.
 - (5) ඉහත සඳහන් එකකින් නො වේ.



$Zn(s) | Zn^{2+}(aq, 1 \text{ mol dm}^{-3}) || Ag^+(aq, 1 \text{ mol dm}^{-3}) | Ag(s)$

යන විද්‍යුත් රසායනික කෝෂය සම්බන්ධයෙන් වන මින් කුමන ප්‍රකාශය අසත්‍ය වේ?

- (1) මන්ඩිකරණය Zn ඉලෙක්ට්‍රෝඩයේ දී සිදු වේ. (2) මන්ඩිකරණය Ag ඉලෙක්ට්‍රෝඩයේ දී සිදු වේ.
 (3) මේ කෝෂයේ $E^\ominus = +1.56 V$ වේ. (4) මේ කෝෂයේ $E^\ominus = +0.84 V$ වේ.
 (5) මේ කෝෂයේ දී Zn ඉලෙක්ට්‍රෝඩයට සෑහේ විද්‍යුත් ආරෝපණයක් සිටියි.

55. $H_2(g)$ සහ $Cl_2(g)$ අතර සිදු වන ප්‍රතික්‍රියාව පැලේඩියම් මගින් උත්ප්‍රේරණය වේ. මෙම ප්‍රතික්‍රියාව සම්බන්ධයෙන් වන මින් කුමන ප්‍රකාශය වඩාත් ම උචිත වේ ද?

- (1) $HCl(g)$ පැදීමේ රත්කැලිවි විපර්යාසය පැලේඩියම් මගින් අඩු කෙරේ.
 (2) $HCl(g)$ විඛාදනය වීමේ රත්කැලිවි විපර්යාසය පැලේඩියම් මගින් අඩු කෙරේ.
 (3) H_2 පැලේඩියම් මත අධිශෝෂණය වේ.
 (4) Cl_2 පැලේඩියම් මත අධිශෝෂණය වේ.
 (5) හයිඩ්‍රජන් සහ ක්ලෝරීන් යන දෙක ම පැලේඩියම් මත අධිශෝෂණය වේ.

56. රක්තරා උෂ්ණත්වයක දී $Cu(OH)_2$ හි ජල-ද්‍රාවණතාව $x \text{ mol dm}^{-3}$ වේ. එම උෂ්ණත්වයේ දී ම 2.0 mol dm^{-3} ජලීය ඇමෝනියා කුඩු $Cu(OH)_2$ හි ද්‍රාවණතාව

- (1) $x^3 \text{ mol dm}^{-3}$ වේ. (2) $\frac{x^3}{4} \text{ mol dm}^{-3}$ වේ. (3) $x^2 \text{ mol dm}^{-3}$ වේ.
 (4) $\frac{x^2}{2} \text{ mol dm}^{-3}$ වේ. (5) ඉහත සඳහන් රක්තවත් නො වේ.

57. $C_{11}H_{20}$ යන අණුක සූත්‍රය ඇති සරල-දම හයිඩ්‍රොකාබනය ප්‍රබල මන්ඩිකරණ කන්දක් යටතේ දී මන්ඩිකරණයට භාජනය කරන ලදී. මෙම ප්‍රතික්‍රියාවේ දී කාබන්-කාබන් ප්‍රතික්‍රියාශීලී බන්ධන කැඩී ගිය අතර, කාබොක්සිලික් අම්ල දෙකක් ජල වශයෙන් පැමිණි. මෙම හයිඩ්‍රොකාබනය

- (1) $CH_3CH = CHCH_2CH_2CH_2CH = CHCH_2CH_2CH_3$ වීමට ඉඩ ඇත.
 (2) $CH_3CH_2CH = CHCH_2CH_2CH_2C \equiv CCH_2CH_3$ වීමට ඉඩ ඇත.
 (3) $CH_3CH_2CH = C = CHCH_2CH_2CH_2CH_2CH_2CH_3$ වීමට ඉඩ ඇත.
 (4) $CH_3CH_2CH_2C \equiv CCH_2CH_2CH_2CH = CHCH_3$ වීමට ඉඩ ඇත.
 (5) $CH_3C \equiv CCH_2CH_2CH_2C \equiv CCH_2CH_2CH_3$ වීමට ඉඩ ඇත.

58. හැලජන සම්බන්ධයෙන් වන මින් කුමක් අසත්‍ය වීමට වඩාත් ම ඉඩ ඇති ද?

- (1) $3Cl_2 + 8NH_3 \longrightarrow N_2 + 6NH_4Cl$ (2) $3Cl_2 + 2NH_3 \longrightarrow N_2 + 6HCl$
 (3) $I_2 + 2H_2O \longrightarrow H_3O^+ + I^- + HOI$ (4) $Cl_2 + 2HF \longrightarrow 2HCl + F_2$
 (5) $Br_2 + 2HI \longrightarrow 2HBr + I_2$

59. මින් කුමක් සත්‍ය වේ ද?

- (1) ඇමෝනැඩ්මයේ නියතය = $\frac{96490 C}{2 \times \text{ඇල්ටා අංශුවේ ආරෝපණය}}$
 (2) ඇමෝනැඩ්මයේ නියතය = $\frac{96500 C}{\text{සෝඩියම් අයනයේ ආරෝපණය}}$
 (3) ඇමෝනැඩ්මයේ නියතය = $\frac{F}{\text{මන්ඩිවි අයනයේ ආරෝපණය}}$
 (4) ඇමෝනැඩ්මයේ නියතය = $\frac{F}{\text{ඉලෙක්ට්‍රෝන මවුලයක ආරෝපණය}}$
 (5) ඇමෝනැඩ්මයේ නියතය = $\frac{96490 C}{\text{ප්‍රෝටෝන මවුලයක ආරෝපණය}}$

60. Q යන මූලද්‍රව්‍යය අලෝකයකි. එය ස්ථායී ද්විපරමාණුක අණු සාදයි. Q සහ උණු සාන්ද්‍ර සිසියම් හයිඩ්‍රොක්සයිඩ් අතර ප්‍රතික්‍රියාවෙන්

- (1) CsQ සහ $CsQO$ ලැබීමට ඉඩ සිටියි. (2) $CsQO_4$ සහ $CsQO_2$ ලැබීමට ඉඩ සිටියි.
 (3) $CsQO_3$ සහ $CsQO$ ලැබීමට ඉඩ සිටියි. (4) CsQ සහ $CsQO_3$ ලැබීමට ඉඩ සිටියි.
 (5) $CsQO_3$ සහ $CsQO_4$ ලැබීමට ඉඩ සිටියි.