

66506

ශ්‍රී ලංකා විභාග දෙපාර්තමේන්තුව
 இலங்கைப் பரீட்சைத் திணைக்களம்
 Department of Examinations, Sri Lanka

අධ්‍යයන පොදු සහතික පත්‍ර (උසස් පෙළ) විභාගය, 2015 අගෝස්තු
 கல்விப் பொதுத் தராதரப் பத்திர (உயர் தர)ப் பரீட்சை, 2015 ஓகஸ்ட்
 General Certificate of Education (Adv. Level) Examination, August 2015

විෂයාංශ අධ්‍යයනය I
 வணிகக் கல்வி I
 Business Studies I

32 S I

පැය 02කිවි
 இரண்டு மணித்தியாலம்
 Two hours

ලකුණු:

- * සියලු ම ප්‍රශ්නවලට පිළිතුරු මෙම ප්‍රශ්න පත්‍රයේ ම සපයන්න.
- * විභාග අංකය, ඉහළින් ඇති කොටුවේ පැහැදිලි ව සටහන් කරන්න.
- * ප්‍රශ්න අංක 1 සිට 30 තෙක් වූ ප්‍රශ්නවලට නිවැරදි පිළිතුරු තෝරා, එහි අංකය ප්‍රශ්නය ඉදිරියෙන් ඇති තීන් ඉර මත ලියන්න.
- * ප්‍රශ්න අංක 31 සිට 50 තෙක් වූ ප්‍රශ්නවලට කෙටි පිළිතුරු අදාළ තීන් ඉර මත ලියන්න.
- * තෑම් ප්‍රශ්නයකට ම ලකුණු දෙක බැගින් හිමි වේ.

විභාග අංකය :

පරීක්ෂකේ ප්‍රයෝජනය සඳහා පමණි.

I ප්‍රභව සඳහා		අගය	සංකේත අගය
ප්‍රශ්න අංකය	ඉකුණු		
01 - 30			
31 - 50			
එකතුව			

1. පහත සඳහන් කරුණු අතුරෙන් වුවමනාවල ලක්ෂණ පමණක් අඩංගු පිළිතුර තුමක් ද?
 - (1) අසීමිත වීම, විවිධ වීම හා පොදු වීම
 - (2) ව්‍යාපාරිකයින්ට නිර්මාණය කළ හැකි වීම, පොදු වීම හා සීමිත වීම
 - (3) පුද්ගලබද්ධ වීම, සීමිත වීම හා විවිධ වීම
 - (4) අසීමිත වීම, විවිධ වීම හා පුද්ගලබද්ධ වීම
 - (5) පොදු වීම, ව්‍යාපාරිකයින්ට නිර්මාණය කළ හැකි වීම හා විවිධ වීම
2. ආර්ථිකයේ විවිධ අංශවලට අයත් ව්‍යාපාර කටයුතු කිහිපයක් පහත දැක්වේ. ඒ අතුරෙන් අන්වා අංශයට අයත් ව්‍යාපාර කටයුතු දැක්වෙන පිළිතුර තෝරන්න.
 - (1) ගෘහ කර්මාන්තය හා ආනයන වෙළෙඳාම
 - (2) කුරුඳු ආශ්‍රිත නිමැවුම් සැකසීම හා ප්‍රවාහනය
 - (3) ඉදිකිරීම් හා ගැස්
 - (4) ප්‍රවාහනය හා ධීවර කටයුතු
 - (5) සන්නිවේදනය හා ප්‍රවාහනය
3. පහත සඳහන් ප්‍රභල අතුරෙන් නොසෙවු හාණිව සඳහා නිවැරදි පිළිතුර තෝරන්න.
 - (1) ඒවිභ රක්ෂණය හා පුද්ගල හදිසි අනතුරු රක්ෂණය
 - (2) මෝටර් රථය හා මෝටර් රථ රක්ෂණය
 - (3) පුද්ගල හදිසි අනතුරු රක්ෂණය හා නිවස
 - (4) ප්‍රවෘත්ති පත්‍රය හා මෝටර් රථය
 - (5) නිවස සහ හිඟ රක්ෂණය
4. පහත වගුවේ දැක්වෙන්නේ කේවල ස්වාමි ව්‍යාපාරයක කටයුතු සඳහා බලපාන අභ්‍යන්තර බලවේග සහ ශක්තීන් කිහිපයකි.

අභ්‍යන්තර බලවේග	ශක්තීන්
A. සංවිධාන ව්‍යුහය	1. සළසුරුද්ද
B. හිමිකරු	2. සාමාජිකයාලික බව
C. අන්වකයින්	3. කීර්තිනාමය
D. භාවිත කරන සම්පත්	4. සිරිණ ගැනීමේ පහසුව

ඉහත වගුව සැලකිල්ලට ගනිමින් අභ්‍යන්තර බලවේග හා ශක්තීන් නිවැරදි ව ගළපා ඇති කාණ්ඩය තෝරන්න.

(1) A - 1, B - 2, C - 4, D - 3 (2) A - 4, B - 2, C - 3, D - 1 (3) A - 4, B - 3, C - 1, D - 2
 (4) A - 3, B - 4, C - 2, D - 1 (5) A - 2, B - 1, C - 3, D - 4

5. පහත වගුවේ X හා Y සිරු මගින් ව්‍යාපාරයක ආසන්න පරිසර බලවේග දෙකක් ද, අවස්ථා හා තර්ජන ලැයිස්තුවක් ද පිළිවෙළින් දැක්වේ.

X	Y
A. ආදේශන හාණිව නිපදවන්නෝ	1. කර්මාන්තයේ නිෂ්පාදන සඳහා ඇති ඉල්ලුම් ඉහළ යාම්
B. කර්මාන්තයේ කර්මකාරීත්වය	2. පාරිභෝගිකයින් හාණිව සන්නම් කෙරෙහි වැඩි අවධානයක් යොමු කිරීම
	3. පුද්ධිමය දේපළ හිමිකම් පිළිබඳ නීතිය ලිහිල් කිරීම
	4. වෙළෙඳපොළින් ඉවත් වීමට සීමා පැවසීම

ආසන්න පරිසර බලවේග දෙකට අදාළ අවස්ථා හා තර්ජන නිවැරදි ව ගළපා ඇති පිළිතුර තෝරන්න.

(1) A-2,4/B-1,3 (2) A-2,3/B-1,4 (3) A-1,4/B-2,3 (4) A-1,2/B-3,4 (5) A-3,4/B-1,2

6. පහත දැක්වෙන්නේ පාරිභෝගික ආරක්ෂණයෙහි වැදගත්කම කිහිපයකි.
- A - මුදලට සරිලන වටිනාකමක් ඇති භාණ්ඩ ලබා ගැනීමට හැකි වීම
 - B - වෙළෙඳ විෂමාවාරවලට එරෙහි ව තීරණීය ආවරණය ලබාගත හැකි වීම
 - C - ගනුදෙනුකරුවන්ගේ විශ්වාසය භයානිතයා හැනීමට හැකි වීම
 - D - ලාභය උපරිම කර ගැනීමට හැකි වීම
 - E - නිර්විනාශීය වැඩි කර ගැනීමට හැකි වීම
 - F - භාණ්ඩවලින් අපේක්ෂිත ප්‍රමිති හා ආරක්ෂිත අවශ්‍යතා තහවුරු කිරීමට හැකි වීම
- ඉහත සඳහන් කරුණු අතුරෙන් පාරිභෝගිකයන්ට පමණක් වැදගත් වන සංයෝජනය තෝරන්න.
- (1) A, B, E (2) A, B, F (3) A, C, D (4) C, D, E (5) C, D, F (.....)

7. පහත සඳහන් ආයතන අතුරෙන් පාරිභෝගික ආරක්ෂණ කටයුතුවලට සම්බන්ධ නොවන ආයතනය තෝරන්න.
- (1) ශ්‍රී ලංකා ප්‍රමිති ආයතනය (2) විදුලි සංදේශ නියාමන කොමිෂන්
- (3) ජෛව විද්‍යාත්මක අධ්‍යයන මධ්‍යස්ථානය (4) මිනුම් රක්ෂා, ප්‍රමිති හා සේවා දෙපාර්තමේන්තුව
- (5) පාරිභෝගික කටයුතු පිළිබඳ අධිකාරිය (.....)

8. පහත සඳහන් කොන්දේසි අතුරෙන් 1890 හවුල් ආඥාපනතේ 24 වන වගන්තියට අනුව හවුල් ව්‍යාපාරයකට බල නොදාන කොන්දේසිය තෝරන්න.
- (1) ප්‍රාග්ධනය සඳහා බැංකු පොලියට සමාන පොලියකට හිමිකමක් ඇත.
- (2) ලාභාලාභ හවුල්කරුවන් අතර සමානුපාතික ව වෙදාගත යුතු ය.
- (3) එකමිතික ව නව හවුල්කරුවකු බඳවා ගත හැකි ය.
- (4) හවුල්කරුවන් පෞද්ගලික ව ව්‍යාපාරය වෙනුවෙන් දැරූ වියදම් ව්‍යාපාරය විසින් මවුන්ට ගෙවිය යුතු ය.
- (5) සෑම හවුල්කරුවකුට ම ව්‍යාපාරයට සපයන ලද නම් සේවාව වෙනුවෙන් වේතනයක් ලැබීමට හිමිකමක් නැත. (.....)

9. පහත කරුණු අතුරෙන් සීමාසහිත පොදු සමාගමක (PLC) දැනිය හැකි ලක්ෂණ ඇතුළත් පිළිතුර තෝරන්න.
- (1) වගකීම් අසීමිත වන අතර කොටස් වෙළෙඳපොළේ ලැයිස්තුගත කර ඇත.
- (2) වගකීම් සීමිත වන අතර කොටස් වෙළෙඳපොළේ ලැයිස්තුගත කර නැත.
- (3) අවම සාමාජික සංඛ්‍යාව එකක් වන අතර උපරිමය පහතකි.
- (4) අවම අධ්‍යක්ෂවරු සංඛ්‍යාව එකක් වන අතර උපරිමය සීමාවක් නොමැත.
- (5) වගකීම් සීමිත වන අතර කොටස් වෙළෙඳපොළේ ලියාපදිංචි කර ඇත. (.....)

10. පහත සඳහන් දෑ අතුරෙන්, පුද්ගලයකු සමාගමක අධ්‍යක්ෂවරයකු ලෙස පත් නොකිරීමට හේතු විය හැකි කරුණ කුමක් ද?
- (1) එම සමාගමේ කොටස්කරුවකු වීම (2) දේශීය පුරවැසිභාවය ලබා තිබීම
- (3) බංකොලොත් නොවූ අයකු වීම (4) වෙනත් සමාගමක අධ්‍යක්ෂවරයකු වීම
- (5) සම් එකඟත්වය ප්‍රකාශ නොකිරීම (.....)

11. පහත සඳහන් වන්නේ ව්‍යාපාරයක් ආරම්භ කිරීමේ මූලික පියවර කිහිපයකි. ඒවා අතුරෙන් කුඩා ව්‍යාපාරයක් ඇරඹීමට අදාළ පුරම පියවර වන්නේ කුමක් ද?
- (1) ප්‍රාග්ධන සම්පාදනය (2) වෙළෙඳපොළ සමීක්ෂණයක් කිරීම
- (3) ව්‍යාපාර අදහසක් ඇතිකර ගැනීම (4) ව්‍යාපාරික ස්ථානයක් සොයා ගැනීම
- (5) ව්‍යාපාරය ලියාපදිංචි කිරීම (.....)

12. පහත වගුවේ ව්‍යාපාරයක් ආරම්භ කිරීම සඳහා ව්‍යවසායකයකුට බලපෑම් කරන සාධක කිහිපයක් හා උදාහරණ කිහිපයක් දැක්වේ.

සාධක	උදාහරණ
A. පුද්ගල පසුබිම් සාධක	1. ව්‍යාපාර පරපුරකින් පැවතීම
B. සමාජීය සාධක	2. අන්ම විශ්වාසය
C. ව්‍යවසායකත්ව සාධක	3. සේවා විපුස්තිය

- සාධක හා උදාහරණ නිවැරදි ව ගළපා ඇති කාණ්ඩය තෝරන්න.
- (1) A - 1, B - 2, C - 3 (2) A - 2, B - 1, C - 3 (3) A - 1, B - 3, C - 2
- (4) A - 3, B - 2, C - 1 (5) A - 2, B - 3, C - 1 (.....)

13. පහත දැක්වෙන්නේ රටවල් කිහිපයක භාවිත කරන මුදල් වර්ග ලැයිස්තුවකි.
- | රට | මුදල් වර්ගය |
|--------------------|-------------|
| A. ඉතාලිය | 1. වොන් |
| B. ඕස්ට්‍රේලියාව | 2. ඩොලර් |
| C. දකුණු අප්‍රිකාව | 3. රික්කිට් |
| D. මැලේසියාව | 4. පුරෝ |
- එක් එක් රටෙහි භාවිත වන මුදල් වර්ගය නිවැරදි ව ගළපා ඇති කාණ්ඩය තෝරන්න.
- (1) A - 1, B - 2, C - 3, D - 4 (2) A - 2, B - 1, C - 3, D - 4 (3) A - 3, B - 2, C - 1, D - 4
- (4) A - 4, B - 2, C - 1, D - 3 (5) A - 4, B - 2, C - 3, D - 1 (.....)

14. පහත දැක්වෙන්නේ ශ්‍රී ලංකා මහ බැංකුව විසින් ඉටුකරන කාර්ය කිහිපයකි.

- A - මූල්‍ය ප්‍රතිපත්ති මෙහෙයවීම
- B - රාජ්‍ය ණය කළමනාකරණය
- C - විදේශ විනිමය පාලනය
- D - රජයේ ආර්ථික උපදේශන වශයෙන් කටයුතු කිරීම
- E - සේවක අර්ථසාධක අරමුදල් කළමනාකරණය
- F - ප්‍රාදේශීය සංවර්ධනය සඳහා ක්‍ෂුද්‍ර මූල්‍ය වැඩසටහන් යනාදිය සම්බන්ධීකරණය කිරීම

ඉහත සඳහන් කාර්ය අතුරෙන් ශ්‍රී ලංකා මහ බැංකුව විසින් ඉටු කරන නියෝජ්‍යයාගෙන් කටයුතු දැක්වෙන කාණ්ඩය තෝරන්න.

- (1) A, B, C, D (2) A, B, D, F (3) A, B, E, F (4) B, C, D, E (5) B, C, E, F (.....)

15. පහත දැක්වෙන්නේ රක්ෂණ මූලධර්ම කිහිපයකි.

- A - භාහිරුරණය
- B - ආදේශනය
- C - දායකත්වය
- D - උපරිම විශ්වාසය

ඉහත සඳහන් මූලධර්ම අතුරෙන් ජීවිත රක්ෂණයට අදාළවන මූලධර්මය කුමක් ද?

- (1) A (2) B (3) C (4) D (5) කිසිවක් නොවේ. (.....)

16. පහත දැක්වෙන්නේ රක්ෂණය කළ හැකි හා රක්ෂණය කළ නොහැකි අවදානම් වර්ග කිහිපයකි.

- A - මෝටර් රථය දිරාපත් වීම
- B - භාග්‍යයකුගේ කටහඬ
- C - මරණය
- D - වයස් ගත වීම
- E - සේවක ඉවත්වීම

ඉහත සඳහන් කරුණු අතුරෙන් රක්ෂණය කළ නොහැකි අවදානම් පමණක් ඇතුළත් කාණ්ඩය තෝරන්න.

- (1) A, B, C, D (2) A, B, C, E (3) A, B, D, E (4) A, C, D, E (5) B, C, D, E (.....)

17. පහත දැක්වෙන සාධක අතුරෙන් ආනයන අපනයන වෙළෙඳාමට බාධාවක් ස්වාභාවික සාධකය කුමක් ද?

- (1) ආනයන හා අපනයන සීමා කිරීම
- (2) අධික නිරුඛද්‍ර
- (3) සංස්කෘතිකමය වෙනස්කම්
- (4) දැඩි විනිමය ප්‍රතිපත්ති
- (5) වෙළෙඳ හිරිසුම්

(.....)

18. පහත සඳහන් විද්‍යුත් වෙළෙඳාමේ වාසි අතුරෙන් ව්‍යාපාරයකට පමණක් අදාළ වන වාසිය කුමක් ද?

- (1) ගනුදෙනු වේගවත් වීම
- (2) වෙළෙඳපොළ කොටස පුළුල් වීම
- (3) ප්‍රවාහනය පහසු වීම
- (4) වෙළෙඳපොළ තොරතුරු බහුල වීම
- (5) භාණ්ඩ මිල සාපේක්ෂ ව අඩු මට්ටමක පැවතීම

(.....)

19. පහත සඳහන් වන්නේ සංවිධානයක විවිධ කළමනාකරණ මට්ටම්වල සහභාගී කිහිපයකි.

- A - පුළුල්කරණය
- B - අලෙවි කළමනාකරු
- C - මූල්‍ය කළමනාකරු
- D - ප්‍රධාන විධායක නිලධාරී
- E - පර්යේෂණ හා සංවර්ධන කළමනාකරු
- F - පුහුණුකරු නිලධාරී
- G - මානව සම්පත් කළමනාකරු
- H - ක්‍රියාකාරී අධ්‍යක්ෂ
- I - නිෂ්පාදන කළමනාකරු
- J - වැඩ මූලික

මධ්‍ය කළමනාකරණයට පමණක් අයත් සහභාගී ඇතුළත් කාණ්ඩය කුමක් ද?

- (1) A, B, C, F, G (2) A, D, F, H, J (3) B, C, D, E, G (4) B, C, E, F, H (5) B, C, E, G, I (.....)

20. පහත දැක්වෙන්නේ සේවකයින් අභිප්‍රේරණය කිරීම සඳහා යොදා ගත හැකි ක්‍රම කිහිපයකි.

- A - නිවාස ණය
- B - සේවක පුහුණුව
- C - බලකල විමර්ශන
- D - සේවක රක්ෂණය
- E - නිෂ්පාදන දිරි දීමනා
- F - සේවය අගය කිරීමේ ලිපිය
- G - දැවැන්ත සිතාත්ව ප්‍රදානය
- H - පැමිණීමේ දිරි දීමනා

මූල්‍ය අභිප්‍රේරණ ක්‍රම ඇතුළත් කාණ්ඩය කුමක් ද?

- (1) A, B, C, D, E (2) A, C, D, F, G (3) A, D, E, G, H (4) B, C, E, G, H (5) B, D, E, G, H (.....)

21. පහත කරුණු අතුරෙන් මෙහෙයුම් කළමනාකරණයට අයත් නොවන කාර්යය කුමක් ද?

- (1) ආපසු එවුම් බාර ගැනීම
- (2) භාණ්ඩ මෝස්තරකරණය
- (3) දුර්වල මිල දී ගැනීම
- (4) සත්ත්ව පාලනය
- (5) පර්යේෂණ හා සංවර්ධනය

(.....)

22. නිෂ්පාදන ආයතනයකට අදාළ වියදම් කිහිපයක් පහත දැක්වේ.

- A - මාසික සේවක වැටුප්
- B - සම්භල් රක්ෂණ ගාස්තු
- C - අමුද්‍රව්‍ය මිලට ගැනුම්
- D - අලෙවි කොමිස්
- E - හිස් බෝතල් මිල දී ගැනුම්
- F - වරිපනම්
- G - කාලී ක්‍රමයට වැඩකරන සේවක වේතන
- H - නිෂ්පාදන ඒකක මත පුරස්කාරය

විවිධ වියදම් පමණක් ඇතුළත් කාණ්ඩය තෝරන්න.

- (1) A, B, C, D, E (2) A, B, F, G, H (3) B, E, F, G, H (4) C, D, E, F, G (5) C, D, E, G, H (.....)

66506

23. පහත දෑ අතුරෙන් සේවා අලෙවි ක්‍රියාව විශේෂිත වූ විටලා ඇතුළත් නිවැරදි පිළිතුර කුමක් ද?
 (1) වේටර්, ප්‍රචාරණය, දීමනා (2) කාන්ත අලෙවිකරුවන්, වර්ධන, සන්නම්
 (3) වෛද්‍යවරයා, ස්වයංක්‍රීය සේවා ක්‍රියාවලිය, වසිතයි (4) සුපරීක්ෂක, සොහො, ගුණෝචය
 (5) ප්‍රවාහනය, ඇසුරුම්, වසිතයි (.....)
24. පහත දැක්වෙන අලෙවිකරණයේ ප්‍රතිරූප අතුරෙන් පාරිභෝගිකයාට පමණක් වැදගත්වන කාණ්ඩය තෝරන්න.
 A - අයිතිකරුවන්ගේ හා සේවකයින්ගේ කාන්තය වර්ධනය වීම B - භාණ්ඩ හා සේවා පරාසය පුළුල් වීම
 C - වෙළෙඳපොළ තුළ භාණ්ඩ හා සේවා සහභුද්‍ර වීම D - ආදායම් වෛද්‍යවේ විෂයයට අඩු වීම
 E - වෙළෙඳපොළ පිළිබඳ දැනුම පුළුල් වීම F - පහසුවෙන් භාණ්ඩ හා සේවා මිල දීම හත හැකි වීම
 (1) A, B, D (2) B, E, F (3) C, D, F (4) C, E, F (5) D, E, F (.....)
25. පහත දෑ අතුරෙන් සේවා අයිතිවාසිකමක් ලෙස දැක්විය හැක්කේ කුමක් ද?
 (1) සංවිධානයේ අරමුණු ඉටුකර ගැනීමට වැඩ කිරීම (2) වැඩ ස්ථානයේ යහපත් ලෙස හැසිරීම
 (3) සේවා ගිවිසුම් අනුව කාර්ය ඉටු කිරීමට හැකිවීම (4) වැටුපට පරිලන සේවාවක් ලබා දීම
 (5) සේවා ගිවිසුමට අනුව කාර්ය ඉටු කිරීම (.....)
26. ස්ථීර සේවයට බඳවාගත් සේවකයකු මිත්‍රශෝ/ඇයගේ තනතුරෙහි කටයුතු කිරීමට අපර හඳුන්වනු ලබන්නේ,
 (1) අතීයම් සේවකයකු ලෙස ය. (2) නාවකාලික සේවකයකු ලෙස ය.
 (3) ආදේශක සේවකයකු ලෙස ය. (4) පරිවාස සේවකයකු ලෙස ය.
 (5) මනාත්ප්‍රාන් සේවකයකු ලෙස ය. (.....)
27. පහත සඳහන් වන්නේ ආයතනයක භාවිත කරන පරිගණකගත කළ විවිධ කළමනාකරණ තොරතුරු උප-පද්ධති කිහිපයකි.
 A - ගැනුම් සැලසුම් කිරීම හා පාලනය B - ක්‍රියාවලි හා යන්ත්‍රෝපකරණ පාලනය
 C - ගිණුම්කරණ පද්ධතිය D - සේවක වැටුප් පද්ධතිය
 E - පරිගණක ආධාර නිර්මාණය F - සේවක පැමිණීම
 මෙහෙයුම් තොරතුරු පද්ධතියට පමණක් අදාළ උප-පද්ධති ඇතුළත් කාණ්ඩය තෝරන්න.
 (1) A, B, C (2) A, B, E (3) A, D, F (4) B, C, F (5) D, E, F (.....)
28. කේවල ස්වාමි ව්‍යාපාරයක සාර්වත්වය මැනීම සඳහා භාවිත කළ යොදාගත මිනුම් දක්වන්නේ,
 (1) නිෂ්පාදනයේ හෝ සේවාවේ ගුණෝචය වේ. (2) මූල්‍ය කාර්යක්ෂමතාවය වේ.
 (3) අයිතිකරුවන් අධ්‍යාපන මට්ටම වේ. (4) අයිතිකරුවන් ව්‍යවසායකත්ව කුසලතාව වේ.
 (5) සේවක සංඛ්‍යාව වේ. (.....)
29. ඇස්තමේන්තුගත ව්‍යාපෘති පිරිවැය ලේඛනයක අඩංගු භෞමික අයිතමයක් වන්නේ,
 (1) ඉඩම් හා ගොඩනැගිලි සඳහා දරනු ලබන පිරිවැය වේ. (2) ව්‍යාපාර ආරම්භ කිරීමේ පිරිවැය වේ.
 (3) කිරිකිනාමය වේ. (4) ණය වාරික ගෙවීම් වේ.
 (5) පරිපාලන වියදම් වේ. (.....)
30. පහත සඳහන් දෑ අතුරෙන් මූල්‍ය පැලැස්මක ඇතුළත් භෞමිකයන්,
 (1) ඇස්තමේන්තුගත ආදායම් ප්‍රකාශයයි. (2) ණය ආසන්න ගෙවීම් සටහනයි.
 (3) ප්‍රාග්ධන අවශ්‍යතාවයි. (4) ඇස්තමේන්තුගත මුදල් ප්‍රවාහයයි.
 (5) සේවක අනුප්‍රාප්තික පැලැස්මයි. (.....)

• අංක 31 සිට 40 දක්වා ප්‍රශ්නවලට පිළිතුරු පැවසීමේ දී ගුරුතු වචන යොදා ගිණිතැන් පුරවන්න.

31. (අ) විවිධ පාර්ශවයන් අතුරෙන් ව්‍යාපාර තම පැවැත්ම තහවුරු කර ගැනීම සඳහා..... පිළිබඳ සැලකිලිමත් වන අතර, යම්කල පහසුකම් ලබා ගැනීම සඳහා පිළිබඳ සැලකිලිමත් වේ.
 (ආ) ව්‍යාපාරයක හර පද්ධතිය පරිසර සාධකයක් වන අතර, කාන්තයන් පරිසර සාධකයකි.
32. (අ) බදු ආදායම් යටතේ ද, වර්තන වියදම් යටතේ ද වර්ත කළ හැකි ය.
 (ආ) වාණිජ බැංකු හා ප්‍රාග්ධන අලෙවිකරුවන් රජයේ පුරපුම්පත් ඇපයට තබා මග බැංකුවෙන් අරමුදල් ලබා ගැනීමේ දී අය කරනු ලබන පොලී අනුපාතය ලෙසත්, මග බැංකුව විසින් සේවරා ගත් ක්ෂේත්‍ර සඳහා ලබා දෙන ණය සීමා පැනවීම ලෙසත් හඳුන්වනු ලැබේ.

33. හවුල් ව්‍යාපාරයක හා සීමාසහිත පෞද්ගලික සමාගමක මූලික ලක්ෂණ පදනම් කරගෙන පහත වගුව සම්පූර්ණ කරන්න.

සිරිභාගයක	හවුල් ව්‍යාපාරය	සීමාසහිත පෞද්ගලික සමාගම (Pvt)
1. සාමාජික සංඛ්‍යාව	2 - 20
2. වගකීම	සීමිතයි
3.	එකඟ වූ පරිදි	කොටස්
4. කළමනාකරණය	හවුල්කරුවන්

34. (අ) සමාගමක කොටස්කරුවකු වීම සඳහා අනිවාර්යයෙන් ම සපුරාලිය යුතු කොන්දේසි දෙක වන්නේ
 හා ය.
 (ආ) ශ්‍රී ලංකාවේ වරලත් ව්‍යාපාර සඳහා උදාහරණ දෙකක් වන්නේ හා
 ය.

35. ආයතනයක් බද්ධ සිටුවීමේ දොරටුව (Emergency Exit) පෙන්වන ඊතලය සහිත පුවරුව හා
 සන්නිවේදන ක්‍රමයක් වශයෙන් සැලකිය හැකි අතර, ආයතනය විසින් සාර්ථකවිකාසයට
 යවන ලද ලිපිය හා සන්නිවේදන ක්‍රමයකි.

36. (අ) අපනයනය කිරීමේ දී එම භාණ්ඩ අපනයනය කළ රටේ නිදහස ඇති බවට පිළිගත් ආයතනයක් විසින් නිකුත්
 කරනු ලබන ලියවිල්ල වේ.
 (ආ) ආනයනය කළ භාණ්ඩ ආනයනය කළ රට තුළ දී රේඛ අධීක්ෂණය යටතේ අගයන් එකතු කිරීමෙන් පසුව
 අපනයනය කිරීම වේ.

37. (අ) පස්වකයින් නම දායකත්වය ලබාදීම අභිප්‍රේරණයේ ප්‍රධාන ලක්ෂණය වේ.
 (ආ) ආයතනයක භාවිත කරනු ලබන කළමනාකරණ පාලන විධි දෙකක් ලෙස
 හා දැක්විය හැකි ය.

38. නිෂ්පාදන ක්‍රම වර්ගීකරණය සැලකිල්ලට ගනිමින් පහත දැක්වෙන වගුව සම්පූර්ණ කරන්න.

සිරිභාගය	භාර්ය නිෂ්පාදන	ප්‍රවාහ නිෂ්පාදන
1. නිමැවුම් පරිමාණය
2.	එක් නිෂ්පාදනයක් පමණයි

39. (අ) නිෂ්පාදන ක්‍රියාවලියේ එක් අදියරක් සම්පූර්ණ කිරීමට අවශ්‍ය සියලු දෑ එක් ස්ථානයකින් කළ හැකි ආකාරයට
 බිම් සැලැස්ම/පිරියත (Lay out) නිර්මාණය කිරීම වන අතර, සමස්ත
 නිෂ්පාදන ක්‍රියාවලියේ භාර්යන් අඛණ්ඩ ව ගලා යන ආකාරයට බිම් සැලැස්ම/පිරියත නිර්මාණය කිරීම
 වේ.
 (ආ) ආර්ථික ඇණවුම් ප්‍රමාණයේ දී (EOQ) පිරිවැය හා
 පිරිවැය එකිනෙකට සමාන වේ.

40. (අ) කොළඹ කොටස් වෙළෙඳපොළෙහි වර්තමානයේ භාවිතවන මිල දර්ශක දෙක වනුයේ
 හා ය.
 (ආ) විදේශිකයින් කොළඹ කොටස් වෙළෙඳපොළෙහි ගනුදෙනුවලට සම්බන්ධ වන්නේ
 ගිණුම් හරහා වන අතර මෙම ගිණුම් පවත්වාගෙන යන බැංකු නමින් හැඳින්වේ.

• අංක 41 සිට 50 තෙක් ප්‍රශ්නවලට නිශ්චිත පිළිතුරු සපයන්න.

41. ශ්‍රී ලංකා මහ බැංකුව විසින් ආර්ථිකයේ මුදල් සැපයුම් පාලනය කරන ආකාර ගණරක් ලියන්න.
 1.
 2.
 3.
 4.

42. විසිතුරු මල් වගා කිරීමේ ව්‍යාපාරයක් සඳහා පිබිට රජයෙන් ලබාගත හැකි සේවා දෙකක් හා ඒවා ලබාගත හැකි ආයතන
 දෙකක නම් පහත වගුවේ ලියන්න.

සේවා	ආයතන
1.
2.

43. සුළු ව්‍යාපාරවල සාර්ථකත්වය සඳහා රජයෙන් හෝ වෙනත් ආයතනවලින් ලබාදෙන සේවා වර්ග ගණරක් ලියන්න.
 1. 2.
 3. 4.

44. නියෝජිත කාර්යය අනුව එක් එක් නියෝජිතයා නම් කර, ඔවුන් විසින් ලබාගන්නා නියෝජිත භාණ්ඩ පහත සඳහන් වගුවෙහි දැක්වන්න.

කාර්යය	නියෝජිතයා	නියෝජිත භාණ්ඩ
1. ප්‍රධානියා වෙනුවෙන් ඔහුගේ කාර්යාල විද්‍යුත් තැපෑල මගින් එකතු කිරීම		
2. ප්‍රධානියා වෙනුවෙන් විවෘත ව හා වාරික ව ඉහළ මිල ගණන් සඳහා අලෙවි කටයුතු සම්බන්ධීකරණය කිරීම		

45. සාකච්ඡා වලට වෙනුවෙන් දී භාවිත වන පහත සඳහන් කෙටි යෙදුම්වල පූර්ණ තාමය ඒ ඉදිරිපත් ලියන්න.

1. CIF :
2. FOB :
3. L/C :
4. B/E :

46. (අ) ගිවිසුම්ගත ඉතිරි කිරීමේ ආයතන දෙකක් ලියන්න.

1.
2.

(ආ) විද්‍යුත් මුදල් පසුම්බියක් (e-wallet) භාවිත කිරීමේ වාසි දෙකක් සඳහන් කරන්න.

1.
2.

47. වෘත්තීය සම්ප්‍රදායේ ඇති කරගැනීමේ ප්‍රධාන අරමුණු හතරක් ලියන්න.

1.
2.
3.
4.




48. තොරතුරු වර්ගීකරණයේ නිර්ණායක හතරක් ලියන්න.

1.
2.
3.
4.

49. සංවිධාන සටහනකින් පෙන්වුම් සඳහා ඇති සංවිධාන ව්‍යුහයක ලක්ෂණ හතරක් ලියන්න.

1.
2.
3.
4.

50. භාණ්ඩ ඇසුරුම්වල සඳහන්, පොදුවේ භාවිත කරන සංකේත කිහිපයක් පහත දැක්වේ. එම සංකේතවලින් අදහස් කරන්නේ කුමක් දැයි සඳහන් කරන්න.

1. 
2. 
3. 
4. 