

ශ්‍රී ලංකා විභාග දෙපාර්තමේන්තුව ශ්‍රී ලංකා විභාග දෙපාර්තමේන්තුව ශ්‍රී ලංකා විභාග දෙපාර්තමේන්තුව ශ්‍රී ලංකා විභාග දෙපාර්තමේන්තුව ශ්‍රී ලංකා විභාග දෙපාර්තමේන්තුව  
 இலங்கைப் பரீட்சைத் திணைக்களம் இலங்கைப் பரීட்சைத் திணைக்களம் இலங்கைப் பரීட்சைத் திணைக்களம் இலங்கைப் பரීட்சைத் திணைக்களம் இலங்கைப் பரීட்சைத் திணைக்களம்  
 Department of Examinations, Sri Lanka Department of Examinations, Sri Lanka Department of Examinations, Sri Lanka Department of Examinations, Sri Lanka Department of Examinations, Sri Lanka  
 இலங்கைப் பரීட்சைத் திணைக்களம் இலங்கைப் பரීட்சைத் திணைக்களம் இலங்கைப் பரීட்சைத் திணைக்களம் இலங்கைப் பரīட்சைத் திணைக்களம் இலங்கைப் பரīட்சைத் திணைக்களம்  
 Department of Examinations, Sri Lanka Department of Examinations, Sri Lanka Department of Examinations, Sri Lanka Department of Examinations, Sri Lanka Department of Examinations, Sri Lanka

**අධ්‍යයන පොදු සාහිතික පන්ත (උසස් පෙළ) විභාගය, 2018 අගෝස්තු**  
**கல்விப் பொதுத் தராதரப் பரீட்சை (உயர் தர)ப் பரීட்சை, 2018 ஓகஸ்ட்**  
**General Certificate of Education (Adv. Level) Examination, August 2018**

2018.08.09/ 0830 - 1030

**ව්‍යාපාර අධ්‍යයනය I**  
**வணிகக் கல்வி I**  
**Business Studies I**

**32 S I**

**පැය දෙකයි**  
**இரண்டு மணித்தியாலம்**  
**Two hours**

**උපදෙස්:**

- \* සියලු ම ප්‍රශ්නවලට පිළිතුරු මෙම ප්‍රශ්න පත්‍රයේ ම සපයන්න.
- \* විභාග අංකය, ඉහළින් ඇති කොටුවේ පැහැදිලි ව සටහන් කරන්න.
- \* ප්‍රශ්න අංක 1 සිට 30 තෙක් වූ ප්‍රශ්නවලට නිවැරදි පිළිතුරු තෝරා, එහි අංකය ප්‍රශ්නය ඉදිරියෙන් ඇති තිත් ඉර මත ලියන්න.
- \* ප්‍රශ්න අංක 31 සිට 50 තෙක් වූ ප්‍රශ්නවලට කෙටි පිළිතුරු අදාළ තිත් ඉර මත ලියන්න.
- \* සෑම ප්‍රශ්නයකට ම ලකුණු දෙක බැගින් හිමි වේ.

විභාග අංකය : .....

පරීක්ෂණේ ප්‍රශ්නප්‍රකාරය හඳුනා පමණි.			
I පත්‍රය හඳුනා		අත්තන	සංඛේත අංකය
ප්‍රශ්න අංක	ලකුණු	1 වන පරීක්ෂණ	
01 - 30		2 වන පරීක්ෂණ	
31 - 50		අභි. ප්‍රධාන පරීක්ෂණ	
එකතුව		ප්‍රධාන පරීක්ෂණ	
		ගණිත පරීක්ෂණ	

1. මිනිස් අවශ්‍යතා හා වුවමනා පිළිබඳ නිවැරදි ප්‍රකාශය කුමක් ද?
  - (1) පුද්ගලයෙකුට අවශ්‍යතා අසීමිත ප්‍රමාණයක් ඇති අතර වුවමනා ඇත්තේ සීමිත ප්‍රමාණයක් වේ.
  - (2) ව්‍යාපාරිකයකුට අවශ්‍යතා නිර්මාණය කළ හැකි අතර වුවමනා නිර්මාණය කළ නොහැකි වේ.
  - (3) අවශ්‍යතා පොදුවන අතර වුවමනා පුද්ගලයාගෙන් පුද්ගලයාට වෙනස් වේ.
  - (4) ආදරය, ආහාර, ආරක්ෂාව, කාර්මික අධ්‍යාපනය අවශ්‍යතාවලට නිදසුන් කිහිපයක් වේ.
  - (5) වුවමනා තෘප්තිමත් කර ගැනීමට පුද්ගලයෙකු යම් නිෂ්පාදිතයක් තෝරා ගැනීම අවශ්‍යතාව වේ. (.....)
2. මනුෂ්‍ය සංවිධානයකට පොදු භෞමික ලක්ෂණයක් වන්නේ,
  - (1) සම්පත් භාවිතා කිරීම ය. (2) මිනිස් අවශ්‍යතා හා වුවමනා ඉටු කිරීම ය.
  - (3) භාණ්ඩ හෝ සේවා සැපයීම ය. (4) ලාභ ඉපැයීමේ අභිප්‍රායක් කිසිම ය.
  - (5) රජයේ ප්‍රතිපත්ති හා නීතිරීතිවලට අනුගත වීම ය. (.....)
3. නිෂ්පාදිත වර්ගීකරණයේ ගලායාම් හා එයට අදාළ උදාහරණය නිවැරදිව දක්වා ඇති පිළිතුර කුමක් ද?
  - (1) ස්පායය → භාණ්ඩ → කල් නොපවතින - මෝටර් වාහන
  - (2) ස්පායය → භාණ්ඩ → පාරිභෝගික සේවා - ප්‍රවාහනය
  - (3) අස්පායය → සේවා → සෘජු සේවා - බැංකු
  - (4) අස්පායය → භාණ්ඩ → භාවිතය අනුව - ගෘහ භාණ්ඩ
  - (5) ස්පායය → භාණ්ඩ → භාවිතය අනුව - රක්ෂණය (.....)
4. ව්‍යාපාර පරිසර බලවේග, සාධක හා ඒවායේ බලපෑම නිවැරදිව සඳහන් කර ඇති ප්‍රකාශය කුමක් ද?
  - (1) ව්‍යාපාරයක පරිගණක ක්‍රියාකරුවන් අභ්‍යන්තර සාධකයක් වන අතර ඔවුන්ගේ කුසලතා අඩුකම ව්‍යාපාරයට තර්ජනයක් වේ.
  - (2) තරගකරුවන් වැඩි වීම ව්‍යාපාරයට තර්ජනයක් වන අතර එය ආසන්න බාහිර පරිසර බලවේගයක් වේ.
  - (3) විදේශ විනිමය අනුපාතය පහත වැටීම අපනයනකරුවන්ට අවස්ථාවක් වන අතර එය ආසන්න බාහිර පරිසර බලවේගයක් වේ.
  - (4) මූල්‍ය ආයතන සාර්ව පරිසර බලවේගයක් වන අතර ඔවුන්ගේ දැඩි තරගකාරිත්වය ව්‍යාපාරවලට අවස්ථාවක් වේ.
  - (5) සංවිධාන ව්‍යුහය තුළ සන්නිවේදනය නිසි පරිදි සිදු වීම සංවිධානයට ශක්තියක් වන අතර එය ආසන්න බාහිර පරිසර බලවේගයක් වේ. (.....)

5. පාරිභෝගික ආරක්ෂණය තුළින් ලැබෙන ප්‍රතිලාභ කිහිපයක් පහත දැක්වේ.

- A - ගෙවන මුදලට සරිලන වටිනාකමක් ඇති භාණ්ඩ පරිභෝජනය කිරීමට හැකි වීම
- B - පාරිභෝගික විශ්වාසය දිනා ගැනීමට හැකි වීම
- C - භාණ්ඩයේ ප්‍රවර්ධන පිරිවැය අඩු කර ගැනීමට හැකි වීම
- D - භාණ්ඩයේ ප්‍රමිතිය තහවුරු කර ගැනීමට හැකි වීම
- E - විකුණුම් පිරිවැය වැඩි කර ගැනීමට හැකි වීම
- F - වෙළෙඳ විෂමාවාරවලට එරෙහි වීමට හැකි වීම

ඉහත දෑ අතුරෙන් ව්‍යාපාරිකයකුට පමණක් ලැබෙන ප්‍රතිලාභ ඇතුළත් පිළිතුර තුමක් ද?

- (1) ABC                      (2) ADF                      (3) BCE                      (4) BCF                      (5) BDF                      (.....)

6. නිමල් හා කමල් හවුල් ව්‍යාපාරයක් පවත්වාගෙන යන නමුත් ඔවුන් අතර හවුල් ගිවිසුමක් නොතිබුණි. පත්‍රගිය වසරේදී ඔවුන් විසින් යෙදූ ප්‍රාග්ධනයට මෙන්ම අමතරව යෙදූ ණය මුදල්වලට ද 5% ක පොලියක් ලබාගෙන ඇති අතර නිමල් තම ඕකුරෙකු වූ සුනිල්ව හුදෙක් සිය කැමැත්ත මත පමණක් හවුල්කරුවෙකු ලෙස සම්බන්ධ කර ගන්නා ලදී. කමල් ප්‍රධාන විධායක නිලධාරී වශයෙන් කමන්ට දැනට ලැබෙන වැටුප ප්‍රමාණවත් නොවන බව පවසා එය වැඩි කිරීමට ඉල්ලීමක් කර ඇත.

ඉහත සිද්ධියේ දැක්වෙන පරිදි මෙම හවුල් ව්‍යාපාරය හවුල් ව්‍යාපාර ආඥා පනතට අනුව උල්ලංඝනය කර ඇති කොන්දේසි ගණන කොපමණ ද?

- (1) එකකි.                      (2) දෙකකි.                      (3) තුනකි.                      (4) හතරකි.                      (5) කිසිවක් නැත.(.....)

7. ඇපයෙන් සීමිත සමාගමක ලක්ෂණයක් නොවන්නේ,

- (1) මහජනතාවට කොටස් නිකුත් කිරීමක් සිදු නොකිරීම ය.
- (2) අවම වශයෙන් සාමාජිකයින් දෙදෙනෙකුවත් සිටීම ය.
- (3) ලාභාංශ බෙදාහැරීමක් සිදු නොකිරීම ය.
- (4) ලාභ අභිප්‍රායෙන් ආරම්භ කිරීම ය.
- (5) සමාගම ඇවර කිරීමේදී එක් එක් සාමාජිකයා දායක විය යුතු මුදල සාංගමික ව්‍යවස්ථාවලියේ සඳහන් කිරීම ය. (.....)

8. සමුපකාර සමිතියක් ලියාපදිංචි කිරීමේදී සමුපකාර සංවර්ධන කොමසාරිස් වෙත ඉදිරිපත් කිරීමට අවශ්‍ය නොවන්නේ,

- (1) අතුරු ව්‍යවස්ථාවේ පිටපත් දෙකක් ය.
- (2) යෝජිත ආර්ථික කටයුතුවල යෝග්‍යතා වාර්තාව ය.
- (3) යෝජනා සම්මත වූ වාර්ෂික මහා සභා වාර්තාව ය.
- (4) සමිතිය පිහිටි ස්ථානයට ළඟාවන මාර්ග සිතියම ය.
- (5) ඉල්ලුම් පත්‍රයට අත්සන් තැබූ සාමාජිකයින්ගේ පෞද්ගලික තොරතුරු ය. (.....)

9. සිසිල් විධිමත් සැලසුම්කරණයට වඩා තම හැකියා මත විශ්වාසය තබා ඇති අතර අසීරු කාර්යයක් වුවත් ආරම්භ කර අඛණ්ඩව ක්‍රියාත්මක කරගෙන යාමට හැකියාවක් ඇත්තෙකි. ඔහු ව්‍යාපාරයේ පරමාර්ථ ඉටු කර ගැනීමට නව අදහස් මත කටයුතු කරයි.

ඉහත තොරතුරු අනුව සිසිල් සතු ව්‍යවසායකත්ව නිපුණතා සංඛ්‍යාව,

- (1) 1 කි.                      (2) 2 කි.                      (3) 3 කි.                      (4) 4 කි.                      (5) 5 කි.                      (.....)

10. සුළු පරිමාණ ව්‍යාපාර අසාර්ථක වීමට බලපානු ලබන සාධක කිහිපයක් පහත දැක්වේ.

- A - දැඩි තරගකාරිත්වය
- B - නිවැරදිව ගිණුම් පවත්වාගෙන නොයෑම
- C - යටිතල පහසුකම් ප්‍රමාණවත් නොවීම
- D - නිවැරදි සේවකයින් බඳවා නොගැනීම
- E - තව නිෂ්පාදිත කරා යොමු නොවීම
- F - කර්මාන්තයේ නිෂ්පාදන තාක්ෂණය වෙනස් වීම
- G - ව්‍යාපාර කාර්යඵල විශ්ලේෂණය නොකිරීම
- H - රජයේ බදු සහන අඩු කිරීම

ඉහත දෑ අතුරෙන් සුළු පරිමාණ ව්‍යවසායකයකුට පාලනය කළ හැකි සාධක පමණක් ඇතුළත් පිළිතුර තුමක් ද?

- (1) ACEH                      (2) ACFH                      (3) BCDG                      (4) BDEF                      (5) BDEG                      (.....)

11. මෙහි දැක්වෙන වගුවේ X තීරුව මගින් විවිධ මුදල් වර්ග ද, Y තීරුව මගින් ඊට අදාළ නිදසුන් කිහිපයක් ද දැක්වේ.  
මුදල් වර්ග හා උදාහරණ නිවැරදිව ගළපා ඇති කාණ්ඩය තෝරන්න.

X	Y
A. විද්‍යුත් මුදල්	1. භාණ්ඩාගාර බිල්පත
B. ආසන්න මුදල්	2. රඟ
C. ව්‍යවහාර මුදල්	3. ඉල්ලුම් තැන්පත්
D. බැංකු මුදල්	4. කාසි හා නෝට්ටු
E. ද්‍රව්‍ය මුදල්	5. ණය කාඩ්පත්

- (1) A-1, B-3, C-2, D-4, E-5
- (2) A-2, B-4, C-3, D-1, E-5
- (3) A-2, B-1, C-4, D-3, E-5
- (4) A-5, B-3, C-4, D-1, E-2
- (5) A-5, B-1, C-4, D-3, E-2

(.....)

12. වාණිජ බැංකුවක් මගින් ලබාගත හැකි ප්‍රතිලාභ හා පහසුකම් කිහිපයක් පහත දැක්වේ.

- A - පොලියක් ලබා ගැනීමට හැකි වීම
- B - වෙත්පත් තැන්පත් කිරීමට හැකි වීම
- C - නිත්‍ය නියෝග මත ගෙවීම් කළ හැකි වීම
- D - ණයපත් ලබා ගැනීමට හැකි වීම
- E - අයිරා පහසුකම් ලබා ගැනීමට හැකි වීම

ඉහත දෑ අතුරින් ඉතිරිකිරීමේ ගිණුම් හිමියෙකුට ලබා ගත හැකි ප්‍රතිලාභ හා පහසුකම් ගණන,

- (1) 1 කි. (2) 2 කි. (3) 3 කි. (4) 4 කි. (5) 5 කි. (.....)

13. බණ්ඩාර මහුගේ මෝටර් රථය සඳහා තෙවෙනි පාර්ශ්ව රක්ෂණයක් ලබා ගෙන තිබුණි. මහුගේ පුතා විසින් එම වාහනය පදවාගෙන යන අවස්ථාවකදී එය නිවසක වැදී වාහනයටත් එම නිවසටත් අලාභහානි සිදු වූ අතර පුතාට ද තුවාල සිදු විය.

ඉහත සිද්ධිය අනුව රක්ෂණ වන්දි ලබාගත හැකි වන්නේ,

- (1) වාහනයට පමණි. (2) නිවසට පමණි. (3) පුතාට පමණි.
- (4) වාහනයට හා නිවසට පමණි. (5) නිවසට හා පුතාට පමණි. (.....)

14. බිමල් කපා පැවැත්වීමට කැමති අයෙකි. මහුගේ කපා සාමාන්‍යයෙන් දිගු ය. මහු කපාවේදී බැඳැරුම් වචන සාවිච්චි කරන අතර සමහර විට පුද්ගලයින්ට ද අපහාස කරයි. මහු තමාගේ මතය දැඩි විශ්වාසයකින් ඉදිරිපත් කරන නමුත් ඇතැම් තොරතුරු සාවද්‍ය වේ. කෙසේ වුවත් මහුගේ කපා විලාසය සිත් ඇදගන්නා සුළු ය.

ඉහත විස්තර අනුව බිමල් විසින් කඩකරන්නා වූ සම්ප්‍රදායි සන්නිවේදනයක ගුණාංග සංඛ්‍යාව,

- (1) 1 කි. (2) 2 කි. (3) 3 කි. (4) 4 කි. (5) 5 කි. (.....)

15. පහත වගුවේ X තීරුවේ විද්‍යුත් මාධ්‍ය හරහා කරනු ලැබූ ව්‍යාපාර ක්‍රියාකාරකම් කිහිපයක් ද, Y තීරුවේ විද්‍යුත් වෙළෙඳ ආකෘති කිහිපයක් ද දැක්වේ.

X	Y
A - ආගමන විගමන දෙපාර්තමේන්තුව විදේශ ගමන් බලපත් සඳහා ඉල්ලුම් පත් භාර ගැනීම	1. B2 C
B - M සමාගම S සමාගමට සහල් තොග අලෙවි කිරීම	2. C2 C
C - ගුවන් ගමන් නියෝජිතයෙකු විසින් සමන්ට ගුවන් විකට්පතක් අලෙවි කිරීම	3. B2 G
D - සීමාසහිත A සමාගම රාජ්‍ය සංස්ථාවකට පරිගණක සැපයීම	4. G2 C
E - R විසින් තමාගේ ඉඩම D නමැති පුද්ගලයාට විකිණීම	5. B2 B

විද්‍යුත් ව්‍යාපාර ක්‍රියාකාරකම් හා විද්‍යුත් වෙළෙඳ ආකෘති නිවැරදි ලෙස ගළපා ඇති පිළිතුර තෝරන්න.

- (1) A-1, B-3, C-2, D-4, E-5 (2) A-2, B-4, C-3, D-1, E-5
- (3) A-3, B-5, C-1, D-4, E-2 (4) A-4, B-5, C-1, D-3, E-2
- (5) A-5, B-4, C-1, D-2, E-3

(.....)

16. කළමනාකරණයට හා කළමනාකරණ ක්‍රියාවලියේ කාර්යයන්ට (functions) අදාළ වඩාත් නිවැරදි ප්‍රකාශය තෝරන්න.

- (1) කිසියම් ගැටලුවකට ගනු ලැබූ නිශ්චිත විසඳුමක් ක්‍රියාත්මක කිරීමේ ක්‍රියාවලිය 'කළමනාකරණය' වේ.
- (2) ආයතනයක පරමාර්ථ හා අරමුණු ඉටු කර ගැනීමට ගනු ලබන පියවර ක්‍රියාත්මක කිරීමේ ක්‍රියාවලිය 'සැලසුම්කරණය' වේ.
- (3) ආයතනයක පරමාර්ථ හා අරමුණු ඉටුකර ගැනීමට සම්පත් බෙදාහැරීමේ ක්‍රියාවලිය 'සංවිධානකරණය' වේ.
- (4) ආයතනයක පරමාර්ථ හා අරමුණු ඉටුකර ගැනීම සඳහා සේවකයින්ට බලපෑම් කිරීමේ ක්‍රියාවලිය 'මෙහෙයවීම' වේ.
- (5) ආයතනයක පරමාර්ථ හා අරමුණු ඉටුකර ගන්නා ආකාරයට, සැලසුම්ගත හා සත්‍ය ප්‍රතිඵල අතර වෙනස්කම් නිවැරදි කිරීමට පියවර ගැනීමේ ක්‍රියාවලිය 'පාලනය' වේ.

(.....)

17. පහත වගුවේ X තීරුව මගින් තීරණ ගැනීමේ පියවර ද, Y තීරුව මගින් කිසියම් ආයතනයකට සම්බන්ධව එම පියවරවලට අදාළ තොරතුරු ද දැක්වේ.

X	Y
A. ගැටලුව හඳුනා ගැනීම	1. සේවා ප්‍රවර්ධන අංශයක් ස්ථාපිත කිරීම
B. විකල්ප විසඳුම් හඳුනා ගැනීම	2. අලෙවියෙන් පසු සේවා සැපයුම් ප්‍රවර්ධනය
C. විකල්ප ඇගයීම	3. විවිධ පාර්ශ්වයන්ගෙන් යෝජනා කැඳවීම
D. හොඳම විකල්පය තෝරා ගැනීම	4. පාරිභෝගික වුවමනා කාපේශිමක් කිරීමට අපොහොසත් වීම
E. තීරණය ක්‍රියාත්මක කිරීම	5. දෙන ලද යෝජනා කළමනාකරණ කමිටුවක විශ්ලේෂණය කිරීම

තීරණ ගැනීමේ පියවර හා ඊට අදාළ තොරතුරු නිවැරදිව ගලපා ඇති පිළිතුර තෝරන්න.

- (1) A-1, B-2, C-4, D-3, E-5
  - (2) A-2, B-1, C-3, D-5, E-4
  - (3) A-4, B-3, C-5, D-2, E-1
  - (4) A-4, B-2, C-3, D-1, E-5
  - (5) A-5, B-1, C-4, D-3, E-2
- (.....)

18. ඉවත්ව යාමේ සම්මුඛ පරීක්ෂණයේදී කළමනාකරුවෙකු විසින් ඉදිරිපත් කළ ප්‍රකාශය අනුව ඔහු ආයතනයෙන් ඉවත්වීමට බලපෑ ප්‍රධාන හේතුව වන්නේ, වැටුප ප්‍රමාණවත් නොවීම, විශාල සේවක සංඛ්‍යාවකගේ වැඩ අධීක්ෂණය කිරීමට සිදු වීම, එකවර විවිධ පාර්ශ්වයන්ගෙන් විධාන ලැබීම, තීරණ ගැනීමට නිදහසක් නොමැති වීම හා අවිධිමත් සම්බන්ධතා ප්‍රබල වීම හේතුවෙන් විධිමත් අධිකාරීත්වය ස්ථාපිත නොවීම වැනි කරුණු නිසා ඇති වූ මානසික ආතතියයි.

ඉහත ප්‍රකාශයට අනුව මෙම ආයතනයේ සංවිධානකරණයට අදාළ දුර්වලතා සංඛ්‍යාව,  
 (1) 1 කි. (2) 2 කි. (3) 3 කි. (4) 4 කි. (5) 5 කි. (.....)

19. 'ක්‍රියාවලි පිරිසක' යන්න නිවැරදිව විස්තර කෙරෙන ප්‍රකාශය තෝරන්න.

- (1) සමාන ශ්‍රිත හෝ ක්‍රියාවලි පදනම් කරමින් සිදු කරන පිරිසකයි.
  - (2) නිෂ්පාදන කාර්යයන් රේඛීයව ගලා යන ක්‍රමයට පදනම්ව සකස් වී ඇති පිරිසකයි.
  - (3) කොටසක් රේඛීයව ගලා යන ක්‍රමයටත්, තව කොටසක් නම්‍ය ලෙස ගලා යන ක්‍රමයටත් පදනම්ව සකස් වී ඇති පිරිසකයි.
  - (4) සමාන යන්ත්‍ර හා විෂම යන්ත්‍ර වෙන වෙන ම කුට්ටිල සවි කර සකස් වී ඇති පිරිසකයි.
  - (5) නිෂ්පාදනය සිදු කරන නිශ්චිත ස්ථානයට සියලුම උපකරණ හා අවශ්‍ය සෙසු ද්‍රව්‍ය ගෙනවිත් සකස් කෙරෙන පිරිසකයි.
- (.....)

20. පහත සඳහන් වන්නේ නොග පවත්වා ගැනීමට අදාළ වියදම් කිහිපයකි.

- A - ගබඩා වියදම්
- B - තොග භානිවීම
- C - රක්ෂණ ගාස්තු
- D - ගෙන ඒමේ වියදම්
- E - පරීක්ෂා කිරීමේ වියදම්
- F - ආරක්ෂක වියදම්
- G - මිල දී ගැනීමේ පිරිවැය
- H - තොග හිඟ වීමේ පිරිවැය

ඉහත සඳහන් දෑ අතුරෙන් නොග පවත්වා ගැනීමට අදාළ වියදම් පමණක් ඇතුළත් පිළිතුර තෝරන්න.

- (1) ABCF (2) ABCH (3) BCDE (4) BCFH (5) CDEG (.....)

21. පහත දැක්වෙන්නේ එලදායිතාව වැඩි කර ගැනීමට අනුගමනය කළ හැකි යැයි කළමනාකරුවන් විසින් අදහස් කෙරෙන ක්‍රම කිහිපයකි.

- A - නව තාක්ෂණ භාවිත කිරීම
- B - සහභාගීත්ව තීරණ ගැනීම හඳුන්වා දීම
- C - සේවක කල්පාදුව
- D - සම්පත් නාස්තිය අවම කිරීම
- E - නිෂ්පාදිත විවිධාංගීකරණය කිරීම
- F - සේවක පුහුණුකරණය වියදම් අඩු කිරීම
- G - නිෂ්පාදිතවල ලාභාන්තිකය වැඩි කිරීම

ඉහත දෑ අතුරෙන් එලදායිතාව වැඩි කර ගැනීමට යෝග්‍ය නොවන ක්‍රම මොනවා ද?

- (1) ABC (2) CDE (3) CFG (4) DEF (5) DFG (.....)

22. ආයුර්වේදීය දත්තාලේප නිෂ්පාදකයකුගේ අදහස අනුව සිය නිෂ්පාදිත ස්වාභාවික වර්ණයකින්, රසයකින්, පෙනුමකින් මෙන් ම ඉහළ ගුණත්වයකින් ද සමන්විත විය යුතු ය. මෙම අදහසට වඩාත් ම ගැළපෙන අලෙවිකරණ සංකල්පය කුමක් ද?

- (1) නිෂ්පාදන සංකල්පය
  - (2) නිෂ්පාදිත සංකල්පය
  - (3) විකුණුම් සංකල්පය
  - (4) අලෙවිකරණ සංකල්පය
  - (5) සාකලාවාදී අලෙවිකරණ සංකල්පය
- (.....)

23. පහත දැක්වෙන්නේ මූල්‍ය අනුපාත කිහිපයක් ගණනය කරනු ලබන ආකාර වේ.

A - ආයෝජන මත ප්‍රතිලාභ අනුපාතය =  $\frac{\text{බදු පසු ශුද්ධ ලාභය} + \text{පොලිය}}{\text{ස්ථාවර වත්කම්}} \times 100$

B - ශීඝ්‍රතම ප්‍රාග්ධනය මත ප්‍රතිලාභ අනුපාතය =  $\frac{\text{බදු පසු ශුද්ධ ලාභය} + \text{වරණීය ලාභාංශ}}{\text{ශීඝ්‍රතම ප්‍රාග්ධනය}} \times 100$

C - මුළු වත්කම් පිරිවැටුම් අනුපාතය =  $\frac{\text{විකුණුම්}}{\text{මුළු වත්කම්}}$

D - ණයගැති පිරිවැටුම් අනුපාතය =  $\frac{\text{විකුණුම්}}{\text{සාමාන්‍ය ණයගැතියෝ}}$

E - ජංගම අනුපාතය =  $\frac{\text{ජංගම වත්කම්}}{\text{ජංගම වගකීම්}}$

ඉහත දෑ අතුරෙන් නිවැරදිව ගණනය කර ඇති අනුපාත ගණන,

- (1) 1 කි. (2) 2 කි. (3) 3 කි. (4) 4 කි. (5) 5 කි. (.....)

24. පහත වගුවේ X නිරුව මගින් කොළඹ කොටස් හුවමාරුවේ ගනුදෙනු වන සුරැකුම්පත් වර්ග කිහිපයක් ද, Y නිරුව මගින් ඒවා සඳහා ලැබෙන ප්‍රතිලාභ ද දැක්වේ.

X	Y
A. සාමාන්‍ය කොටස්	1. ප්‍රාග්ධන ලාභ ලබා ගැනීමට හැකි වීම
B. වරණීය කොටස්	2. ස්ථිර පොලී ප්‍රතිභවයක් හිමි වීම
C. කොටස් බලපත්‍ර	3. සමාගමේ අයිතිය හිමි වීම
D. සාංගමික ණයකර	4. ආයෝජනයට වැඩි ආරක්ෂාවක් ලැබීම
E. රජයේ ණය සුරැකුම්පත්	5. ස්ථිර ලාභ ප්‍රතිභවයක් ලැබීම

සුරැකුම්පත් වර්ග හා ප්‍රතිලාභ නිවැරදිව ගළපා ඇති පිළිතුර තෝරන්න.

- (1) A-1, B-3, C-2, D-4, E-5 (2) A-3, B-2, C-1, D-5, E-4  
 (3) A-3, B-5, C-1, D-2, E-4 (4) A-2, B-3, C-1, D-5, E-4  
 (5) A-4, B-5, C-2, D-1, E-3

(.....)

25. මානව සම්පත් කළමනාකරණයට අදාළ වඩාත් නිවැරදි ප්‍රකාශය තෝරන්න.

- (1) නිශ්චිත අරමුණක් ඉටු කිරීම සඳහා ආයතනයේ වැඩ ඒකකවලට බෙදීම රැකියා නිර්මාණය වේ.  
 (2) රැකියාවක ලක්ෂණ පිළිබඳව ක්‍රමානුකූල අධ්‍යයනයක් කිරීම රැකියා විශ්ලේෂණය වේ.  
 (3) සේවකයකුගේ සුදුසුකම් විස්තර කෙරෙන ප්‍රකාශය රැකියා විස්තරය වේ.  
 (4) කිසියම් රැකියාවක් තුළ පවතින ගුණාංග විස්තර කෙරෙන ප්‍රකාශය රැකියා පිරිවිතරය වේ.  
 (5) රැකියා පිරිවිතරය හා රැකියා විස්තරය සකස් කිරීමට පදනම් වන්නේ රැකියා විශ්ලේෂණය වේ. (.....)

26. සේවක ආකර්ෂණ ක්‍රම තුළින් ඇති විය හැකි වාසි හා අවාසි කිහිපයක් පහත දැක්වේ.

- A - සේවකයින් අභිප්‍රේරණය වීම  
 B - සේවකයින් රඳවා ගැනීමට පහසු වීම  
 C - ආකර්ෂණ පිරිවැය අඩු වීම  
 D - නව දැනුම් ආයතනයට ලබා ගැනීමට හැකි වීම  
 E - සේවකයන් අතර තරඟයක් ඇති වීම  
 F - විශාල අයදුම්පත් සංඛ්‍යාවක් ලබා ගැනීමට හැකි වීම  
 G - සේවක කැපවීම වැඩි වීම  
 H - සේවක අනුස්ථාපන පුහුණු වියදම් වැඩි වීම

ඉහත දෑ අතුරෙන් අභ්‍යන්තර ආකර්ෂණය මගින් විය හැකි වාසි පමණක් ඇතුළත් පිළිතුර තෝරන්න.

- (1) ABCG (2) ACDG (3) BCGH (4) CEFG (5) DEFH (.....)

27. ගුවන් නියමුවකු ලෙස පුහුණුවන්නකුට ප්‍රායෝගික පුහුණුව ලබා දීම සඳහා වඩාත් ම යෝග්‍ය පුහුණු කිරීමේ ක්‍රමය වන්නේ,

- (1) දේශන හා සාකච්ඡා ය. (2) සමාකරණ පුහුණුව ය. (3) සීමාවාසික පුහුණුව ය.  
 (4) භූමිකා රංගනය ය. (5) ආධුනික පුහුණුව ය. (.....)

28. පහත වගුවේ X නිරුව මගින් කොරතුරු පද්ධතියක උපාංග ද Y නිරුව මගින් ඊට අදාළ නිදසුන් ද දැක්වේ.

X	Y
A. දෘඪාංග	1. සේවක අර්ථසාධක අරමුදල් ලිපි ගොනුව
B. මෘදුකාංග	2. පරිගණක ක්‍රියාකරු
C. ජීව්‍යාංග	3. ක්‍රියාකාරී පද්ධතිය
D. දත්ත	4. අනුමත කළ දත්ත පමණක් ඇතුළත් කිරීම
E. ක්‍රියාපටිපාටි	5. යතුරු පුවරුව

උපාංග හා නිදසුන් නිවැරදිව ගළපා ඇති පිළිතුර තෝරන්න.

- (1) A-1, B-3, C-2, D-4, E-5 (2) A-2, B-4, C-5, D-3, E-1  
 (3) A-3, B-1, C-4, D-2, E-5 (4) A-5, B-3, C-1, D-4, E-2  
 (5) A-5, B-3, C-2, D-1, E-4

(.....)

29. විද්‍යුත් (ඉලෙක්ට්‍රොනික්) තාක්ෂණය උපයෝගී කරගත් ව්‍යාපාර සම්බන්ධව දැක්වෙන නිවැරදි ප්‍රකාශය කුමක් ද?

- (1) විද්‍යුත් ව්‍යාපාර විද්‍යුත් වාණිජයේ උපකුලකයකි.  
 (2) විද්‍යුත් වාණිජය හා විද්‍යුත් අලෙවිකරණය යනු එකම දෙයකි.  
 (3) විද්‍යුත් ව්‍යාපාර හා විද්‍යුත් වාණිජය අතර සම්බන්ධයක් නැත.  
 (4) විද්‍යුත් වාණිජය හා විද්‍යුත් ව්‍යාපාර යනු එකම දෙයකි.  
 (5) විද්‍යුත් වාණිජය හා විද්‍යුත් අලෙවිකරණය විද්‍යුත් ව්‍යාපාරයේ උපකුලක වේ.

(.....)

30. ව්‍යාපාර සැලසුම්ක අංගයක් නිවැරදිව විස්තර කෙරෙන ප්‍රකාශය තෝරන්න.

- (1) කරගතාරී හා වෙළඳපොළ අත්පත් කර ගැනීමේ (විනිවිදයාමේ) උපායමාර්ග අඩංගු වන්නේ නිෂ්පාදන සැලැස්මෙහි ය.  
 (2) අවශ්‍ය සම්පත් ප්‍රමාණය හා නිෂ්පාදන ප්‍රමිති අඩංගු වන්නේ මෙහෙයුම් සැලැස්මෙහි ය.  
 (3) අවශ්‍ය මානව සම්පත අඩංගු වන්නේ මූල්‍ය සැලැස්මෙහි ය.  
 (4) අවශ්‍ය සියලු ම ඇස්තමේන්තුගත කොරතුරු අඩංගු වන්නේ අලෙවි සැලැස්මෙහි ය.  
 (5) ව්‍යාපාර උපායමාර්ග හා සංවිධාන ව්‍යුහය විස්තර කෙරෙන්නේ මානව සම්පත් සැලැස්මෙහි ය.

(.....)

● අංක 31 සිට 40 තෙක් ප්‍රශ්නවලට පිළිතුරු සැපයීමේදී හුදු වචන යොදා හිස්තැන් පුරවන්න.

31. (අ) ශ්‍රම විභජනයෙහි ප්‍රතිඵලයක් ලෙස පුද්ගල ..... ඇති වන අතර අතිරික්ත නිෂ්පාදන හුවමාරුව තුළින් ..... බිහි වේ.

(ආ) අයිතිකරුවන්ගේ වටිනාකම් හා විශ්වාසය මත සංවිධාන ..... ගොඩනැගෙන අතර එහි නොගැළපීම සංවිධානයට ..... වේ.

32. (අ) නිරසාර සංවර්ධනය මූලික කරගත් ව්‍යාපාර ආයතන විසින් ලාභය මෙන් ම ..... හා ..... පිළිබඳව ද සැලකිලිමත් විය යුතු ය.

(ආ) නිෂ්පාදනයේ සිට බෙදාහැරීම දක්වා ඇති සෑම අදියරේදී ම වර්ධක අගය මත අය කරන බදු ..... වන අතර සේවා නියුක්තිකයෙකුගේ පාරිශ්‍රමිකය (ලාභය) මත අය කරන බදු ..... වේ.

33. (අ) කේවල ස්වෘමී ව්‍යාපාරයක හිමිකරු ..... ට තනිව මුහුණ දෙන අතර ව්‍යාපාරයේ ..... මත බදු ගෙවයි.

(ආ) හවුල්කරුවන්ට ව්‍යාපාරයේ වෙළෙඳ කටයුතුවලට සහභාගීවීමේ ..... ඇති අතර ව්‍යාපාර කටයුතුවලට උනන්දුවෙන් සහභාගීවීමේ ..... ද ඇත.

34. (අ) අවදානමක් දරමින් ..... ඇති කරන පුද්ගලයා ව්‍යවසායකයකු වන අතර ඔහු සෑම විටම ..... නොවේ.

(ආ) බලපත්‍රලාභී වාණිජ බැංකුවලට මුදල් ..... හැකි අතර මුදල් ..... කළ නොහැකි ය.

35. (අ) රක්ෂණ ගිවිසුමක ක්‍රියාකාරිත්වය තුළින් මතුවන බාහිර පක්ෂය ..... පාර්ශ්වය වන අතර සේවයේ යෙදී සිටියදී සේවකයින්ට සිදුවන අනතුරු සඳහා වන්දි ගෙවීමට සේවය පක්ෂය විසින් ලබා ගන්නා රක්ෂණය..... රක්ෂණය වේ.

(ආ) ප්‍රවාහන පද්ධතියට අයත් මූලිකාංග අතුරෙන් ..... මූලිකාංගයට වරය අයත් වන අතර දුම්රිය මාර්ගය ..... මූලිකාංගයට අයත් වේ.

36. (අ) අදහසක් කිසියම් පණිවුඩයකට පරිවර්තනය කිරීමේ ක්‍රියාවලිය ..... නමින් හඳුන්වන අතර පණිවුඩලාභියා විසින් එම අදහස පරිවර්තනය කරගන්නා ක්‍රියාවලිය ..... වේ.

(ආ) මූල්‍ය සැලසුම්කරණය හා පාලනයේදී ..... අයවැය හා ..... අයවැය භාවිත වේ.

37. (අ) 'කළමනාකරණය' යන්න ගතික ව්‍යාපාර ..... කුළ ව්‍යාපාරයේ අරමුණු සඵලදායීව හා කාර්යක්ෂමව ඉටු කර ගැනීමට ආයතනයේ..... මෙහෙයවීම ලෙස හැඳින්විය හැකි ය.

(ආ) අධිකාරිය ..... මත නීත්‍යානුකූලව ලැබෙන බලයක් වන අතර විශේෂඥ බලය ..... මත ලැබෙන්නකි.

38. (අ) අවම තොග මට්ටම = ..... මට්ටම - (සාමාන්‍ය තොග භාවිතය X සාමාන්‍ය ..... )

(ආ) මුදල් ගෙවා අපොද්ගලිකව භාණ්ඩ හා සේවා ප්‍රවර්ධනය කිරීම ..... වන අතර ඉලක්ක කරගත් ගනුදෙනුකරුවන් පෙළඹවීම සඳහා කරනු ලබන කෙටිකාලීන දිරිගැන්වීමේ වැඩසටහන් ..... වේ.

39. (අ) දත්ත ඒව්‍යයේ ලක්ෂණ අනුව වෙන් කර ගැනීම ..... වන අතර අදහස් ඇති කර ගත හැකි පරිදි එම දත්ත කෙටිකර ඉදිරිපත් කිරීම..... වේ.

(ආ) සැලසුම් සකස් කිරීමේදී විකුණුම් ප්‍රමාණය ඇස්තමේන්තු කිරීම ..... පුරෝකථනයට ඇතුළත් වන අතර යන්ත්‍ර උපකරණ අවශ්‍යතා ..... සැලැස්මට අයත් වේ.

40. පහත සඳහන් වගන්තිවල සත්‍ය හෝ අසත්‍ය බව සඳහන් කරන්න.

- |  |                       |
|--|-----------------------|
| 1. දැනට සිටින සාමාන්‍ය කොටස්ගිම්මියන්ට මුදල් අයකර කොටස් ලබාදීම ප්‍රසාද කොටස් නිකුතුව වේ.   | සත්‍ය/අසත්‍ය<br>..... |
| 2. මුදල් අය කිරීමෙන් තොරව ලබාදෙන කොටස්, ගිම්මම් නිකුතුව වේ.  | .....                 |
| 3. සිය අයිතීන් රැකගැනීමට වෘත්තීය සමිති කළමනාකාරිත්වය සමග සාකච්ඡා කිරීම සාමූහික කේවල් කිරීම වේ.                                       | .....                 |
| 4. සාමූහික කේවල් කිරීමේ ක්‍රියාවලියකින් පසු යම්කිසි ආරවුලක් සම්බන්ධව සේවය සේවක දෙපාර්ශ්වය අතර ඇති කරගන්නා එකඟතාව සාමූහික ගිවිසුම වේ. | .....                 |

● අංක 41 සිට 50 තෙක් ප්‍රශ්නවලට හිමිවන පිළිතුරු සපයන්න.

41. පහත භාණ්ඩවල ගුණාංග හතරක් ලියන්න.

- |         |         |
|---------|---------|
| 1. .... | 2. .... |
| 3. .... | 4. .... |

42. ඇල්මැනි පාර්ශ්වකරුවෙකු ලෙස රජය, පාසල් කෙරෙහි අවධානය යොමු කිරීමට බලපාන හේතු හතරක් ලියන්න.

- |         |         |
|---------|---------|
| 1. .... | 2. .... |
| 3. .... | 4. .... |

43. පාරිභෝගිකයා සතු වගකීම් හතරක් සඳහන් කරන්න.

- |         |         |
|---------|---------|
| 1. .... | 2. .... |
| 3. .... | 4. .... |

44. විද්‍යුත් (ඉලෙක්ට්‍රොනික්) ගවේෂි පහසු කිරීම සඳහා ඇති පහසුකම් හතරක් ලියන්න.

- 1. ....
- 2. ....
- 3. ....
- 4. ....

45. වෙක්පත් ලිවීමේදී සැලකිල්ලට ගත යුතු කරුණු හතරක් ලියන්න.

- 1. .... 2. ....
- 3. .... 4. ....

46. ජාත්‍යන්තර වෙළඳාමෙහි වර්ධනයට බලපා ඇති කරුණු හතරක් ලියන්න.

- 1. ....
- 2. ....
- 3. ....
- 4. ....

47. පාලන ක්‍රියාවලියක් ආයතනයකට වැදගත් වන හේතු හතරක් ලියන්න.

- 1. ....
- 2. ....
- 3. ....
- 4. ....





48. සන්නම්කින් යුතුව භාණ්ඩ වෙළෙඳපොළට ඉදිරිපත් කිරීමෙන් නිෂ්පාදකයෙකුට ලැබෙන වාසි හතරක් ලියන්න.

- 1. ....
- 2. ....
- 3. ....
- 4. ....

49. සාමාන්‍ය කොටස් හිමියෙකු වෙත ලාභාංශවලට අමතරව සමාගමකින් ලැබෙන ප්‍රතිලාභ හතරක් ලියන්න.

- 1. .... 2. ....
- 3. .... 4. ....

50. පහත සඳහන් සංකේතවලින් අදහස් කෙරෙන්නේ කුමක් ද?

- 1.  .....
- 2.  .....
- 3.  .....
- 4.  .....