


இலங்கைப் பரீட்சைத் திணைக்களம்

க.பொ.த. (சாதாரண தர)ப் பரீட்சை - 2022 (2023)

60 - வணிகமும் கணக்கீட்டுக் கல்வியும்
புள்ளி வழங்கும் திட்டம்



இந்த விடைத்தாள் பரீட்சைக்கர்களின் உபயோகத்துக்காகத் தயாரிக்கப்பட்டது. பிரதம பரீட்சைக்கர்களின் கலந்துரையாடல் நடைபெறும் சந்தர்ப்பத்தில் பரிமாறிக்கொள்ளும் கருத்துக்களுக்கிணங்க, இதில் உள்ள சில விடயங்கள் மாறலாம்.

க.பொ.த (சாத.தர)ப் பரீட்சை - 2022 (2023)

60 - வணிகக்கல்வியும் கணக்கீடும்

வினாப்பத்திரம் I - 1 x 40 = 40 புள்ளிகள்

வினாப்பத்திரம் II

வினா இலக்கம் O1 கட்டாயமானது = 20 புள்ளிகள்

பகுதி I வணிகக்கல்வி

வினா இலக்கம் 2 மொத்தப்புள்ளிகள் = 08

வினா இலக்கம் 3 மொத்தப்புள்ளிகள் = 08

வினா இலக்கம் 4 மொத்தப்புள்ளிகள் = 08

(ஏதாவது இரு வினாக்களுக்கு 02 x 08 புள்ளிகள்) = 16 புள்ளிகள்

பகுதி II கணக்கீடு

வினா இலக்கம் 5 மொத்தப்புள்ளிகள் = 12

வினா இலக்கம் 6 மொத்தப்புள்ளிகள் = 12

வினா இலக்கம் 7 மொத்தப்புள்ளிகள் = 12

(ஏதாவது இரு வினாக்களுக்கு 02 x 12 புள்ளிகள்) = 24 புள்ளிகள்

மொத்தம் = 60 புள்ளிகள்

வினாப்பத்திரம் I	-	40 புள்ளிகள்
வினாப்பத்திரம் II	-	60 புள்ளிகள்
இறுதிப்புள்ளிகள்	-	<u>100</u>

க.பொ.த (சா.தர)ப் பரீட்சை - 2022 (2023)

விடைத்தாள்களுக்குப் புள்ளியிடல் - பொது நுட்ப முறைகள்

விடைத்தாள்களுக்குப் புள்ளியிடும் போதும், புள்ளிப்பட்டியலில் புள்ளிகளைப் பதியும் போதும் ஓர் அங்கீகரிக்கப்பட்ட முறையைக் கடைப்பிடித்தல் கட்பாயமானதாகும். அதன்பொருட்டு பின்வரும் முறையில் செயற்படவும்.

1. சகல உதவிப் பரீட்சகர்களும் விடைத்தாள்களுக்குப் புள்ளியிடுவதற்கு சிவப்பு நிற குமிழ்முனை பேனாவை பயன்படுத்தவும்.
2. பிரதம பரீட்சகர்கள் ஊதா நிறக் குமிழ் முனை பேனாவினை விடைத்தாள்களை புள்ளியிடுவதற்குப் பயன்படுத்தவும்.
3. சகல விடைத்தாள்களினதும் முதற்பக்கத்தில் உதவிப் பரீட்சகரின் குறியீட்டெண்ணைக் குறிப்பிடவும். இலக்கங்கள் எழுதும்போது தெளிவான இலக்கத்தில் எழுதவும்.
4. இலக்கங்களை எழுதும்போது பிழைகள் ஏற்பட்டால் அவற்றைத் தனிக்கோப்டினால் கீறிவிட்டு, மீண்டும் பக்கத்தில் சரியாக எழுதி, ஒப்பம் இடவும்.
5. ஒவ்வொரு வினாவினதும் உபபகுதிகளின் விடைகளுக்காக பெற்றுக்கொண்ட புள்ளியை பதியும் போது அந்த வினாப்பகுதிகளின் இறுதியில் Δ இன் உள் பதியவும். இறுதிப் புள்ளியை வினா இலக்கத்துடன் \square இன் உள் பின்னமாகப் பதியவும். புள்ளிகளைப் பதிவதற்கு பரீட்சகர்களுக்காக ஒதுக்கப்பட்ட நிரலை உபயோகிக்கவும்.
6. எண்கணித பரீட்சகரினால் புள்ளிகள் பிழையற்றது என உறுதிப்படுத்த நீலநிற அல்லது கருப்புநிறப் பேனாவினை உபயோகிக்கவும்.

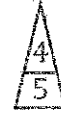
உதாரணம் - வினா இல 03

(i)

.....

.....

✓



(ii)

.....

.....

✓



(iii)

.....

.....

✓



$$\textcircled{03} \quad (i) \frac{4}{5} + (ii) \frac{3}{5} + (iii) \frac{3}{5} = \boxed{\frac{10}{15}}$$

பல்தேர்வு விடைத்தாள்

01 துளைத்தாள் தயாரித்தல்

- i. புள்ளி வழங்கும் திட்டத்தின் படி சரியான தெரிவைத் துளைத்தாளில் அடையாளமிடவும்.
- ii. அவ்வாறு அடையாளமிடப்பட்ட இடத்தை வெட்டி நீக்கித் துளைத்தாளைத் தயாரிக்கவும்.
- iii. துளைத்தாளை விடைகளின் மீது சரியாக வைத்துக்கொள்ளக்கூடியதாகச் சுட்டெண் அடைப்பையும் வெட்டி நீக்கவும். சரியான விடைகளின் எண்ணிக்கையைக் காட்டும் அடைப்பையும் வெட்டி நீக்கவும்.
- iv. சரியான, பிழையான விடைகளை குறிப்பிடக்கூடியதாக ஒவ்வொரு வரிசைக்கும் இறுதியில் வெற்று நிரையொன்றை வெட்டி ஏற்படுத்திக் கொள்ளவும்.
- v. வெட்டிக்கொண்ட துளைத்தாளில் பிரதம பரீட்சகரிடம் கையொப்பம் பெற்று அங்கீகரித்துக் கொள்ளவும்.

2. அதன் பின்னர் விடைத்தாளை நன்கு பரிசீலித்துப் பார்க்கவும். ஏதாவது வினாவுக்கு, ஒரு விடைக்கும் அதிகமாக குறியிட்டிருந்தாலோ, ஒரு விடைக்காவது குறியிடப்படாமலிருந்தாலோ தெரிவுகளை வெட்டிவிடக் கூடியதாக கோடொன்றைக் கீறவும். சில வேளைகளில் பரீட்சார்த்தி முன்னர் குறியிட்ட விடையை அழித்துவிட்டு வேறு விடைக்குக் குறியிட்டிருக்க முடியும். அவ்வாறு அழித்துள்ள போது நன்கு அழிக்காது விட்டிருந்தால், அவ்வாறு அழிக்கப்பட்ட தெரிவின் மீதும் கோடிலும்.
3. துளைத்தாளை விடைத்தாளின் மீது சரியாக வைக்கவும். சரியான விடையை ✓ அடையாளத்தாலும் பிழையான விடையை X அடையாளத்தாலும் இறுதி நிரலில் அடையாளமிடவும். சரியான விடைகளின் எண்ணிக்கையை அவ்வவ் தெரிவுகளின் இறுதி நிரையின் கீழ் எழுதவும். அத்துடன் அவற்றை கூட்டி சரியான புள்ளியை உரிய கட்டத்தில் எழுதவும்.

கட்டமைப்பு கட்டுரை மற்றும் கட்டுரை விடைத்தாள்கள்

1. பரீட்சார்த்திகளால் விடைத்தாளில் வெறுமையாக விடப்பட்டுள்ள இடங்களையும், பக்கங்களையும் குறுக்குக் கோட்டு வெட்டிவிடவும். பிழையான பொருத்தமற்ற விடைகளுக்குக் கீழ் கோட்டிடு பிழையிடவும் புள்ளி வழங்கக்கூடிய இடங்களில் ✓ அடையாளமிட்டு அதனைக் காட்டவும்.
2. புள்ளிகளை ஒவ்வொரு கட்டாசியின் இடது பக்கத்தில் குறிக்கவும்.
3. சகல வினாக்களுக்கும் கொடுத்த முழுப் புள்ளியை விடைத்தாளின் முன் பக்கத்திலுள்ள பொருத்தமான பெட்டியினுள் வினா இலக்கத்திற்கு நேராக 2 இலக்கங்களில் பதியவும். வினாத்தாளில் உள்ள அறிவுறுத்தலின் படி வினாக்கள் தெரிவு செய்யப்படல் வேண்டும். எல்லா வினாக்களினதும் புள்ளிகளும் முதல் பக்கத்தில் பதியப்பட்ட பின் விடைத்தாளில் மேலதிகமாக எழுதப்பட்டிருக்கும் விடைகளின் புள்ளிகளில் குறைவான புள்ளிகளை வெட்டி விடவும்.
4. மொத்தப் புள்ளிகளை கவனமாகக் கூட்டி முன் பக்கத்தில் உரிய கூட்டில் பதியவும். விடைத்தாளில் ஒவ்வொரு விடைக்கும் வழங்கப்பட்டுள்ள புள்ளிகளின் தொகையினை ஒவ்வொரு பக்கமாக கூட்டவும் அக்கூட்டுத்தொகை உங்களால் முன்பக்கத்தில் மொத்தம் எனக் குறிப்பிட்ட மொத்தப்புள்ளிகளுக்கு சமமானதா? என பரீட்சிக்கவும்.

* புள்ளிப்பட்டியல் தயாரித்தல்

- i. ஒரு வினாப்பத்திரம் உள்ள பாடங்கள்தவிர ஏனைய சகல பாடங்களுக்குமான இறுதிப்புள்ளி குழுவினுள் கணிப்பிடப்படமாட்டாது.
- ii. ஒவ்வொரு வினாப்பத்திரத்துக்குமான இறுதிப்புள்ளி தனித்தனியான புள்ளிப்பட்டியலில் பதியப்பட வேண்டும்.
- iii. வினாப்பத்திரம் I இற்கான புள்ளிப்பட்டியலில் "Total Marks" என்ற நிரலில் பதிந்து எழுத்திலும் எழுத வேண்டும்.
- iv. வினாப்பத்திரம் II இற்கான புள்ளிப்பட்டியலினைத் தயார் செய்யும் போது பகுதிப்புள்ளிகளை பதிவதோடு வினாப்பத்திரம் II இன் இறுதிப்புள்ளியை புள்ளிப்பட்டியலின் "Total Marks" என்ற நிரலில் பதியவும்.
- v. 43 சித்திரப் பாடத்திற்குரிய I, II, மற்றும் III ஆம் வினாப்பத்திரங்களுக்குரிய புள்ளிகளை தனித்தனியாக புள்ளிப்பட்டியலில் பதிந்து எழுத்திலும் எழுத்துதல் வேண்டும்.
- vi. 21 - சிங்களமொழியும் இலக்கியமும், 22 - தமிழ்மொழியும் இலக்கியமும் ஆகிய இரு பாடங்களும் வினாப்பத்திரம் I இற்குரிய புள்ளிகளை புள்ளிப்பட்டியலில் பதிந்து எழுத்திலும் எழுத வேண்டும். வினாப்பத்திரம் II, III இற்கான பகுதிப் புள்ளிகளை உள்ளடக்கி அவ்வினாப்பத்திரத்தின் மொத்தப் புள்ளிகளை புள்ளிப்பட்டியலில் பதிய வேண்டும்.

முக்கியக் குறிப்பு :

- i. சகல சந்தர்ப்பங்களிலும் ஒவ்வொரு வினாப்பத்திரத்திற்கும் உரிய முழுப்புள்ளியானது முழுத்தானத்தில் வினாப்பத்திரம் I, II மற்றும் III என்ற புள்ளிப்பட்டியலின் உரிய நிரலில் உரிய வகையில் பதிதல் வேண்டும். எந்தவிதமான காரணங்களிற்காகவும் வினாப்பத்திரத்தின் இறுதிப்புள்ளியானது தசம தானங்களில் அல்லது பின்னத்தில் பதியப்படலாகாது.
- ii. புள்ளிகளைப் பட்டியலில் சகல பக்கங்களிலும் புள்ளிகளை பதிந்த உதவிப் பரீட்சகர், புள்ளிகளைச் சரிபார்பார்த்த உதவி பரீட்சகர், புள்ளிகளை பரீட்சிக்கும் எண்கணித பரீட்சகர் (EMF) மற்றும் பிரதம பரீட்சகர் ஆகியோர் தமது குறியீட்டு இலக்கத்தை எழுதி கையொப்பமிட்டு உறுதிப்படுத்துவது கட்டாயமாகும்.

**60 வணிகமும் கணக்கீட்டுக் கல்வியும்
புள்ளி வழங்கும் விதம்**

வினாப்புத்திரம் I = 40 புள்ளிகள்

வினாப்புத்திரம் II

1ம் வினா = 20 புள்ளிகள்

பகுதி I - 2 x 08 = 16 புள்ளிகள்

பகுதி II 2 x 12 = 24 புள்ளிகள்

மொத்தப் புள்ளிகள் = 100 புள்ளிகள்

உப பகுதிகளுக்கூரிய புள்ளிகளைப் பதியும் போது தெளிவாக எழுத வேண்டும்.

உதாரணம்: i. $\frac{2}{2}$ ii. $\frac{1}{2}$ iii. $\frac{2}{2}$ iv. $\frac{1}{2} = \frac{06}{08}$

வினாப்புத்திரம் II

1ம் வினா

- | | | |
|----------------|---|----|
| I புள்ளிகள் | - | 02 |
| II புள்ளிகள் | - | 02 |
| III புள்ளிகள் | - | 02 |
| IV புள்ளிகள் | - | 02 |
| V புள்ளிகள் | - | 02 |
| VI புள்ளிகள் | - | 02 |
| VII புள்ளிகள் | - | 02 |
| VIII புள்ளிகள் | - | 02 |
| IX புள்ளிகள் | - | 02 |
| X புள்ளிகள் | - | 02 |

மொத்தப் புள்ளிகள் 20

பகுதி - I

வணிகக் கல்வி

2ம் வினா

- | | | |
|---------------|---|----|
| I புள்ளிகள் | - | 02 |
| II புள்ளிகள் | - | 02 |
| III புள்ளிகள் | - | 02 |
| IV புள்ளிகள் | - | 02 |

மொத்தப் புள்ளிகள் 08

3ம் வினா

- | | | |
|---------------|---|----|
| I புள்ளிகள் | - | 02 |
| II புள்ளிகள் | - | 02 |
| III புள்ளிகள் | - | 02 |
| IV புள்ளிகள் | - | 02 |

மொத்தப் புள்ளிகள் 08

4ம் வினா

- I புள்ளிகள் - 02
- II புள்ளிகள் - 02
- III புள்ளிகள் - 02
- IV புள்ளிகள் - 02

மொத்தப் புள்ளிகள் 08

பகுதி II
கணக்கீடு

5ம் வினா

- I புள்ளிகள் - 02
- II புள்ளிகள் - 02
- III புள்ளிகள் - 04
- IV புள்ளிகள் - 04

மொத்தப் புள்ளிகள் 12**6ம் வினா**

- I புள்ளிகள் - 02
- II புள்ளிகள் - 02
- III புள்ளிகள் - 04
- IV புள்ளிகள் - 04

மொத்தப் புள்ளிகள் 12**7ம் வினா**

- I புள்ளிகள் - 02
- II புள்ளிகள் - 02
- III புள்ளிகள் - 08

மொத்தப் புள்ளிகள் 12

සියලුම හිමිකම් ඇවිරිණි / முழுப் பதிப்புரிமைகள் பற்றி / All Rights Reserved

இலங்கை தேர்வுத் திணைக்களம் / இலங்கை தேர்வுத் திணைக்களம் / இலங்கை தேர்வுத் திணைக்களம்
 Department of Examinations, Sri Lanka / Department of Examinations, Sri Lanka / Department of Examinations, Sri Lanka
 இலங்கை தேர்வுத் திணைக்களம் / இலங்கை தேர்வுத் திணைக்களம் / இலங்கை தேர்வுத் திணைக்களம்
 Department of Examinations, Sri Lanka / Department of Examinations, Sri Lanka / Department of Examinations, Sri Lanka

60 T L, II

பொதுக் கல்வித் தர்பரீட்சை (பா.பொ.ரீ.பொ.) வினாமை, 2022(2023)
 கல்விப் பொதுத் தர்பரீட்சை (சாதாரண தர்பரீட்சை) 2022(2023)
General Certificate of Education (Ord. Level) Examination, 2022(2023)

வினாமை இலக்கணம் I, II
 வணிகக் கல்வியும் கணக்கீடும் I, II
Business and Accounting Studies I, II

மூன்று மணித்தியாலம் / Three hours

சேர்ந்த கிடைக்கக் கூடிய - இலக்கணம் 10 நிமிஷம்
 மேலதிக வாசிப்பு நேரம் - 10 நிமிஷங்கள்
 Additional Reading Time - 10 minutes
 வினாப்பத்திரத்தை வாசித்து, வினாக்களைத் தெரிவி செய்வதற்கும் வினா வழங்கும்படி முன்னறிமுக வழங்கும் வினாக்களை ஒழுங்கமைத்துக் கொள்வதற்கும் மேலதிக வாசிப்பு நேரத்தைப் பயன்படுத்தുക.

வணிகக் கல்வியும் கணக்கீடும் I

- அறிவுறுத்தல்கள் :**
- * எல்லா வினாக்களுக்கும் விடை எழுதுக.
 - * 1 தொகையில் 40 வரையுள்ள வினாக்கள் ஒவ்வொன்றிலும் (1), (2), (3), (4) என இலக்கிடப்பட்ட விடைகளில் சரியான அல்லது மிகப் பொருத்தமான விடையைத் தெரிவிசெய்க.
 - * உமக்கு வழங்கப்பட்டுள்ள விடைத்தாளில் ஒவ்வொரு வினாவுக்கும் உரிய வட்டங்களில் உமது விடையின் இலக்கத்தை ஒத்த வட்டத்தினுள்ளே புள்ளிவை (X) இடுக.
 - * அவ்விடைத்தாளின் மறுபக்கத்தில் குறிப்பிடப்பட்டுள்ள மற்றைய அறிவுறுத்தல்களையும் கவனமாக வாசித்து அவற்றைப் பின்பற்று.

- பின்வரும் சம்பவக் கற்கையை அடிப்படையாகக் கொண்டு 1 தொகையில் 5 வரையுள்ள வினாக்களுக்கு விடை தருக.
 பொறியியலாளரான ஆதியா தனது கலாநிதிப் பட்டியடிப்பின் மூலத்தின்மூலம் "ரோஸ்வில்லா" அடுக்கு மாடிக் குடியிருப்பில் வசித்து வருகிறார். இவர் "விஜயா சோலர் பனல்" எனும் பெயரில் குடிய சக்தி மூலம் மின்சாரம் பெறும் கலங்களைக் தயாரித்து விநியோகிக்கும் வணிகமொன்றை நடத்தி வருகிறார். இத் தயாரிப்புக்குத் தேவையான மூலப்பொருட்களை வரையறுத்த சண் பவர் (தனியார்) கம்பனியானது தொழிற்சாலை வழங்கி வருகிறது. சகான் தயாரிப்பு நடவடிக்கைகளுக்கு உதவி செய்கின்றார். இத் தயாரிப்புக்கள் ரூபன் என்பவருக்குச் சொந்தமான "ரெக் சிறி" சிறப்புச் சந்தையின் விநியோகச் சங்கிலி மூலம் விநியோகம் செய்யப்பட்டு வருகின்றது.
- 1. மேலே தரப்பட்ட சம்பவக் கற்கையில் ஆதியா தனது வி.மைப்புத் தேவையை நிறைவேற்றிக் கொண்டு து. (1) விஜயா சோலர் பனல் வணிகத்தின் மூலம் ஆகும். (2) ரெக் சிறி சிறப்புச் சந்தை மூலம் ஆகும். (3) வரையறுத்த சண் பவர் (தனியார்) கம்பனி மூலம் ஆகும். (4) ரோஸ்வில்லா அடுக்குமாடிக் குடியிருப்பு மூலம் ஆகும்.
- 2. "விஜயா சோலர் பனல்" வணிகத்தின் மூலம் பூச்சுரால் காரணிகளை ஈட்டும் உள்ளடக்கியுள்ள விடையைத் தெரிவிசெய்க. (1) ஆதியா, ரெக் சிறி சிறப்புச் சந்தை (2) ரூபன், வரையறுத்த சண் பவர் (தனியார்) கம்பனி (3) சகான், ரெக் சிறி சிறப்புச் சந்தை (4) சகான், வரையறுத்த சண் பவர் (தனியார்) கம்பனி
- 3. "ரெக் சிறி" சிறப்புச் சந்தையின் விநியோகச் சங்கிலியானது விஜயா சோலர் பனல் வணிகத்துக்கு. (1) ஒரு பல்ம அகும். (2) ஒரு பல்ம அகும். (3) ஒரு வாய்ப்பு ஆகும். (4) ஒரு அச்சுறுத்தல் ஆகும்.
- 4. ஆதியா வணிகத்தின் உறுதுதிக்க காரணியான மூலத்தைத்திற்கான் உதரணமாக அமைவது. (1) ரெக் சிறி சிறப்புச் சந்தையின் கட்டடம் ஆகும். (2) வரையறுத்த சண் பவர் (தனியார்) கம்பனியின் கட்டடம் ஆகும். (3) ரோஸ்வில்லா அடுக்குமாடிக் குடியிருப்பு ஆகும். (4) விஜயா சோலர் பனல் வணிகத்தின் கட்டடம் ஆகும்.

5. வரையறுத்த சண் பவர் (தனியார்) கம்பனி, விஜயா சோலார் பஸ் வணிகத்தில் அக்கறை செலுத்துவதற்கான காரணம்

- (1) பங்குடையத்தைப் பெற்றுக்கொள்வதற்காக
- (2) தொடர்ச்சியாகக் கட்டளைகளைப் பெற்றுக்கொள்வதற்காக
- (3) நியாயமான விலையில் தயாரிப்புகளைப் பெற்றுக்கொள்வதற்காக
- (4) முதலீடுக்கான பாதுகாப்பை உறுதிப்படுத்திக்கொள்வதற்காக

6. தற்போது பெரும்பாலான வணிகங்கள் பங்கு விலையில் பார்க்க கூட்டுணைக்கப்பட்ட கம்பனிகளாகச் செயற்பட முன்னுரிமையளிக்கின்றன. இதற்கான காரணமாவது.

- (1) இலாபங்களின் விரிவோகம்
- (2) உடனடியானமையின் பிரிப்பு
- (3) வரையறுக்கப்படாத நடவடிக்கை பொறுப்பு
- (4) சட்ட ஆளுமை

7. வரையறுக்கப்பட்ட மாந்தரகம் பலநோக்குக் கூட்டுறவுச் சங்கமானது ஒரு ① குறை ② நிறுவனம் ஆகும்.

மேலே தரப்பட்ட கூற்றில் முறையே ① ஆம் ② ஆம் இடைவெளிகளுக்குரிய சரியான சொற்களைக் காட்டும் விடையைத் தெரிவுசெய்க.

- | | |
|-----------------------------|----------------------------|
| (1) தனியார், இலாப நோக்குடைய | (2) தனியார், இலாப நோக்கற்ற |
| (3) பொது, இலாப நோக்குடைய | (4) பொது, இலாப நோக்கற்ற |

8. கார்போரேட் கொடுக்கல்வாங்கலில் அதற்குரிய வணிக வங்கியானது எப்பொழுதும்,

- | | |
|--------------------------|-----------------------------|
| (1) வரைபணி ஆகும். | (2) வரைவுணி (drawee) ஆகும். |
| (3) பணம் பெறுபவர் ஆகும். | (4) பங்குதாரியுருவர் ஆகும். |

9. கீழே தரப்படுவது வணிக வங்கி ஒன்றினால் வழங்கப்படும் சில வசதிகள் ஆகும்.

- A - எங்கி மேலதிகப் பந்தரை வழங்குதல்
- B - வைப்புதலுக்கு வட்டிகளைச் செலுத்துதல்
- C - நிலையான கட்டளைகளை அமுல்படுத்துதல்
- D - கார்போரேட்களின் மூலம் கொடுப்பனவுகளைச் செய்தல்

மேலே தரப்பட்டவற்றுள் நடைமுறைக் கணக்கைப் பேணுபவரால் மட்டும் பெற்றுக்கொள்ளக்கூடிய வசதிகளாவன

- | | |
|--------------------------|--------------------------|
| (1) A யும் C யும் ஆகும். | (2) A யும் D யும் ஆகும். |
| (3) B யும் D யும் ஆகும். | (4) C யும் D யும் ஆகும். |

10. பின்வரும் அட்டவணையில் சில தொடர்பாடல் வழிகள் மற்றும் முறைகள் தரப்பட்டுள்ளன.

தொடர்பாடல் வழிகள்	தொடர்பாடல் முறைகள்
1 - வாய்மொழி	A - தொலைநகல் (fax) தகவல்
2 - எழுத்து	B - தொலைபேசி
3 - இலத்திரனியல் வாய்மொழி	C - கூட்டம்
4 - இலத்திரனியல் எழுத்து	D - அறிவித்தல் பலகை

மேலே தரப்பட்டுள்ள தொடர்பாடல் வழிகளின் ஒழுங்கிற்கமையாக தொடர்பாடல் முறைகளை சரியாக எடுத்துக் காட்டும் விடையைத் தெரிவுசெய்க.

- | | | | |
|----------------|----------------|----------------|----------------|
| (1) A, C, B, D | (2) B, A, C, D | (3) C, D, A, B | (4) C, D, B, A |
|----------------|----------------|----------------|----------------|

11. ரூ 5,000,000 இற்கு கார்ப்புறதி செய்யப்பட்ட நுவான் என்பவருக்குச் சொந்தமான மேட்டார் வாகனமானது விபத்துக்குள்ளாவது. ஆனால் கார்ப்புறதிக் கம்பனியானது ரூ 300,000 ஐ மட்டுமே நடவடிக் வழங்கியது. இதில் தாக்கத்தை ஏற்படுத்திய கார்ப்புறதிக் தத்துவமானது.

- | | |
|------------------------------|-------------------|
| (1) மிகுபுர நன்றப்பிக்கை | (2) நட்பு |
| (3) கார்ப்புறதி செய்தல் நலன் | (4) பதிலளி வைப்பு |

12. மைத்திரேயி என்பவர் தனது தோட்டத்தில் சாகுபடி செய்த பழங்களை பழக் கடை ஒன்றை நடாத்தி வரும் குமாரி என்பவருக்கு விற்பனை செய்கின்றார். குமாரிடம் வாங்கும் பழங்கள் மிகவும் சுவையானது என ருபனுடைய மனைவி கூறினாள்.

மேலே தரப்பட்ட சம்பவக் கதைப்படி சரியான கூற்றைத் தெரிவிசெய்க.

- (1) மைத்திரேயியிடமிருந்து குமாரி பழங்களைக் கொள்வனவு செய்தல் மொத்த வியாபாரம் ஆகும்.
- (2) குமாரிடமிருந்து ருபன் பழங்களைக் கொள்வனவு செய்தல் மொத்த வியாபாரம் ஆகும்.
- (3) குமாரி ருபனுக்கு பழங்களை விற்பனை செய்தல் மொத்த வியாபாரம் ஆகும்.
- (4) மைத்திரேயி, குமாரிக்கு பழங்களை விற்பனை செய்தல் சில்லறை வியாபாரம் ஆகும்.

13. போக்குவரத்தின் அடிப்படைக் கூறாக தரப்பட்டிருக்கான உதாரணமாக அமைவது

- (1) பண்டாரநாயக்கர் சர்வதேச விமான நிலையம்
- (2) இலங்கை மின்சார சபை
- (3) இலங்கையில் வீதி அபிவிருத்தி அதிகார சபை
- (4) இலங்கை பெட்ரோலியக் கூட்டுத்தாபனம்

14. ஸ்தலமையத்துவத் தொழிற்பாடான திட்டமிடலுக்கான, பாடசாலைப்பின் நடவடிக்கை ஒன்று

- (1) வகுப்பு இறுதியில் மாணவர்களுக்கான முன்வெற்றி ஆறிக்கையை வழங்குதல்
- (2) மாணவர்களுக்கான தினவரவு இடாப்பைப் பதிவு செய்தல்
- (3) பகுதித் தலைவர்களை நியமித்தல்
- (4) வகுப்புகளை நேரூசி அடவண்ணைபைத் தயாரித்தல்

15. முயற்சிப்பாளர் ஒருவர் தனது தயாரிப்புக்காக மீளவும் பயன்படுத்தக்கூடிய பொது ஒன்றை கடிவமைத்தார். இப்பொதியை உள்ளடக்கியுள்ள சந்தைப்படுத்தல் கல்வையின் மாறி யானது?

- (1) உற்பத்திப்பொருள் (2) விலை (3) இடம் (4) கிடைப்படுத்தல்

16. முதலிடப்பாளர் ஒருவர் முதலீடு செய்வதன் மூலம் முதல்தலை ஆதாயங்களை மட்டும் பெற்றுக்கொள்ளக் கூடியது

- (1) நகைகவர் மற்றும் காணிகள் ஆகும்.
- (2) காணிகள் மற்றும் பங்குகள் ஆகும்.
- (3) நிலையான வைப்புகள் மற்றும் திறைசேரி உண்டியல்கள் ஆகும்.
- (4) பங்குகள் மற்றும் சேமிப்புக் கணக்குகள் ஆகும்.

17. வரையில் அதிகரிப்பு செலவில் குறைவு என்ற இரட்டைப் பதிவுத் தத்துவம் பொருத்தமானது

- (1) சொத்துக்களுக்கு மட்டும் ஆகும். (2) செலவுகளுக்கு மட்டும் ஆகும்.
- (3) சொத்துக்களுக்கும் செலவுகளுக்கும் ஆகும். (4) செலவுகளுக்கும் பொறுப்புக்களுக்கும் ஆகும்.

18. வணிகமொன்றின் கணக்கீடு சமன்பாட்டில் உரிமைபாண்டையின் மாற்றத்தில் தாக்கத்தை ஏற்படுத்தக்கூடிய கொடுக்கல்வாங்கல்

- (1) ரூ. 5 000 பெறுமதியான பொருட்களை கடனுக்கு கொள்வனவு செய்தல்.
- (2) வணிகத்தின் மின்சாரம் பட்டியல் ரூ. 12 000 ஐ செலுத்தத்தல்.
- (3) ரூ. 50 000 பெறுமதியான தளபாடங்களை காசுக்குக் கொள்வனவு செய்தல்.
- (4) கடன்பட்டிர் ஒருவரிடமிருந்து ரூ. 14 000 காசோலை பெறுதல்.

19. ராகுல் என்பவர் ரூ. 7 000 கிரயமான பொருட்களை ரூ. 10 000 இறகு காசுக்கு விற்பனை செய்தார். இக் கொடுக்கல்வாங்கல் மூலம் அவரது வணிகத்தின் மொத்தச் சொத்துக்களின் தொகை

- (1) ரூ. 3 000 ஆல் அதிகரிக்கும். (2) ரூ. 7 000 ஆல் குறையும்.
- (3) ரூ. 10 000 ஆல் அதிகரிக்கும். (4) மாற்றம் ஏதுவும் ஏற்படாது.

20. 31.03.2023 இல் இருந்தவாறு மாதவன் வணிகத்தின் கணக்கீடுச் சமன்பாடு பின்வருமாறு

$$\text{சொத்துகள் (ரூ.)} = \text{உரிமைபாண்டைம் (ரூ.)} + \text{பொறுப்புகள் (ரூ.)}$$

$$₹150,000 \quad \quad \quad ₹100,000 \quad \quad \quad ₹50,000$$

கொடுக்கல்வாங்கல் ஒன்றின் பின்னரும் இக் கணக்கீடுச் சமன்பாட்டின் பெறுமதியில் மாற்றம் ஏற்படவில்லை எனின், ஆக் கொடுக்கல்வாங்கல் எது?

- (1) கடன்கொடுத்தோர் ஒருவருக்கு ரூ. 7 500 செலுத்தியது.
- (2) கடன்பட்டிர் ஒருவரிடமிருந்து ரூ. 10 000 பெற்றுக்கொண்டது.
- (3) தரகு வருமானம் ரூ. 15 000 பெற்றுக்கொண்டது.
- (4) அலுவலகத்திற்காக ரூ. 100 000 பெறுமதியான தளபாடங்கள் கடனுக்குக் கொள்வனவு செய்யப்பட்டது.

21. வணிகமொன்றின் சொத்துக்கள் மற்றும் பொறுப்புகள் ஆகிய இரண்டிலும் குறைவை ஏற்படுத்தும் கொடுக்கல்வாங்கல் எது?

- (1) உடைமையாளர் தனது சொந்தத் தேவைக்காக ரூ. 10 000 ஜ. வணிகத்தில் இருந்து எடுத்தல்.
- (2) வணிகமானது கடன்பட்டோர் ஒருவரிடமிருந்து ரூ. 7 000 பெற்றுக்கொள்ளுதல்.
- (3) வணிகமானது ரூ. 8 000 பெறுமதியான சரக்குகளை கடனுக்குக் கொள்வனவு செய்தல்.
- (4) வணிகமானது கடன்கொடுத்தோர் ஒருவருக்கு ரூ. 5 000 ஐக் காசாகச் செலுத்துதல்.

22. வணிகமொன்று தனது அலுவலகத்திற்காக மொட்டுவ தளபாடங்கள் இடமிருந்து ரூ. 250 000 பெறுமதியான தளபாடங்களை காசுக்குக் கொள்வனவு செய்தது. இக்கொடுக்கல்வாங்கலுக்கான கரிபான இரட்டைப் பதிவை தெரிவுசெய்க.

(1) கொள்வனவுக் கணக்கு	வரவு	250 000
காசுக் கணக்கு	செலவு	250 000
(2) கொள்வனவுக் கணக்கு	வரவு	250 000
மொட்டுவ தளபாடங்கள் கணக்கு	செலவு	250 000
(3) தளபாடங்கள் கணக்கு	வரவு	250 000
காசுக் கணக்கு	செலவு	250 000
(4) தளபாடங்கள் கணக்கு	வரவு	250 000
மொட்டுவ தளபாடங்கள் கணக்கு	செலவு	250 000

● பின்வரும் தகவல்களைப் பயன்படுத்தி 23, 24 ஆகிய வினாக்களுக்கு விடை தருக.
வணிகமொன்றில் நிகழ்ந்த சில கொடுக்கல்வாங்கல்கள் பின்வருமாறு.

- A - கடன் கொள்வனவு ரூ. 20 000
- B - காசு விற்பனை ரூ. 30 000
- C - கடன்கொடுத்தோருக்கு செலுத்தியது ரூ. 25 000
- D - அலுவலகத்திற்காக கணினிகள் கடனுக்கு கொள்வனவு செய்தது ரூ. 100 000

23. கொடுப்பனவு கைச்சாத்து, மூல ஆவணமாகப் பயன்படுத்தப்படும் கொடுக்கல்வாங்கல்
(1) A ஆகும். (2) B ஆகும். (3) C ஆகும். (4) D ஆகும்.

24. மேலே தரப்பட்ட A, B, C மற்றும் D ஆகிய கொடுக்கல்வாங்கல்களைப் பதிவு செய்ததற்குப் பயன்படுத்தாத மூலப்பதிவேடு எது?

- (1) கொள்வனவு நாட்குறிப்பேடு
- (2) விற்பனை நாட்குறிப்பேடு
- (3) காசேடு
- (4) பொது நாட்குறிப்பேடு

25. இரட்டைப் பதிவுகளானது இரண்டு மூலப்பதிவு எடுகளில் பதிவுசெய்யப்படும் கொடுக்கல்வாங்கலைத் தெரிவுசெய்க.

- (1) கடன்பட்டோர் ஒருவரிடமிருந்து ரூ. 15 000 காசோலை பெற்றுக்கொள்ளுதல்.
- (2) சில்லறைக்காக வசக்கூடடை மீளிரிப்பு செய்ததற்கு ரூ. 3 600 பெற்றுக்கொள்ளுதல்.
- (3) வணிகத்திற்காக ரூ. 2 500 000 பெறுமதியான மொட்டுவ வாடகைகள் காசுக்குக் கொள்வனவு செய்தல்.
- (4) வணிகத்தின் பணத்திலிருந்து உடைமையாளரின் தனிப்பட்ட காப்புறுதிக் கொடுப்பணம் ரூ. 10 000 செலுத்துதல்.

26. 31.03.2023 இல் இருந்துவந்து ரொசானா வணிகத்தின் சில்லறைக் காசேட்டு மதி ரூ. 500 ஆகும். மீளிரிப்பான்களாக 01.04.2023 இல் ரூ. 4 500 பெற்றுக்கொள்ளப்பட்டது. 30.04.2023 இல் சில்லறைக் காசேட்டு மதி ரூ. 400 ஆக இருந்தது எனின், சில்லறைக் காசேட்டை மீளிரிப்புவதற்காக 01.05.2023 இல் பெற்றுக்கொள்ளப்பட்ட தொகை

- (1) ரூ. 4 500
- (2) ரூ. 4 600
- (3) ரூ. 5 000
- (4) ரூ. 5 400

27. சக்தி வணிகத்தின் பேரேட்டுள் குறித்தவொரு கொடுக்கல்வாங்கலைப் பதிவுசெய்வதற்குரிய இரட்டைப் பதிவு பின்வருமாறு

வங்கிக் கணக்கு	வரவு	ரூ. 12 000
விற்பனைக் கணக்கு	செலவு	ரூ. 12 000

மேலே தரப்பட்ட இரட்டைப் பதிவுக்குரிய கொடுக்கல்வாங்கலைத் தெரிவுசெய்க.

- (1) கடன்பட்டோர் ஒருவரிடமிருந்து பெறப்பட்ட ரூ. 12 000 காசோலை வங்கியில் வைப்பிலிடப்பட்டது.
- (2) கடன் என்பவருக்கு காசுக்கு விற்பனை செய்ததற்காக பெறப்பட்ட காசோலை ரூ. 12 000 மாற்றுப்பட்டது.
- (3) காசுக்கு விற்பனை செய்ததற்காக பெறப்பட்ட காசோலை ரூ. 12 000 அதே தருணத்தில் வங்கியில் வைப்பிலிடப்பட்டது.
- (4) காசுக்கு விற்பனை செய்ததற்காக கடந்தவாறம் பெறப்பட்ட காசோலை ரூ. 12 000 வங்கியில் வைப்பிலிடப்பட்டது.

28. 31.03.2023 இல் இருந்தவாறு கதர்சன் வணிகத்தின் வங்கிக் கணக்கு மீதி ரூ. 12 500 ஆக காணப்பட்டது. அதே திணைத்தில் வங்கிக் கணக்கு மீதி ரூ. 9 000 ஆக இருந்தது. இம்மாற்றத்தில் ஒரு கொடுக்கல்வாங்கல் மட்டுமே தூக்கம் செலுத்தியது. எனின் இக் கொடுக்கல்வாங்கலானது

- (1) கடன்பட்டோர் ஒருவரால் வணிகத்தின் வங்கிக் கணக்கிற்கு நேரடியாக அனுப்பப்பட்ட தொகை ரூ. 3 500 ஆகும்.
- (2) வணிகத்தின் வங்கிக் கணக்கிற்கு நேரடியாக அனுப்பப்பட்ட பங்கில்லப் வருமானம் ரூ. 3 500 ஆகும்.
- (3) கடன்கொடுத்தோர் ஒருவருக்கு வணிகத்தினால் வழங்கப்பட்ட காசோலை ரூ. 3 500 வங்கியில் இன்னமும் சமர்ப்பிக்கப்படவில்லை.
- (4) நிலையான கட்டளையின் மீது வங்கியால் செலுத்தப்பட்ட மின்சாரப் பட்டியல் ரூ. 3 500 ஆகும்.

29. வங்கிக் கணக்குப் பெற்றுக்கொண்டதன் பின்னர் வணிகத்தின் வங்கிக் கணக்கு மீதியை சீராக்கும்போது வங்கிக் கணக்கிற்கு வரவு வைக்கப்படும் கொடுக்கல்வாங்கலைத் தெரிவிசெய்க.

- (1) நிலையான கட்டளையின் மீது வங்கியால் செலுத்தப்பட்ட மின்சாரக் கட்டணங்கள் ரூ. 2 300 ஆகும்.
- (2) வங்கியால் அறவிடப்பட்ட காசோலைப் பத்தகக் கட்டணம் ரூ. 1 500 ஆகும்.
- (3) கடன்பட்டோர் ஒருவரால் வங்கியில் நேரடியாக வைப்புச் செய்யப்பட்ட தொகை ரூ. 5 000 ஆகும்.
- (4) வங்கியால் அறவிடப்பட்ட சேவைக் கட்டணம் ரூ. 2 000 ஆகும்.

30. இலாபநோக்கற்ற நிறுவனங்களினது குறித்தவொரு காலப்பகுதியில் மேற்கொண்ட பொருளாதார நடவடிக்கைகளின் பெறுபேற்றைக் கணிப்பதற்காக தயாரிப்பது

- (1) வருமானச் செலவுக் கணக்கு
- (2) பெறுவனவு கொடுப்பனவுக் கணக்கு
- (3) நிதி நிலைமைக் கற்று
- (4) விவரப்படி இலாபநட்டக் கணக்கு

31. விளையாட்டுக் கழகம் ஒன்றின் பெறுவனவு கொடுப்பனவுக் கணக்கில் பதியப்படுவதும் அனால் வருமானச் செலவுக் கணக்கில் உள்ளடக்கப்படாததுமான கொடுக்கல்வாங்கல் எது?

- (1) விளையாட்டு உபகரணங்களை ரூ. 2 500 இற்கு கொள்வனவு செய்தல்
- (2) அங்கத்துவக் கட்டணமாக ரூ. 5 000 பெற்றுக் கொள்ளுதல்
- (3) புதிதப் பத்திரிகைகளை ரூ. 2 000 இற்கு விற்பனை செய்தல்
- (4) விளையாட்டு உபகரணங்களின் பெறுமானத்தின் ரூ. 1 000 ஆகும்.

● பின்வரும் தகவல்களைப் பயன்படுத்தி 32-தொடக்கம் 34 வரையுள்ள வினாக்களுக்கு விடை தருக.

பின்வருவன மர அலுவலிகளைத் தயாரிக்கும் வணிகம் ஒன்றின் 31.01.2023 இல் முடிவடைந்த மாதத்திற்குரிய செலவுகள் ஆகும்.

	ரூ.
A - மரங்கள் கொள்வனவு	280 000
B - மர வேலை செய்பவர் சம்பளம்	200 000
C - மறை காதுசிகள், யினுக்கிகள் மற்றும் ஆணிகள் போன்றன	15 000
D - மின்சாரக் கட்டணம்	12 000
E - வரவமைப்புச் செலவுகள்	17 000
F - இயந்திர திருத்தச் செலவுகள்	5 000

32. மர அலுவலி தயாரிப்புகளை மூலக்கிரமத்தைக் கணிப்பிடுவதற்குப் பொருத்தமான உருப்படிகளை மட்டும் உள்ளடக்கியுள்ள விடையைத் தெரிவிசெய்க.

- (1) A மற்றும் B ஆகும்.
- (2) A, B மற்றும் C ஆகும்.
- (3) A, B மற்றும் E ஆகும்.
- (4) A, B, C மற்றும் E ஆகும்.

33. 31.01.2023 இல் முடிவடைந்த மாதத்திற்கு, மர அலுவலி தயாரிப்பிற்கு பொருத்தமான மேந்தலைக் கிரியங்கள்

- (1) ரூ. 17 000
- (2) ரூ. 32 000
- (3) ரூ. 44 000
- (4) ரூ. 49 000

34. மர அலுவலி தயாரிப்பின் தொப்புடைய பொருத்தமான மறைமுக மூலப் பொருட்கள் செலவு ஒன்று

- (1) A ஆகும்.
- (2) B ஆகும்.
- (3) C ஆகும்.
- (4) D ஆகும்.

- பின்வரும் தகவல்களைப் பயன்படுத்தி 35 தொடக்கம் 40 வரையுள்ள வினாக்களுக்கு விடை தருக. 01.01.2022 இல் ஆரம்பிக்கப்பட்ட ஆதியா வணிகத்தின் 31.12.2022 இல் இருந்தவாறு தயாரிக்கப்பட்ட பரீட்சை நிதியில் இருந்து பிரித்தெடுக்கப்பட்ட சில தகவல்கள் வருமாறு.

	ரூ.
மூலதனம்.....	200 000
காசு மதி.....	28 000
விற்பனைகள்.....	300 000
கடன்பட்டோர்.....	35 000
கடன் கொடுத்தோர்.....	45 000
கொள்வனவுகள்.....	190 000
தளபாடங்களும் உபகரணங்களும்.....	120 000
வங்கிக்கடன் 10%.....	100 000

மேலதிக தகவல்கள்.

1. கட்டட வாடகை மாதாந்தம் ரூ. 2,500 ஆகக் காணப்பட்டதுடன் நடமுறையினால் கட்டட வாடகையாக ரூ. 24,000 காசாகச் செலுத்தப்பட்டுள்ளது.
 2. தளபாடங்களும் உபகரணங்களும் சேர்த்து முறையில் வருடாந்தம் 5% பெறுமானத்தேயவு செய்யப்படல் வேண்டும்.
 3. 31.12.2022 இல் இருந்தவாறு கடன்பட்டோரில் இருந்து ரூ. 5,000 அறவி முடியாகக் கட்டடப் பதிவரிக்கப்படல் வேண்டும்.
 4. வங்கிக் கடனானது 01.07.2022 இல் பெற்றுக்கொள்ளப்பட்டதாகும். 31.12.2022 வரை வங்கிக் கடனாகக் காட்டி செலுத்தப்படவில்லை.
 5. 31.12.2022 இல் இருந்தவாறு சர்க்கிருப்புகள் ரூ. 44,000 ஆகும்.
35. ஆதியா வணிகத்தின் மொத்த இலாபத்தை சரியாகக் கணிப்பிடுவதை எடுத்தாக் காட்டும் விடையைத் தெரிவிசெய்க.
- (1) ரூ. 300,000 - ரூ. 190,000 (2) ரூ. 190,000 - ரூ. 44,000
 (3) ரூ. 300,000 - (ரூ. 190,000 + ரூ. 44,000) (4) ரூ. 300,000 - (ரூ. 190,000 - ரூ. 44,000)
36. 31.12.2022 இல் முடிவடைந்த ஆண்டிற்கான ஆதியா வணிகத்தின் கட்டட வாடகையின் தொகை எவ்வளவு?
- (1) ரூ. 2,500 (2) ரூ. 6,000 (3) ரூ. 24,000 (4) ரூ. 30,600
37. 31.12.2022 இல் இருந்தவாறு ஆதியா வணிகத்தின் நிதி நிலைமைக் கூற்றில் காணப்படும் ஒரு நடைமுறைப் பொறுப்பு
- (1) செலுத்தப்பட வேண்டிய கட்டட வாடகை ரூ. 6,000
 (2) செலுத்தப்பட வேண்டிய வங்கிக்கடன் வாடகை ரூ. 10,000
 (3) செலுத்திய கட்டட வாடகை ரூ. 24,000
 (4) வங்கிக் கடன் ரூ. 100,000
38. ஆதியா வணிகத்தின் 31.12.2022 இல் முடிவடைந்த ஆண்டுக்கான வருமானக் கூற்றை தயாரிக்கையில் நிறுவகச் செலவுகளில் மட்டும் உள்ளடங்கியுள்ளதாக எடுத்தாக் காட்டப்படும் விடையைத் தெரிவிசெய்க.
- (1) தளபாட பெறுமானத்தேயவு, கடன் வாடகை
 (2) அறவி முடியாகக் கடன், கட்டட வாடகை
 (3) கட்டட வாடகை, தளபாட பெறுமானத்தேயவு
 (4) அறவி முடியாகக் கடன், கடன் வாடகை
39. 31.12.2022 இல் முடிவடைந்த ஆண்டுக்கான ஆதியா வணிகத்தின் இலாப நடவடிக் கூற்றில் உள்ளடக்கப்பட வேண்டிய வங்கிக் கடன் வாடகை
- (1) ரூ. 5,000 (2) ரூ. 10,000 (3) ரூ. 100,000 (4) ரூ. 105,000
40. 31.12.2022 இல் இருந்தவாறு ஆதியா வணிகத்தின் நிதி நிலைமைக் கூற்றில் உள்ளடக்கப்படும் கட்டடபேர் தொகை
- (1) ரூ. 5,000 (2) ரூ. 30,000 (3) ரூ. 35,000 (4) ரூ. 40,000

இலங்கைப் பரீட்சைத் திணைக்களம்

ரகசயம்
அந்தரங்கமானது

ஈ.பொ.ஈ. (ஈ.பெ.பெ) විභාගය - 2022 (2023)

க.பொ.த. (சாதாரண தர)ப் பரீட்சை - 2022 (2023)

විෂය අංකය
பாட இலக்கம்

60

විෂයය
பாடம்

வணிகமும் கணக்கீட்டுக் கல்வியும்

I පත්‍රය - පිළිතුරු
I பத்திரம் - விடைகள்

ප්‍රශ්න අංකය வினா இல.	පිළිතුරෙහි අංකය விடை இல.	ප්‍රශ්න අංකය வினா இல.	පිළිතුරෙහි අංකය விடை இல.	ප්‍රශ්න අංකය வினா இல.	පිළිතුරෙහි අංකය விடை இல.	ප්‍රශ්න අංකය வினா இல.	පිළිතුරෙහි අංකය விடை இல.
01.	4	11.	2	21.	4	31.	1
02.	2	12.	1	22.	3	32.	3
03.	3	13.	1	23.	3	33.	2
04.	4	14.	4	24.	2	34.	3
05.	2	15.	1	25.	2	35.	4
06.	4	16.	1	26.	2	36.	4
07.	2	17.	3	27.	3	37.	1
08.	2	18.	2	28.	4	38.	3
09.	2	19.	1	29.	3	39.	1
10.	4	20.	2	30.	1	40.	2

විශේෂ උපදෙස් } එක් පිළිතුරකට ලකුණු
විසேද அறிவுறுத்தல் } ஒரு சரியான விடைக்கு

01

බැගින්
புள்ளி வீதம்

මුළු ලකුණු / மொத்தப் புள்ளிகள் 01 x 40 = 40

පහත නිදසුනෙහි දැක්වෙන පරිදි බහුවරණ උත්තරපත්‍රයේ අවසාන තීරුවේ ලකුණු ඇතුළත් කරන්න.

கீழ் குறிப்பிடப்பட்டிருக்கும் உதாரணத்திற்கு அமைய பஸ்தேர்வு வினாக்களுக்குரிய புள்ளிகளை பஸ்தேர்வு வினாப்பத்திரத்தின் இறுதியில் பதிச.

නිවැරදි පිළිතුරු සංඛ්‍යාව
சரியான விடைகளின் தொகை

25

40

I පත්‍රයේ මුළු ලකුණු
பத்திரம் I இன் மொத்தப்புள்ளி

25

40

வணிகக் கல்வியும் கணக்கீடும் II

1. பின்வரும் சம்பவக் கற்கையைப் பயன்படுத்தி (i) தொகை (x) வரையான வினாக்களுக்கு விடை தருக. பொலநறுவையில் வசிக்கும் ஆதிரன் என்பவர் 01.01.2023 இல் ரூ. 800,000 முதலீட்டுடன் வாடகைக்கு எடுத்த கட்டடமொன்றில் "எமது நெல்" எனும் பெயரின் அரிசி விற்பனை செய்யும் வணிகம் ஒன்றை தொடங்கினார். அதே நாளில், 12% வருடாந்த வட்டியில் ரூ. 500,000 கடனை கிராமிய வங்கியில் பெற்றுக் கொண்டார். மூலம் ரூ. 900,000 இறகு அரிசி ஆலை ஒன்றையும் ரூ. 100,000 இறகு ஏலையை உபயோகிக்கலையும் கொள்வனவு செய்தார்.

வணிக நிரவாதமாணி பட்டப்படிப்பை முடித்து வந்ததன் பின்னர் ஆதிரனின் மகவான கோசலன் வணிகத்தின் செயற்பாடுகளில் தன்னை ஈடுபடுத்திக் கொண்டார். அவித்த ரூ. நெல்லை வெயிலில் காய வைப்பதற்கும் அரைப்பதற்கும் உபயோகிக்கும் காயான் என்பவர் பணிக் கு அமர்த்தப்பட்டார்.

31.01.2023 இல் முடிவடைந்த மாதத்திற்காக நிகழ்ந்த கொடுக்கல்வாங்கல்கள் வருமாறு:

	ரூ.
காசுக்குக் கொள்வனவு செய்த நெல்	150,000
காசுக்கு விற்பனை செய்த அரிசி	431,500
மின்சாரக் கட்டணம் செலுத்தியது	15,000
வாழியர் சம்பளம் செலுத்தியது	60,000
விற்பனை செலுத்தியது	40,000
முதலையாளர் சம்பளம் செலுத்தியது	50,000
உரி விற்பனை	50,000

மேலதிக தகவல்கள்:

- * அரிசி ஆலைக்கு நேரகோட்டு முறையில் வருடாந்தம் 12% பெறுமானத்தையே செய்யப்படல வேண்டும்.
- * 31.01.2023 இல் இருந்தவாறு நெல் மற்றும் அரிசி என்பன கையிருப்பாகக் காணப்படவில்லை.
- * 31.01.2023 இல் வங்கிக் கடன் மீதான வட்டி செலுத்தப்படவில்லை.
- * 31.01.2023 வரை மாதாந்த கட்டட வாடகை ரூ. 10,000 செலுத்தப்படவில்லை.

கடந்த பருவ காலத்தின் கடுமையான வரட்சியின் விளைவாக நெல் உற்பத்தி குறைவடைந்ததன் காரணமாக அரிசி உற்பத்தியாளரிடையே கடுமையான போட்டி காணப்பட்டது. அரசாங்கமும் நெல் கொள்வனவின் மீது கட்டுப்பாட்டு விலையைச் செயற்படுத்தியது. இதனால் "எமது நெல்" வணிகமானது ஒரு கிலோ அரிசியின் விலையை ஒரு ரூபாவின்மேல் குறைக்கத் தீர்மானித்தது.

(i) (அ) "எமது நெல்" வணிகத்தின் மூலம் முத்தி செய்யப்படும் மனித விருப்பம் யாது?

(ஆ) "எமது நெல்" வணிகத்தின் இரண்டு அங்கவையைய தூய்மை உதாரணங்களுடன் எழுதுக.

(ii) சம்பவக் கற்கையில் இருந்து பிரித்தெடுப்பதன் மூலம் நிலம், உற்பாடு, மூலதனம், முயற்சியரன்மை ஆகிய ஒவ்வொரு உற்பத்திக் காரணிக் கும் உதாரணங்கள் எழுதுக.

(iii) (அ) "எமது நெல்" வணிகத்தின் பலம் மற்றும் அச்சுறுத்தல் ஆகியவற்றை எழுதுக.

(ஆ) சம்பவக் கற்கையில் உள்ளங்களிலுள்ள "எமது நெல்" வணிகத்தின் பொருளாதார சூழல் காரணிக் கான உதாரணத்தை எழுதுக.

(iv) "எமது நெல்" வணிகத்தின் பின்வரும் ஒவ்வொன்றுக்கும் உதாரணம் எழுதுக.

(அ) சந்தைப்படுத்தல் கலவையின் உற்பத்திப்பொருள்

(ஆ) முகாமைத்துவக் கருவியாகத் திட்டமிடல்

(v) வங்கிக் கடனைப் பெற்றுக் கொண்டமைக்குரிய இடடைப் பதிவை தொகைகளுடன் எழுதுக.

(vi) (அ) "எமது நெல்" வணிகத்தினால் பயன்படுத்தப்பட்டுள்ள மூல ஆவணங்கள் இரண்டை எழுதுக.

(ஆ) "எமது நெல்" வணிகத்தின் உற்பத்திக் கிரயத்தில் உள்ளங்களிலுள்ள நேரக்கிரயம் மற்றும் மறைமுகக் கிரயம் ஆகியவற்றை தொகைகளுடன் எழுதுக.

(vii) 31.01.2023 இல் இருந்தவாறு "எமது நெல்" வணிகத்தின் கையிலுள்ள காசைக் கணிப்பிடுக.

(viii) 31.01.2023 இல் முடிவடைந்த மாதத்திற்கான "எமது நெல்" வணிகத்தின் தேரிய இலையும் அல்லது நடத்ததைக் கணிப்பிடுக.

(ix) 31.01.2023 இல் இருந்தவாறு "எமது நெல்" வணிகத்தின் இரண்டு நடைமுறைப் பொறுப்புகளை தொகைகளுடன் எழுதுக.

(x) 31.01.2023 இல் இருந்தவாறு "எமது நெல்" வணிகத்தின் மொத்தக் சொத்துக்கள் மற்றும் உரிமைபாண்மையைக் கணிப்பிடுக. (02 x 10 = 20 புள்ளிகள்)

1. i. (அ) அரிசி

(1 × 1 = 01 புள்ளி)

- (ஆ) ● உரிமையாளர் - ஆதிரன்
 ● நிதி நிறுவனம் - கிராமிய வங்கி
 ● முகாமையாளர் - கோசலன் / ஆதிரனின் மகன்
 ● உழழியர் - சுபயான்
 ● வழங்குனர் - நெல் விநியோகத்தர்
 ● வாடிக்கையாளர் - அரிசி கொள்வனவாளர், உமி கொள்வாளர்
 ● அரசு - அரசு
 ● போட்டியாளர் - நெல் உற்பத்தியாளர்

(1/2 × 2 = 01 புள்ளிகள்)

- ii. ● நிலம் - சூரிய ஒளி / காற்று / வெயில்
 ● உழைப்பு - சுபயான் / கோசலன் / ஆதிரனின் மகன்
 ● மூலதனம் - காசு / அரிசி ஆலை / ஏனைய உபகரணம் / நெல் / அரிசி / உமி
 ● முயற்சியாண்மை - ஆதிரனின் முயற்சியாண்மை திறன்

(1/2 × 4 = 02 புள்ளிகள்)

iii. (அ)பலம்

- ஆதிரனின் நிதிப்பலம்
 ● வணிக நிரவாகமாணி பட்டம்பெற்ற முகாமையாளர் / கோசலன்

(1/2 × 1 = 1/2 புள்ளிகள்)

● சீக்கறுத்தல்

- வரட்சியான காலநிலை
 ● அரிசி உற்பத்தியாளர்களிடையே கடுமையான போட்டி காணப்பட்டமை.
 ● நெல் கொள்வனவின் மீது அரசு கட்டுப்பாட்டு விலையை செயற்படுத்தியமை

(1/2 × 1 = 1/2 புள்ளிகள்)

(ஆ) ● வங்கிக்கடன் வட்டி 12%

- கட்டுப்பாட்டு விலையைச் செயற்படுத்தியமை
 ● ஒரு கிலோ அரிசியின் விலையை ஒரு ரூபாவால் குறைக்கத் தீர்மானித்தமை

(1 × 1 = 01 புள்ளி)

iv. (அ) ● நெல்

- அரிசி
 ● உமி

(1 × 1 = 01 புள்ளி)

(ஆ) ஒரு கிலோ அரிசியின் விலையை ஒரு ரூபாவால் குறைக்கத் தீர்மானித்தல்

(1 × 1 = 01 புள்ளி)

V. காசுக் கணக்கு வரவு	ரூபா	500 000
வங்கிக் கடன் கணக்கு செலவு	ரூபா	500 000
(கிராமிய வங்கிக் கணக்கு)		

(02 புள்ளிகள்)

vi. (அ) • பற்றுச்சீட்டு

- கொடுப்பனவுக் கைச்சாத்து
- பொது நாட்குறிப்பு கைச்சாத்து

(1/2 x 2 = 01 புள்ளி)

(ஆ) நேர்கிரயம்

- | | |
|----------------------------|---------|
| | ரூபா |
| • நெல் கொள்வனவு | 150 000 |
| • ஊழியர் சம்பளம் (சுபாயன்) | 60 000 |

(1/2 x 1 = 1/2 புள்ளிகள்)

மறைமுகக் கிரயம் / நேரில் கிரயம்

- | | |
|----------------------------|--------|
| | ரூபா |
| • மின்சாரம் | 15 000 |
| • அரிசி ஆலை பெறுமான தேய்வு | 9 000 |
| • முகாமையாளர் சம்பளம் | 50 000 |
| • கட்டல் வாடகை | 10 000 |

(1/2 x 1 = 1/2 புள்ளி)

vii. 31.01.2023 இல் காசு மீதி 466500 ரூபா

(02 புள்ளிகள்)

அல்லது

காசுக் கணக்கு

திகதி	ப.சீ.இ	விபரம்	பே.ப	பெறுமதி	திகதி	கை.இ	விபரம்	பே.ப	பெறுமதி
01/01/23		மூலதனம்		800 000	01/01/23		அரிசி ஆலை		900 000
01/01/23		வாங்கிக்கடன்		500 000	01/01/23		ஏனைய உபகரணங்கள்		100 000
		அரிசி விற்பனை		431 500			நெல்கொள்வனவு		150 000
		உமி விற்பனை		50 000			மின்சாரம்		15 000
							சம்பளம்		60 000
							விநியோகலொறி		
							கட்டணம்		40 000
							முகாமையாளர்		
							சம்பளம்		50 000
					31/01/23		மீதி.கீ.கொ.வ		466 500
				1781 500					1781 500
01/02/23		மீதி.கீ.கொ.வ		466 500					

(ஏதாவது 03 விடயங்களுக்கு 1/2 புள்ளி வீதம் 1 1/2 புள்ளிகள்)

viii. 31-21-2023 இல் தேறியலாபம் 142 500

(02 புள்ளிகள்)

அல்லது

எமது நெல் வணிகத்தின்

31.01.2023 இல் முடிவடைந்த மாதத்திற்கான வருமானக்கூற்று

	ரூபா	ரூபா
வருமானம்		
அரிசி விற்பனை	431 500	} 1/2 481500
உமி விற்பனை	50 000	
செலவுகள்		
நெல்கொள்வனவு	150 000	} 1/2
மின்சாரம்	15 000	
உழழியர் சம்பளம்	60 000	
விநியோக லொறி கட்டணம்	40 000	
முகாமையாளர் சம்பளம்	50 000	} 1/2
அரிசி ஆலை தேய்வு	9 000	
வங்கி கடன் வட்டி	5 000	
கட்டட வாடகை	10 000	
தேறிய இலாபம்		142 500

(சரியான வருமானங்கள் 02 விடயங்களுக்கு 1/2 புள்ளியும் சரியான 04 செலவு விடயங்களுக்கு 1/2 புள்ளி வீதம் மொத்தம் 1 1/2 புள்ளிகள்)

ix. 31.01.2023 இல் நடைமுறைப் பொறுப்பு

- அட்டுறு வங்கிக் கடன் வட்டி 5000 ரூபா
- கட்டட வாடகை நிலுவை 10000 ரூபா

(1 × 2 = 2 புள்ளி)

X 31.01.2023 இல் மொத்தச் சொத்துக்கள் 1457500 ரூபா

(01 புள்ளி)

அரிசி ஆலை	900000 - 9000	891 000 ^(1/2)
ஏனைய உபகரணங்கள்		100 000
காசு		^(1/2) 466 500
மொத்தச் சொத்துக்கள்		1457 500

31.03.2023 இல் உரிமையாண்மை 942500 ரூபா

(1 புள்ளி)

அல்லது

மூலதனம்	800 000	} ⁽¹⁾
தேறிய இலாபம்	* 142 500	
உரிமையாண்மை	942500	
அல்லது		
உரிமையாண்மை = மொத்தச் சொத்து - மொத்தப் பொறுப்பு		
^(1/2) = 1457500 - 515000 ^(1/2)		
= 942 500 ரூபா		
அல்லது		
உரிமையாண்மை		
= மூலதனம் + (வருமானம் - செலவு)		
= 800000 + (481500 - 339000)		
= 942 500 ரூபா		⁽¹⁾

	(i)		(ii)	(iii)	(iv)		(v)	(vi)		(vii)	(viii)	(ix)	(x)	20
	(அ)	(ஆ)		(அ)	(ஆ)	(அ)	(ஆ)		(அ)	(ஆ)				20
Q1	01	01	02	01	01	01	01	02	01	01	02	02	02	02

பகுதி I - வணிகக் கல்வி

(இரண்டு வினாக்களுக்கு மாத்திரம் விடை எழுதுக.)

2. (i) தனியுடைமை ஒன்றின் வணிகப் பெயரைப் பதிவு செய்வதன் மூலம் கிடைக்கும் நன்மைகள் இரண்டு எழுதுக. (02 புள்ளிகள்)
- (ii) பின்வரும் சூற்றாக்கள் உண்மையா, பொய்யா என்பதைக் குறிப்பிடுக.
- (அ) வணிகமானது எப்பொழுதும் மக்களின் தேவை மற்றும் விருப்பத்தைப் பூர்த்தி செய்கிறது.
- (ஆ) வணிகமானது எப்பொழுதும் இலாபம் உழைப்பதை நோக்கமாகக் கொண்டு ஸ்தாபிக்கப்படுகின்றது.
- (இ) வணிகமொன்றின் அக்கறையுடைய தரப்பினர் எப்பொழுதும் வணிகத்தின் அகச்சூழலாக காணப்படுவர்.
- (ஈ) வரையறுத்த பொதுக் கம்பனி ஒன்றில், அதன் முதலீட்டாளருடைய நடப்பி பொறுப்பானது அவர்களது முதலீட்டின் தொகைக்கு வரையறுக்கப்பட்டதாக இருக்கும். (02 புள்ளிகள்)
- (iii) வரையறுத்த லக் தேயிலை (தனியார்) கம்பனியானது, தேசிய நீர் வழங்கல் வங்காலமைப்புச் சபை மற்றும் கிராம அபிவிருத்தித் திணைக்களம் ஆகியவற்றின் ஒப்புதலுடன் ஊராட்சிமன்றத்தில் உள்ள மக்களுக்காக 50 சூறாய்க் கிணறுகளை நிறுவணிக்கும் செயற்றிட்டம் ஒன்றை ஆரம்பித்தது.
- (அ) இச் செயற்றிட்டத்தின் மூலம் பூர்த்தி செய்யப்படும் மனிதத் தேவை மற்றும் விருப்பத்தை எழுதுக.
- (ஆ) இச்சம்பவக் கற்கையில் காணப்படும் இரண்டு வணிக நிறுவனங்களை குறிப்பிடுவதுடன் அவற்றை உடையபயின் பிரகாரம் வகைப்படுத்தும். (02 புள்ளிகள்)
- (iv) இரண்டு வணிகங்களால் எடுக்கப்பட்ட இரண்டு நடவடிக்கைகள் கீழே தரப்படுகின்றது.
- A - இலங்கை மத்திய வங்கியின் பரிந்துரையின் பிரகாரம் பாஸ்ட் காஷ் (Fast Cash) நிதிக் கம்பனியானது வைப்புகள் மீதான வருடாந்த வட்டி வீதத்தை 15% இல் இருந்து 20% ஆக அதிகரித்தது.
- B - "நினைந்த சவை" என்ற மரமுந்திரிகைப் பருப்பு உற்பத்தியாளர்கள் தமது நிகழ்நிலை வாடிக்கையாளர்களுக்காக "முடிவு மென்பொருள் (Endsoftware)" (தனியார்) கம்பனியிடமிருந்து புதிய கணினிச் செயலி (app) ஒன்றை பெற்றுக் கொண்டனர்.
- (அ) மேலே A மற்றும் B நடவடிக்கைகளுடன் தொடர்புடைய சூழல் காரணிகளை எழுதுக.
- (ஆ) A மற்றும் B யில் உள்ளடங்கியுள்ள பின்வருவனவற்றைக் குறிப்பிடுக.
1. சேவை வறங்கும் வணிகம்
 2. பொருள் உற்பத்தி வணிகம்
- (02 புள்ளிகள்)
(மொத்தம் 10 புள்ளிகள்)

2. i. ● வணிகத்துக்கான அடையாளமொன்று கிடைத்தல்
- வணிகத்தின் பெயரின் உரிமையினை உறுதிப்படுத்தக் கூடியதாக இருத்தல்
- அரசினால் வழங்கப்படும் உணக்குவிப்புக்களை பெற்றுக்கொள்வதற்கான தகவலை கிடைத்தல்
- கடனை இலகுவாகப் பெற்றுக்கொள்ள முடிதல்

(01 × 2 = 02 புள்ளிகள்)

- ii. அ. உண்மை
- ஆ. பொய்
- இ. பொய்
- ஈ. உண்மை

(1/2 × 4 = 02 புள்ளிகள்)

iii. அ.

நிகழ்வு	மனித தேவை	வீர்ப்பம்
1	உணவு	குழாய் கிணறு / நீர்

(ஒரு மனித தேவைக்கு 1/2 புள்ளி ஒரு வீர்ப்பத்திற்கும் 1/2 புள்ளி மொத்தம் 1 புள்ளி) (01 புள்ளி)

- ஆ. வரையறுத்த லக் தேயிலை (தனியார்) கம்பனி - தனியார் துறை
 தேசிய நீர் வழங்கல் வடிகாலமைப்புச் சபை - அரசு (பொதுத்) துறை
 கிராம அபிவிருத்தித் திணைக்களம் - அரசு (பொதுத்) துறை

(ஒரு வணிக நிறுவனத்திற்கும் வகைப்படுத்தலுக்கும் 1/2 புள்ளி வீதம் இரண்டு வணிக நிறுவனத்திற்கும் வகைப்படுத்தலுக்கும் மொத்தம் 1 புள்ளி) (01 புள்ளி)

iv. அ. A - பொருளாதார சூழல்

B. - தொழில்நுட்ப சூழல் / புகோளமயச் சூழல்

(1/2 × 2 = 1 புள்ளி)

- ஆ. 1. - இலங்கை மத்திய வங்கி / பாஸ்ட் காஷ் (Fast Cash) நிதிக் கம்பனி /
 முடிவு மென் பொருள் (End software) தனியார் கம்பனி

(1/2 × 1 = 1/2 புள்ளி)

2. நிறைந்த சுவை என்ற மரமுந்திரிகைப் பருப்பு உற்பத்தியாளர்கள்

(1/2 × 1 = 1/2 புள்ளி)


Q2	(i)	(ii)	(iii)	(iv)	8 8
	02	அ ஆ இ ஈ 1/2 1/2 1/2 1/2	அ ஆ 01 01	அ ஆ 01 01	

3. (i) இலங்கை வர்த்தக அமைச்சு மூலக்கூறுகளைக் குறிப்பிடுக. (02 புள்ளிகள்)

(ii) பின்வரும் கூற்றுகள் உண்மையா, பொய்யா என்பதைக் குறிப்பிடுக.

- (அ) இறுதி நுகர்விற்காக பொருள் அல்லது சேவையை விற்பனை செய்தல் சில்லறை வணிகம் எனப்படும்.
- (ஆ) தொடர்பில் செயல்முறையில், சேமிக்கப்பட்ட பொருள்கள் அச்சேமிப்பு தொடர்பாக செயற்படும் முறை பின்னூட்டல் எனப்படும்.
- (இ) கடன் அட்டை ஒன்றைப் பெற்றுக் கொள்வதற்கு நபர் ஒருவர் வங்கிக் கணக்கை வைத்திருக்க வேண்டும்.
- (ஈ) உயிருக்கு அல்லது ஆதனத்திற்கு காய்ப்புறுதியைப் பெற்றுக்கொள்வதற்கு நபருக்குச் சட்ட ரீதியாக காணப்படும் உரிமை காப்பறுதி செய்து நலன் என் அரைக்கப்படும். (02 புள்ளிகள்)

(iii) A தொடக்கம் E வரையான எழுத்துக்களைக் காசோலை வாடிக்கையின் கீழே தரப்பட்டுள்ளது.



மேலே தரப்பட்ட காசோலையைப் பயன்படுத்தி பின்வரும் அட்டைகளில் உள்ள இடங்களில் காசோலை மூலக்கூறுகளுக்குப் பொருத்தமான சரியான எழுத்துக்களை எழுதுக. (முதலாவது மூலக்கூறுக்குப் பொருத்தமான எழுத்து காட்டப்பட்டுள்ளது.)

காசோலை மூலக்கூறு	எழுத்து
1. காசோலை எழுதப்பட்ட திகதி	C
2. வரைபவரது கையொப்பம்	
3. வரைவுணி (Drawee)	
4. பணம் பெறப்பவர் பெயர்	
5. இலக்கத்தில் தொகை	

(02 புள்ளிகள்)

(iv) யமுனா என்பவர் "வணிக இலக்கு" தொடர்பான செயல்திட்டத்தில் இருந்து திரும்பும்போது தனது மேட்டர் காப்பறுதிக் கொடுப்பனவை இலங்கைக் காப்பறுதிக் காட்டுத்தாபனத்திற்கு செலுத்தியிருந்தார். மேலும் தனது கைத்தொலைப்பீட்டின் மூலம் நெட் கெம் (Netcom) கணினி கம்பனிக்கு தனது வணிகத்தின் வலைத்தளப் பக்கத்தின் விவரம் பற்றித் தொடர்பில் அழைப்பை எடுத்து விசாரணை செய்தார்.

- (அ) மேலே தரப்பட்ட சம்பவக் கற்கையில் காப்பறுதி தொடர்பில் உள்ள க்கப்பட்டுள்ள முதலமைச்சர் தரப்பினர், இரண்டாம் தரப்பினர் ஆகியோரை சரியான ஒழுங்கு வரிசையில் குறிப்பிடுக.
- (ஆ) மேலே தரப்பட்ட சம்பவக் கற்கையில் உள்ள இடங்களில் தொடர்பில் முறையையும் அதற்குப் பொருத்தமான தொடர்பில் ஊடகத்தையும் சரியான ஒழுங்கு முறையில் எழுதுக.

(02 புள்ளிகள்)

(மொத்தம் 08 புள்ளிகள்)

3. (i) ● வழி / மார்க்கம்
- ஊடகம்
 - சக்தி / வலு
 - தரிப்பிடம்

(1/2 x 4 = 2 புள்ளிகள்)

- ii. அ. உண்மை
ஆ. பொய்
இ. பொய்
ஈ. உண்மை

(1/2 × 4 = 2 புள்ளிகள்)

iii.

காசோலை மூலக்கூறு	எழுத்து
2. வரைபவரது கையொப்பம்	F
3. வரையுணி (Drawee)	A
4. பணம் பெறுபவர் பெயர்	B
5. இலக்கத்தில் தொகை	E

(1/2 × 4 = 2 புள்ளிகள்)

iv. அ. முதலாம் கட்சியினர் -யமுனா

இரண்டாம் கட்சியினர் - இலங்கை காப்புறுதி கூட்டுத்தாபனம்

(1/2 × 2 = 1 புள்ளி)

ஆ. தொடர்பாடல் முறை

வாய்மொழி மூலம்

இலத்திரனியல் வாய்மொழி மூலம்

தொடர்பாடல் உடைகம்

செயலமர்வு

கையடக்கத் தொலைப்பேசி

(1/2 × 2 = 1 புள்ளி)

மொத்தம் 08 புள்ளிகள்

	(i)	(ii)	(iii)	(iv)													
Q3	02	<table border="1"> <tr> <td>அ</td> <td>ஆ</td> <td>இ</td> <td>ஈ</td> </tr> <tr> <td>1/2</td> <td>1/2</td> <td>1/2</td> <td>1/2</td> </tr> </table>	அ	ஆ	இ	ஈ	1/2	1/2	1/2	1/2	02	<table border="1"> <tr> <td>அ</td> <td>ஆ</td> </tr> <tr> <td>01</td> <td>01</td> </tr> </table>	அ	ஆ	01	01	$\frac{8}{8}$
அ	ஆ	இ	ஈ														
1/2	1/2	1/2	1/2														
அ	ஆ																
01	01																

4. (i) முகாமைத்துவக் கருமங்களைக் குறிப்பிடுக. (02 புள்ளிகள்)
- (ii) பின்வரும் கூற்றுகள் உண்மையா, பொய்யா என்பதனைக் குறிப்பிடுக.
- (அ) ஆதனங்களில் முதலீடு செய்வதன் மூலம் மூலதன ஆதாயங்களை மட்டுமே பெற்றுக்கொள்ள முடியும்.
- (ஆ) முதலீட்டில் இடருக்கும் திருமயவக்கும் இடையே எதிர்பாரைத் தொடர்பு காணப்படுகின்றது.
- (இ) சந்தைப்படுத்தற் கல்வையில், விலை என்ற மாறி மட்டுமே வணிகத்திற்கான வருமானத்தை உருவாக்குகின்றது.
- (ஈ) வரையரையான வளங்களில் இருந்து உச்சமாக நலன்களைப் பெற்றுக்கொள்வதற்கு வணிகத்திற்கு முகாமைத்துவம் தேவைப்படுகிறது. (02 புள்ளிகள்)
- (iii) ஆபரண உற்பத்தி வணிகமொன்று நிகழ்நிலை ஊடாக புதிய வடிவமைப்புகளைப் பெற்றுக்கொள்ளத் தீர்மானித்ததுடன் விநியோககளை மூன்றையும் நோக்கத்துடன் விளம்பரப்படுத்தல் செலவுகளையும் அதிகரித்தது.
- (அ) மேலே தரப்பட்ட சம்பவக் கற்கையில் உள்ளவகியள்ள சந்தைப்படுத்தற் கல்வை மாறிகள் இரண்டை எழுதுக.
- (ஆ) சம்பவக் கற்கையில் இருந்து பிரித்தெடுப்பதன் மூலம் நி் மேலே (அ) வில் குறிப்பிட்ட சந்தைப்படுத்தல் கல்வை மாறி ஒவ்வொன்றிற்குமான உதாரணங்களை எழுதுக. (02 புள்ளிகள்)
- (iv) தமது சேமிப்புகளை முதலீடு செய்வதன் மூலம் ரூபன் என்பவர மூலதன ஆதாயங்களையும் பெருமாள் என்பவர் வட்டி வருமானத்தையும் எதிர்பார்க்கின்றனர்.
- (அ) ரூபன் தெரிவு செய்ய வேண்டிய முதலீடு மூலங்கள் இரண்டை எழுதுக.
- (ஆ) பெருமாள் தெரிவு செய்ய வேண்டிய முதலீடு மூலங்கள் இரண்டை எழுதுக. (02 புள்ளிகள்)
- (மொத்தம் 08 புள்ளிகள்)

4. i. a திட்டமிடல்
b ஒழுங்கமைத்தல்
c நெறிப்படுத்தல்
d கட்டுப்படுத்தல்

(1/2 × 4 = 2 புள்ளிகள்)

- ii. A. பொய்
B. பொய்
C. உண்மை
D. உண்மை

(1/2 × 4 = 2 புள்ளிகள்)

- iii. A. மாறிகள்
b. உற்பத்திப்பொருள்
c. மேம்படுத்தல்
d. இடம்

(1/2 × 2 = 1 புள்ளி)

- ஆ. உற்பத்திப்பொருள் - புதிய வடிவமைப்பு, ஆபரணம்
மேம்படுத்தல் - விளம்பர செலவை அதிகரித்தல்
இடம் - நிகழ்நிலை (Online)

(1/2 × 2 = 1 புள்ளி)

iv. அ.

- பங்குகளில் முதலீடு செய்தல்
- ஆதனங்களை கொள்வனவு செய்தல்
(காணி கொள்வனவு, தங்க ஆபரணங்களை கொள்வனவு, கட்டடம் கொள்வனவு, மோட்டார் வாகனம் கொள்வனவு)

(1/2 x 2 = 1 புள்ளி)

ஆ.

- நிலையான வைப்பில் முதலீடு செய்தல்
- சேமிப்பு வைப்பில் முதலீடு செய்தல்
- திறைசேரி உண்டியலில் முதலீடு செய்தல்

(1/2 x 2 = 1 புள்ளி)

Q4	(i)	(ii)	(iii)	(iv)	8 — 8														
	02	<table border="1"> <tr> <td>அ</td> <td>ஆ</td> <td>இ</td> <td>ஈ</td> </tr> <tr> <td>1/2</td> <td>1/2</td> <td>1/2</td> <td>1/2</td> </tr> </table>	அ	ஆ		இ	ஈ	1/2	1/2	1/2	1/2	<table border="1"> <tr> <td>அ</td> <td>ஆ</td> </tr> <tr> <td>01</td> <td>01</td> </tr> </table>	அ	ஆ	01	01	<table border="1"> <tr> <td>அ</td> <td>ஆ</td> </tr> <tr> <td>01</td> <td>01</td> </tr> </table>	அ	ஆ
அ	ஆ	இ	ஈ																
1/2	1/2	1/2	1/2																
அ	ஆ																		
01	01																		
அ	ஆ																		
01	01																		

பகுதி II - கணக்கீடு

(இரண்டு வினாக்களுக்கு மாத்திரம் விடை எழுதுக.)

5. (i) பொறுப்பு ஒன்றின் குணம்சங்கள் இரண்டு எழுதுக. (02 புள்ளிகள்)

(ii) பின்னரும் சொத்துக்கள் நடைமுறைச் சொத்துக்களாக அல்லது நடைமுறையில்லாத சொத்துக்களாக எனக் குறிப்பிடுக.

- (அ) விற்பனைக்காக கொள்வனவு செய்யப்பட்ட சரக்கிருப்புகள்
- (ஆ) அலுவலகத் தளபாடங்கள்
- (இ) பொறிகளும் உபகரணங்களும்
- (ஈ) பெறுவேண்டிய வடல்கை

(02 புள்ளிகள்)

(iii) 01.01.2023 இல் இருந்தவாறு நடேசன் வணிகத்தின் மொத்தச் சொத்துக்கள் ரூ. 200,000 ஆகவும் மொத்தப் பொறுப்புகள் ரூ. 50,000 ஆகவும் இருந்தது. 01.01.2023 இல் இவ் வணிகத்தில் நிகழ்ந்த சில கொடுக்கல்வாங்கல்கள் வருமாறு:

- (அ) கடனுக்குக் கொள்வனவு செய்த சரக்குகள் ரூ. 10,000 ஆகும்.
- (ஆ) கடன் கொடுத்தோருக்கு செலுத்தியது ரூ. 5,000 ஆகும்.
- (இ) கடன் பட்டேரிடமிருந்து பெற்றது ரூ. 15,000 ஆகும்.
- (ஈ) காசிதாதி செலவுகள் செலுத்தியது ரூ. 5,000 ஆகும்.
- (உ) ரூ. 10,000 கிரயமான பொருட்கள் ரூ. 15,000 இற்கு கடனுக்கு விற்பனை செய்யப்பட்டது. வேண்டப்படுவது:

(அ) 01.01.2023 இல் இருந்தவாறு மேலே தரப்பட்ட கொடுக்கல்வாங்கல்கள் எவ்வாறு நடேசன் வணிகத்தின் கணக்கீட்டுச் சமன்பாட்டில் தாக்கத்தை ஏற்படுத்தும் என்பதைக் குறிப்பிடுக. (விடையளிப்பதற்கு கீழே தரப்பட்ட மாத்திரியைப் பயன்படுத்துக. உடக்காக முதலாவது கொடுக்கல்வாங்கல்களின் தாக்கம் தரப்பட்டுள்ளது.)

கொடுக்கல் வாங்கல்	சொத்துக்கள் (ரூ.)	=	உரிமைகள் (ரூ.)	+	பொறுப்புகள் (ரூ.)
(அ)	+ 10,000 (சரக்கிருப்பு)		-		+ 10,000 (கடன் கொடுத்தோர்)
(ஆ)					
(இ)					
(ஈ)					
(உ)					

(ஆ) மேலே தரப்பட்ட கொடுக்கல்வாங்கல்களின் பின்னர் 01.01.2023 இல் இருந்தவாறு நடேசன் வணிகத்தின் தொகையுடன் கூடிய கணக்கீட்டுச் சமன்பாடு (04 புள்ளிகள்)

(iv) பின்வருவன சமீபமாக வணிகத்தின் கடன் கொள்வனவுகள் ஆகும்.

திகதி	பட்டியல் இல.	விநியோகத்தர்	தொகை (ரூ.)
03.01.2023	65	புவிதன	25,000
10.01.2023	123	அகிலன்	48,000
25.01.2023	135	சமீர்	12,000

வேண்டப்படுவது:

- (அ) சமீபமாக வணிகத்தின் கொள்வனவு நாளேட்டில் மேலே தரப்பட்ட கொடுக்கல்வாங்கல்களைப் பதிவு செய்தல்.
- (ஆ) 31.01.2023 இல் இருந்தவாறு பொருத்தமான பேரேட்டுக் கணக்குகளில் கொள்வனவு நாளேட்டின் கொடுக்கல்வாங்கல்களைப் பதிவு செய்தல்

(04 புள்ளிகள்)

(மொத்தம் 12 புள்ளிகள்)

5. i. ● கடந்த காலக் கொடுக்கல் வாங்கலொன்றின் விளைவாக ஏற்படுதல்
 ● தீர்ப்பனவின் போது வணிகத்தின் வளங்களிலிருந்து ஒரு பகுதி வெளிச் செல்லல்
 ● நிகழ்காலக் கடப்பாடு கொண்டதாக இருத்தல்

(1 × 2 = 2 புள்ளிகள்)

- ii. அ. நடைமுறைச் சொத்து
 ஆ. நடைமுறையல்லாச் சொத்து
 இ. நடைமுறையல்லாச் சொத்து
 ஈ. நடைமுறைச் சொத்து

(1/2 × 4 = 2 புள்ளிகள்)

iii. அ.

கொடுக்கல் வாங்கல்	சொத்துக்கள் (ரூ) =	உரிமைகள் (ரூ) +	பொறுப்புக்கள் (ரூ)	
(ஆ)	-5000 (காசு)		-5000 (கடன் கொடுத்தோர்)	1/2
(இ)	+15000 (காசு) - 15000 (கடன் பட்டோர்)			1/2
(ஈ)	-5000 (காசு)	- 5000 (காகிதாதி செலவுகள்)		1/2
(உ)	- 10000 (சரக்கு) +15000 (கடன் பட்டோர்)	+5000 (இலாபம்)		1

(2 1/2 புள்ளிகள்)

ஆ. சொத்து = உரிமை + பொறுப்பு
 205000 (1/2) = 150000 (1/2) + 55000 (1/2)

(1 1/2 புள்ளிகள்)

iv. அ.

கொள்வனவு நாளேடு

திகதி	பட்டியல் இலக்கம்	விநியோகத்தர்	பெறுமதி ரூபா	பே.ப
03.01.23	65	புனிதன்	25 000 (1/2)	
10.01.23	123	அகிலன்	18 000 (1/2)	
25.01.23	135	சமீம்	12 000 (1/2)	
31.01.23		கொள்வனவு கணக்குக்கு மாற்றியது	55 000 (1/2)	

(02 புள்ளிகள்)

(ஆ)

கொள்வனவு கணக்கு

திகதி	விபரம்	பே.ப	தொகை	திகதி	விபரம்	பே.ப	தொகை
31.01.23	கடன் கொடுத்தோர் க/கு		1/2 55000				

புனிதன் கணக்கு

திகதி	விபரம்	பே.ப	தொகை	திகதி	விபரம்	பே.ப	தொகை
				03.01.23	கொள்வனவு க/கு		25000

அகிலன் கணக்கு

திகதி	விபரம்	பே.ப	தொகை	திகதி	விபரம்	பே.ப	தொகை
				10.01.23	கொள்வனவு க/கு		18000

சமீம் கணக்கு

திகதி	விபரம்	பே.ப	தொகை	திகதி	விபரம்	பே.ப	தொகை
				25.01.23	கொள்வனவு க/கு		12000

(2 புள்ளிகள்)

5	(i)	(ii)				(iii)		(iv)		12 12
		அ	ஆ	இ	ஈ	அ	ஆ	அ	ஆ	
	02	1/2	1/2	1/2	1/2	2 1/2	1 1/2	02	02	

6. (i) பின்வரும் ஒவ்வொரு செலவுகளுக்கும் பொருத்தமான உற்பத்திக்கிரய மூலக்கூறினை வழங்க.
 (அ) ஆடைத் தொழிற்சாலை ஒன்றில் வாடிக்கையாளர்களுக்கான கொடுப்பனவு
 (ஆ) செங்கல் உற்பத்தி வணிகத்தில் கனிமணலை கலவை செய்வதற்கு பயன்படுத்தப்பட்ட தண்ணீர் செலவுக்கான கொடுப்பனவு (02 புள்ளிகள்)
- (ii) நடைமுறைக் கணக்கைப் பேண்பவர்களுக்கு அவர்களது வணிக வங்கிகளால் அனுப்பப்படும் வங்கிக் கற்றில் உள்ள நடவடிக்கை நான்கு விடயங்களை எழுதுக. (02 புள்ளிகள்)
- (iii) சாஜாவான் புத்தக அச்சகத்தின் ஜனவரி 2023 இல் சிறுவர்களுக்கான கதைப் புத்தகங்கள் 1000 பிரதிகளை அச்சடிப்பதற்கு கட்டளை ஒன்றை பெற்றுக் கொண்டனர். கட்டளையின் பிரகாரம் 31.01.2023 இல் உற்பத்தி நிறைவுக்கு வந்ததால் அது தொடர்பாக ஏற்பட்ட செலவுகள் வருமாறு.

	ரூ.
அச்சடித்தல் கட்டடாசிகள்	80 000
உற்பத்தி மேற்பார்வையாளர் சம்பளம்	40 000
அச்சியந்திர இயக்குனர் சம்பளம்	60 000
பசை, நூல், தீந்தை மற்றும் ஈனையை மூலப்பொருட்கள்	5 000
அச்சப் பகுதிகளின் மின்சாரப் பட்டியல்	15 000
அச்சப் பகுதிகளான காவலாளி சம்பளம்	28 000
ஒரு புத்தகத்திற்கான இறைக் கட்டணம்	20
அச்சியந்திர திருத்தச் செலவு	3 000
புதிய அச்சியந்திரக் கொள்வனவு	150 000

31.01.2023 இல் இருந்தவாறு மூலப்பொருட் சூக்கிருப்பு எதுவுமில்லை.

வேண்டப்படுவது:

- (அ) ஜனவரி 2023 மாதத்திற்கான உற்பத்திக் கிரயக் கற்றைத் தயாரித்தல்
 (ஆ) சிறுவர் கதைப் புத்தகம் ஒன்றிற்கான உற்பத்திக் கிரயத்தைக் கணிப்பிடுதல் (04 புள்ளிகள்)

- (iv) 31.03.2023 இல் இருந்தவாறு ஜனனி வணிகத்தின் வங்கிக் கணக்கின் சாதகமான மீதி ரூ. 38 000 ஆகும். அதே நாளில் வங்கிக் சவரம் மீதி ரூ. 21 000 ஆகும். இவ் வித்தியாசத்திற்கான காரணங்கள் பின்வருமாறு:

1. மார்ச் மாதத்தில் வைப்பிலிடப்பட்ட ரூ. 14 000 பெறுமதியான காசோலை வசூலிக்கப்படாமல் இருந்தது.
2. நிலையான கட்டளையாக வங்கிக்கடன் துவணைக் கட்டணம் ரூ. 45 000 வங்கியால் செலுத்தப்பட்டிருந்தது.
3. கடன் கொடுத்தோர் ஒருவருக்கு வழங்கப்பட்ட காசோலை ரூ. 15 000 ஆகும் மார்ச் மாதம் வரை கொடுப்பனவுக்காக வங்கியில் சமர்ப்பிக்கப்படவில்லை.
4. வணிகத்தின் வங்கிக் கணக்கில் கட்டப்படும் ஒருவரால் நேரடியாக வைப்பிலிடப்பட்ட தொகை ரூ. 27 000 ஆகும்.

வேண்டப்படுவது:

- (அ) 31.03.2023 இல் இருந்தவாறு வங்கிக் கணக்கு மீதியைச் சொமையாக்குதல்
 (ஆ) 31.03.2023 இல் இருந்தவாறு வங்கிக் கணக்கு இணக்கக் கற்றைத் தயாரித்தல் (04 புள்ளிகள்)
 (மொத்தம் 12 புள்ளிகள்)

6. (i) (அ) ஏனைய நேர் கிரயம் (01 புள்ளி)
 (ஆ) நேரில் மூலப்பொருள் கிரயம் (01 புள்ளி)

(ii)

- ஆரம்ப மீதி
- வங்கியில் வரவு வைக்கப்பட்ட விடயங்கள்
- வங்கியில் செலவு வைக்கப்பட்ட விடயங்கள்
- இறுதி மீதி
- நேரடி வைப்பு
- காசு வைப்பு
- காசோலை வைப்பு
- காசோலை மூலமான கொடுப்பனவுகள்
- காசோலைப் புத்தக கட்டணம்
- வங்கிக் கட்டணம்
- வங்கி வட்டி
- நிலையியற் கட்டளை கொடுப்பனவுகள்

(1/2 x 4 = 02 புள்ளிகள்)

(iii) (அ)

உற்பத்திக் கிரயக் கூற்று

மூலக்கிரயம்	ரூபா	ரூபா
அச்சடித்தல் கடதாசிகள்	80000	
அச்ச இயந்திர இயக்குனர் சம்பளம்	60000	
இறை கட்டணம் (20 X 1000)	20000	1/2
மேந்தளை கிரயம்		160000 1/2
பசை நூள் தீந்தை மற்றும் ஏனைய மூலப்பொருட்கள்	* 5000	
உற்பத்தி மேற்பார்வையாளர் சம்பளம்	* 40000	
காவலாளி சம்பளம்	* 28000	
மின்சாரம்	* 15000	
அச்சியந்திர திருத்தம்	* 3000	
		91000
மொத்த உற்பத்தி கிரயம் 1/2		251000 1/2

(* ஐந்து விடயங்களுக்கு 01 புள்ளி * 03 / 04 விடயங்களுக்கு 1/2 புள்ளி வீதம் வழங்கப்படும்)

(03 புள்ளிகள்)

(ஆ) சிறுவர் கதைப் புத்தகம் ஒன்றிக்கான உற்பத்திக்கிரயம் ரூபா 251 01 புள்ளி

அல்லது
1/2 251000

1000 1/2

(04 புள்ளிகள்)

(iv) (அ)

வங்கிக் கணக்கு

திகதி	விபரம்	பே.ப	தொகை ரூபா	திகதி	விபரம்	பே.ப	தொகை ரூபா
31.03.23	மீ.கீ.கொ.வ		38000 ^{1/2}		வங்கிக் கடன் துவணைக்கட்டணம்		45000 ^{1/2}
	நேரடி வைப்பு		27000 ^{1/2}	31.03.23	மீ.கீ.கொ.செ		20000 ^{1/2}
			65000				65000
01.04.23	மீ.கீ.கொ.வ		20000				

(02 புள்ளிகள்)

(ஆ)

ஐனனி வணிகத்தின் 31.03.2023 இல் இருந்தவாறு

வங்கி கணக்கு இணக்கக் கூற்று

	ரூபா	ரூபா
திருத்திய வங்கிக் கணக்கு மீதி 31.03.2023 இல்		^{1/2} 20000
(+) சமர்ப்பிக்கப்படாத காசோலை	15000	15000 ^{1/2}
		35000
(-) வசூலிக்கப்படாத காசோலை	14000	(14000) ^{1/2}
31.03.2023 இல் வங்கிக் கூற்றின்படி வங்கி மீதி ^{1/2}		21000

(02 புள்ளிகள்)

Q 6	i		ii	iii		iv		Total
	அ	ஆ	02	அ	ஆ	அ	ஆ	12
	01	01		03	01	02	02	12

7. (i) இலாப நோக்கற்ற நிறுவனங்களால் தயாரிக்கப்படும் பெறுவனவு கொடுப்பனவுக் கணக்கிற்கும் வருமானச் செலவுக் கணக்கிற்கும் இடையே காணப்படும் இரண்டு வித்தியாசங்களை எழுதுக. (02 புள்ளிகள்)

(ii) ஐக்கிய சிறுவர் சங்கத்தின் அங்கத்தவர் மொத்த எண்ணிக்கை 250 ஆகும். அங்கத்தவர் ஒருவருக்கான மாதாந்த அங்கத்துவக் கட்டணம் ரூ. 50 ஆகும். 20 அங்கத்தவர் நீங்கலாக 2022 ஆம் ஆண்டுக்கான வருடாந்த அங்கத்துவக் கட்டணம் செலுத்தப்பட இருந்தது.

வேண்டப்படுவது:

(அ) பெறுவனவு கொடுப்பனவுக் கணக்கில் உள்ள பங்கியுள்ள 2022 ஆம் ஆண்டுக்கான அங்கத்துவக் கட்டணத் தொகை

(ஆ) 31.12.2022 இல் முடிவடைந்த ஆண்டுக்கான வருமானச் செலவு கணக்கில் பதிவு செய்யப்பட்ட அங்கத்துவக் கட்டணத் தொகை (02 புள்ளிகள்)

(iii) 31.12.2022 இல் இருந்தவாறு ஆத்யா மிலிவிறை வணிகத்தில் இருந்து பிரித்தெடுத்த பரீட்சை மீத வருமாறு.

	வரவு (ரூ.)	செலவு (ரூ.)
கொள்வனவுகள்	360 000	
விறுவனங்கள்		538 000
தளபடங்களும் உபகரணங்களும்	180 000	
சாக்கிரத்பு (01.01.2022 இல்)	80 000	
வங்கிக் கடன் 8%		100 000
மின்சாரக் கட்டணங்கள்	12 000	
உள்வந்த வண்டிக் கூலி	13 000	
விநியோகச் செலவுகள்	6 000	
கட்டட வரிகை	20 000	
வங்கிக் கட்டணங்கள்	2 200	
கடன்பட்டோர்	70 000	
கடன் கொடுத்தோர்		50 000
காசு மீதி	45 000	
வங்கி மேலதிகப் பற்று		12 000
செலுத்திய வங்கி மேலதிகப் பற்று வட்டி	500	
விளம்பரப்படுத்தற் செலவுகள்	6 300	
இயந்திரங்கள்	200 000	
மூலதனம்		308 000
	<u>1 000 000</u>	<u>1 000 000</u>

மேலதிக தகவல்கள்:

- 31.12.2022 இல் இருந்தவாறு முடிவுக் கையிருப்பு ரூ. 48 000 ஆகும்.
- இயந்திரங்களுக்கு தேரிகோட்டு முறையில் வருடாந்தம் 10% பெறுவனவு தேய்வு செய்யப்படல் வேண்டும்.
- 31.12.2022 இல் இருந்தவாறு சென்மதி மின்சாரக் கட்டணங்கள் ரூ. 2 000 ஆகும்.

வேண்டப்படுவது:

(அ) 31.12.2022 இல் முடிவடைந்த ஆண்டுக்கான ஆத்யா வணிகத்தின் விபாயர் இலாப நடவடிக்கை கணக்கு (04 புள்ளிகள்)

(ஆ) 31.12.2022 இல் இருந்தவாறான ஆத்யா வணிகத்தின் நிதி நிலைமைக் கூற்று (04 புள்ளிகள்)
(மொத்தம் 12 புள்ளிகள்)

7. (i)

பெறுவனவு கொடுப்பனவுக் கணக்கு	வருமான செலவுக் கணக்கு
<ul style="list-style-type: none"> காசேட்டின் சுருக்கத்தை ஒத்திருக்கும் 	<ul style="list-style-type: none"> இலாப நட்டக் கணக்கை ஒத்திருக்கும்.
<ul style="list-style-type: none"> காசப் பெறுவனவுகள் கொடுப்பனவுகள் பதியப்படும். 	<ul style="list-style-type: none"> வருமானங்கள் மற்றும் செலவுகள் மாத்திரம் பதியப்படும்.
<ul style="list-style-type: none"> மூலதன மற்றும் வருமான இயல்பு கொண்ட பெற்ற வருமானங்கள் மற்றும் கொடுத்த செலவினங்கள் பதிவு செய்யப்படும். 	<ul style="list-style-type: none"> வருமான இயல்பு கொண்ட ஆண்டுக்குரிய வருமானங்கள் மற்றும் செலவுகள் மாத்திரம் பதிவு செய்யப்படும்.
<ul style="list-style-type: none"> கணக்காண்டின் முடிவில் இறுதி காச மீதியைக் காட்டும். 	<ul style="list-style-type: none"> இறுதி மீதி வருமான மிகையினை அல்லது வருமான குறைவினைக் காட்டும்.
<ul style="list-style-type: none"> காச அடிப்படையில் தயார் செய்யப்படும். 	<ul style="list-style-type: none"> அட்டுறு அடிப்படையில் தயார் செய்யப்படும்.

(1 x 2 = 02 புள்ளிகள்)

(i)

(அ) ரூபா. 138 000

(01 புள்ளி)

$$230 \times 600 = 138\,000$$

(1/2) (1/2)

(ஆ) ரூபா. 150 000

$$250 \times 600 = 150\,000$$

(1/2) (1/2)

(01 புள்ளி)

iii (அ)

ஆதியா சில்லறை வணிகத்தின்
31.12.2022 இல் முடிவடைந்த ஆண்டுக்கான வியாபார இலாப நடட கணக்கு $\frac{1}{2}$

	ரூபா.	ரூபா.		ரூபா.	ரூபா.
01/01/2022 சரக்கிருப்பு		80000	விற்பனை		538000
கொள்வனவு	360000				
+ உள்வந்த வண்டி கூலி	18000	378000			
விற்க தயாராக இருந்த சரக்கின் பெறுமதி		458000			
- 31/12/22 இல் சரக்கிருப்பு		(48000)	$\frac{1}{2}$		
விற்பனைக் கிரயம்		410000	$\frac{1}{2}$		
மொத்த இலாபம் கீ.கொ.செ		128000			
		538000			538000
விநியோகச் செலவுகள்			மொத்த இலாபம் கீ.கொ.வ		128000 $\frac{1}{2}$
விநியோகச் செலவுகள்	6000				
விளம்பரசர் செலவுகள்	6300	12300			
நீடுவாகச் செலவுகள்					
மின்சார கட்டணங்கள்	14000 $\frac{1}{2}$				
இயந்திர பெறுமானத் தேய்வு	20000 $\frac{1}{2}$				
கட்டி வாடகை	20000	54000			
நிதிச் செலவுகள்					
வங்கிக் கடன் வட்டி	8000 $\frac{1}{2}$				
வங்கிக் கட்டணங்கள்	2200				
வங்கி மேலதிகப் பற்று வட்டி	500	10700			
தேறிய இலாபம் மூலதனக் கணக்குக்கு மாற்றியது		51000 $\frac{1}{2}$			
		128000			128000

(04 புள்ளிகள்)

(ஆ)

ஆதியா சில்லறை வணிகத்தின்
31.12.2022 இல் உள்ளவாரான ஐந்தொகை

	ரூபா.	ரூபா.		கொள்விலை ரூபா.	திரண்ட பெறுமதி ரூபா.	இறுதி பெறுமதி ரூபா.
மூலதனம் + தேறிய இலாபம்	½	300000 51000 351000	நடைமுறை அல்லாத சொத்து தளப்பாடங்களும் உபகரணங்களும்	180000	-	180000
நடைமுறை அல்லாத பொறுப்பு			இயந்திரங்கள்	200000	20000 ½	180000
8% வங்கிக் கடன்		100000		380000	20000 ½	360000
நடைமுறைப் பொறுப்பு			நடைமுறைச் சொத்து			
கடன் கொடுத்தோர்	50000		சரக்கிருப்பு.		48000 ½	
அட்டுறு வங்கிக் கடன் வட்டி	8000 ½		கடன்பட்டோர்		70000	
சென்மதி மின்சார வட்டணம்	2000 ½		காசு.		45000	163000
வங்கி மேலதிகப் பற்று	12000	72000				
		523000				523000

(04 புள்ளிகள்)

Q 7	(i)	(ii)		(iii)		12
		அ	ஆ	அ	ஆ	
	02	01	01	04	04	12

(ii) (அ)

ஆதியா சில்லறை வணிகத்தின்
31.12.2022 இல் முடிவடைந்த ஆண்டுக்கான இலாப நடடக் கூற்று $\frac{1}{2}$

	தொகை ரூபா	தொகை ரூபா	தொகை ரூபா
விற்பனை			800000
கழி : விற்பனைக் கிரயம்			
01.01.2022 இல் சரக்கிருப்பு		80000	
கொள்வனவு		360000	
உள்வந்த வண்டிக் கூலி		18000	
விற்க தயாராக இருந்த சரக்கின் பெறுமதி		458000	
கழி : 31/12/2022 இல் சரக்கிருப்பு		(48000) $\frac{1}{2}$	
விற்பனைக் கிரயம்			(410000) $\frac{1}{2}$
மொத்த இலாபம்			128000 $\frac{1}{2}$
விநியோக செலவுகள்			
விநியோக செலவுகள்	6000		
விளம்பர செலவுகள்	6300	12300	
நிறுவனச் செலவுகள்			
மின்வாரக் கட்டணம்	14000 $\frac{1}{2}$		
இயந்திர பெறுமானத் தேய்வு	20000 $\frac{1}{2}$		
கட்டி வாடகை	20000	54000	
நிதியும் ஏனைய செலவுகளும்			
வங்கிக் கடன் வட்டி	8000 $\frac{1}{2}$		
வங்கிக் கட்டணங்கள்	2200		
வங்கி மேலதிகப் பற்று வட்டி	500	10700	(77000)
தேறிய இலாபம் மூலதனக் கணக்குக்கு மாற்றியது			51000 $\frac{1}{2}$
			(04 புள்ளிகள்)

(ஆ)

ஆதித்யா சில்லறை வணிகத்தின் $\frac{1}{2}$
31.12.2022 இல் உள்ளவாரான நிதி நிலைமைக் கூற்று $\frac{1}{2}$

	கிரயம் ரூபா	திரண்ட பெ.தே ரூபா	தேறிய பெறுமதி ரூபா
நடைமுறை அல்லாத சொத்து	180000		180000
தளப்பாடங்களும் உபகரணங்களும்	200000	-	180000
இயந்திரங்கள்		20000 $\frac{1}{2}$	180000
	380000	20000	$\frac{1}{2}$ 360000
நடைமுறை சொத்து			
சரக்கிருப்பு		48000 $\frac{1}{2}$	
கடன் பட்டோர்		70000	
காசு		45000	163000
மொத்த சொத்துக்கள்			523000
உரிமையாண்மை			
மூலதனம்		300000	
+ தேறிய இலாபம்	$\frac{1}{2}$	51000	351000
நடைமுறையல்லாத பொறுப்பு			
8% வங்கிக் கடன்			100000
நடைமுறைப் பொறுப்புகள்			
கடன் கொடுத்தோர்		50000	
அட்டுறு வங்கிக் கடன் வட்டி		8000 $\frac{1}{2}$	
சென்மதி மின்சாரக் கட்டணம்		2000 $\frac{1}{2}$	
வங்கி மேலதிகப் பற்று		12000	72000
மொத்த உரிமையாண்மையும் பொறுப்பும்			523000

(04 புள்ளிகள்)

Q7	(i)	(ii)		(iii)		12
		அ	ஆ	அ	ஆ	
	02	01	01	04	04	12